

BJJ

PROVISIONAL ANSWER KEY

Name of the post	Jailor Group-I (Male), Class-2 in the Gujarat State Jail Service under Home Department
Advertisement No	14/2024-25
Preliminary Test Held On	17-11-2024
Que. No	001-300
Publish Date	19-11-2024
Last Date to Send Suggestion (S)	27-11-2024

Instructions / સૂચના (Physical Submission)

Candidate must ensure compliance to the instructions mentioned below, else objections shall not be considered:-

- 1) All the suggestion should be submitted in prescribed format of suggestion sheet **PHYSICALLY**.
- 2) Question wise suggestion to be submitted in the prescribed format (Suggestion Sheet) published on the website.
- 3) All suggestions are to be submitted with reference to the Master Question Paper with provisional answer key (Master Question Paper), published here with on the website. Objections should be sent referring to the Question, Question No. & options of the Master Question Paper.
- 4) Suggestions regarding question nos. and options other than provisional answer key (Master Question Paper) shall not be considered.
- 5) Objections and answers suggested by the candidate should be in compliance with the responses given by him in his answer sheet. Objections shall not be considered, in case, if responses given in the answer sheet /response sheet and submitted suggestions are differed.
- 6) Objection for each question shall be made on separate sheet. Objection for more than one question in single sheet shall not be considered & treated as Cancelled.
- 7) Only Candidate who is present in the exam entitled to submit the objection/(s).
- 8) Candidate should attach copy of his/her OMR (Answer sheet) with objection/(s).

ઉમેદવારે નીચેની સૂચનાઓનું પાલન કરવાની તકેદારી રાખવી, અન્યથા વાંધા-સૂચન અંગે કરેલ રજૂઆતો ધ્યાને લેવાશે નહીં

- 1) ઉમેદવારે વાંધા-સૂચનો નિયત કરવામાં આવેલ વાંધા-સૂચન પત્રકથી રજૂ કરવાના રહેશે.
- 2) ઉમેદવારે પ્રશ્ન પ્રમાણે વાંધા-સૂચનો રજૂ કરવા વેબસાઈટ પર પ્રસિધ્ધ થયેલ નિયત વાંધા-સૂચન પત્રકના નમૂનાનો જ ઉપયોગ કરવો.
- 3) ઉમેદવારે પોતાને પરીક્ષામાં મળેલ પ્રશ્નપુસ્તિકામાં છપાયેલ પ્રશ્નક્રમાંક મુજબ વાંધા-સૂચનો રજૂ ન કરતા તમામ વાંધા-સૂચનો વેબસાઈટ પર પ્રસિધ્ધ થયેલ પ્રોવિઝનલ આન્સર કી (માસ્ટર પ્રશ્નપત્ર)ના પ્રશ્નક્રમાંક મુજબ અને તે સંદર્ભમાં રજૂ કરવા.
- 4) માસ્ટર પ્રશ્નપત્રમાં નિર્દિષ્ટ પ્રશ્ન અને વિકલ્પ સિવાયના વાંધા-સૂચન ધ્યાને લેવામાં આવશે નહીં.
- 5) ઉમેદવારે જે પ્રશ્નના વિકલ્પ પર વાંધો રજૂ કરેલ છે અને વિકલ્પ રૂપે જે જવાબ સૂચવેલ છે એ જવાબ ઉમેદવારે પોતાની ઉત્તરવહીમાં આપેલ હોવો જોઈએ. ઉમેદવારે સૂચવેલ જવાબ અને ઉત્તરવહીનો જવાબ ભિન્ન હશે તો ઉમેદવારે રજૂ કરેલ વાંધા-સૂચનો ધ્યાને લેવાશે નહીં.
- 6) એક પ્રશ્ન માટે એક જ વાંધા-સૂચન પત્રક વાપરવું. એક જ વાંધા-સૂચન પત્રકમાં એકથી વધારે પ્રશ્નોની રજૂઆત કરેલ હશે તો તે અંગેના વાંધા-સૂચનો ધ્યાને લેવાશે નહીં.
- 7) માત્ર પરીક્ષામાં હાજર રહેલ ઉમેદવાર જ વાંધા-સૂચન રજૂ કરી શકશે.
- 8) ઉમેદવારે વાંધા-સૂચન સાથે પોતાની જવાબવહીની નકલ બિડાણ કરવાની રહેશે.

Website link for prescribed format (Suggestion Sheet):

http://gpsc.gujarat.gov.in/Documents/AdvertisementDocument/2018-3-20_723.pdf

001. નીચેનામાંથી કયા ગ્રંથમાં આધુનિક દશાંશ પદ્ધતિની ચર્ચા થયેલી છે?
- (A) આર્યભટ્ટીય (B) બૃહત્સંહિતા
(C) પંચસૈદ્ધાંતિક (D) બ્રહ્મસ્ફુટસિદ્ધાંત
002. 'નાગાનંદ, પ્રિયદર્શિકા અને રત્નાવલી' એ ત્રણ નાટકોના રચયિતા કોણ હતા?
- (A) કૃષ્ણ દેવરાય (B) ચંદ્રગુપ્ત બીજો
(C) હર્ષ (D) નરસિંહ વર્મા
003. ગુપ્તકાલીન ભિત્તિચિત્રો માટે સુપ્રસિદ્ધ બુદ્ધની ગુફાઓ નીચેનામાંથી કયા રાજ્યમાં આવેલી છે?
- (A) ઉત્તર પ્રદેશ (B) મધ્ય પ્રદેશ
(C) રાજસ્થાન (D) બંગાળ
004. વેદોને બીજા કયા નામથી ઓળખવામાં આવે છે?
- (A) સ્મૃતિ (B) સૂત્ર
(C) શ્રુતિ (D) શ્રુજય
005. સુપ્રસિદ્ધ કાંસાની પૂતળી સિંધુ સંસ્કૃતિના કયા સ્થળેથી મળી છે?
- (A) હરપ્પા (B) લોથલ
(C) મોહે-જો-દડો (D) કાલીબંગન
006. હરિવંશ નામે પ્રાચીન કૃતિમાં કોનું વર્ણન-નિરૂપણ કરવામાં આવ્યું છે?
- (A) રામ (B) કૃષ્ણ
(C) નરસિંહ (D) બ્રહ્મા
007. ગૌતમ બુદ્ધનો પ્રથમ ઉપદેશ કયા નામે ઓળખાયો?
- (A) દિવ્ય સંદેશ (B) ધર્મચક્ર
(C) ધર્મચક્ર પ્રવર્તન (D) ધર્મોપદેશ
008. "એવું કોઈ શાસ્ત્ર નથી, એવું કોઈ શિલ્પ નથી, એવી કોઈ વિદ્યા નથી, એવું કોઈ કર્મ નથી. કે જે નાટ્યકલામાં ના હોય" આવું વર્ણન કોના કયા ગ્રંથમાં કરવામાં આવ્યું છે?
- (A) નંદીકેશ્વર - 'અભિનય દર્પણ'
(B) હસમુખ બારાડી કૃત - 'નાટક સરીખો નાદર હુન્નર'
(C) ભરત મુનિ - નાટ્યશાસ્ત્ર
(D) ભાગ્ય ચંદ્ર - 'ગોવિંદ સંગીત લીલા વિલાસ'

001. Modern decimal system is discussed in which of the following texts?
(A) Aryabhatia (B) Brihatsamhita
(C) Panch Saidhantika (D) Brahmasfut Siddhanta
002. Who was the composer of the three dramas 'Nagananda', 'Priyadarshika' and 'Ratnavali'?
(A) Krishna Devarai (B) Chandra Gupta 2
(C) Harsh (D) Narasimha Verma
003. Buddha caves, famous for Gupta paintings, are located in which of the following states?
(A) Uttar Pradesh (B) Madhya Pradesh
(C) Rajasthan (D) Bengal
004. By what other name is Vedas known?
(A) Smruti (B) Sutra
(C) Shruti (D) Shrujay
005. From which place of the Indus Civilization is the legendary bronze statue found?
(A) Harappa (B) Lothal
(C) Mohenjo-Daro (D) Kalibangan
006. Who is described in the ancient work called Harivansha?
(A) Rama (B) Krishna
(C) Narasimha (D) Brahma
007. Gautama Buddha's first sermon was known by which name?
(A) Divine Message (B) Dharma Chakra
(C) Dharmachakra pravartan (D) Dharmopadesh (Preaching)
008. "There is no scripture like that, no sculpture like that, no science like that, no karma like that, Drama does not have. In whose book such a description has been made?
(A) Nandikeshwar – Abhinay Darpan
(B) Hasmukh Baradi Krit – 'Natak Sarikho Nadar Hunnar'
(C) Bharata Muni – Natyashastra
(D) Bhagya Chandra – 'Govind Sangeet Leelavilas'

M

009. 2010માં યુનેસ્કોએ નીચેના પૈકી કયા લોકગીત તથા નૃત્યને માનવતાની અમૂર્ત સાંસ્કૃતિક વિરાસતોની સૂચિમાં સ્થાન આપ્યું છે?
- (A) ભાંગડા / ગિદ્દ (B) કાલબેલીયા અને છઉ
(C) ઘૂમ્મર / ગણગોર (D) બિહુ
010. સ્ત્રીઓ દ્વારા રજૂ થતાં 'જનાની ઝુમર' અને પુરુષો દ્વારા રજૂ થતાં 'મદાના ઝુમર' નૃત્ય કયા રાજ્યોના જનજાતિય લોકો દ્વારા થતું લોકપ્રિય પાક કાપણીનું નૃત્ય છે?
- (A) જારખંડ, ઓડિશા, છત્તીસગઢ (B) ઓડીસા અને મણિપુર
(C) રાજસ્થાન, હિમાચલ પ્રદેશ (D) મધ્ય પ્રદેશ, છત્તીસગઢ
011. પોતાના સંદેશનો પ્રચારપ્રસાર માટે હિન્દીનો ઉપયોગ કરનાર પ્રથમ ભક્તિમાર્ગીસંત કોણ હતા?
- (A) તુલસી દાસ (B) કબીર
(C) રામાનંદ (D) દાદુ
012. ગાંધીજી માટે "ગુજરાતનો તપસ્વી" કાવ્ય કયા કવિએ લખ્યું હતું?
- (A) ઝવેરચંદ મેઘાણી (B) કાન્ત
(C) કલાપી (D) ન્હાનાલાલ
013. આ કઠાઈમાં ફૂલ અને અન્ય સુંદર પેટર્ન બનાવવા માટે સફેદ રંગના દોરાનો ઉપયોગ કરવામાં આવે છે અને આ લખનો માં પ્રસિદ્ધ છે.
- (A) કલમકારી (B) ચીકનકારી
(C) ફૂલકારી (D) કસીદા
014. સંયુક્ત રાષ્ટ્રધ્વજમાં જે વૃક્ષની ડાળીઓ બતાવવામાં આવી છે તે વૃક્ષ કયું છે?
- (A) પામ ટ્રી (B) ગુલમહોર ટ્રી
(C) ગુલાબ ટ્રી (D) ઓલિવ ટ્રી
015. ભારતનું સૌથી મોટું વિન્ડફાર્મ કયા રાજ્યમાં આવેલું છે?
- (A) તામિલનાડુ (B) આંધ્રપ્રદેશ
(C) મહારાષ્ટ્ર (D) ગુજરાત
016. "ગેનીમેડ" નામના ચંદ્ર ધરાવતા ગ્રહનું નામ જણાવો.
- (A) ગુરુ (Jupiter) (B) શુક્ર (Venus)
(C) મંગળ (Mars) (D) શનિ (Saturn)
017. નીચેનામાં થી કયો ખડક કોલસો અને પેટ્રોલિયમ ધરાવે છે?
- (A) ગ્રેનાઈટ (B) અગ્નિકૃત
(C) મેટામોર્ફિક (D) જળકૃત

009. In 2010, UNESCO included which of the following folk songs and dances in the list of intangible cultural heritage of humanity?
- (A) Bhangra / Gidda (B) Kalbelia and Chhau
(C) Ghummar / Gangor (D) Bihu
010. 'Janani Jhumar' performed by women and 'Mardana Jhumar' performed by men is a popular harvest ritual dance performed by the tribal people of which states?
- (A) Jharkhand, Odisha, Chhattisgarh (B) Odisha, Manipur
(C) Rajasthan, Himachal Pradesh (D) Madhaya Pradesh, Chhattisgarh
011. Who was the first devotional saint to use Hindi to propagate his message?
- (A) Tulsi Das (B) Kabir
(C) Ramananda (D) Dadu
012. Which poet wrote the poem "Tapaswi of Gujarat" for Gandhiji?
- (A) Zaverchand Meghani (B) Kant
(C) Kalapi (D) Nhanalal (Nanlal)
013. White thread is used to make flowers and other beautiful patterns in this cauldron and this is famous in Lucknow: _____
- (A) Kalamkari (B) Chikankari
(C) Phulkari (D) Kasida
014. Which is the tree whose branches are shown in the United Nations Flag?
- (A) Palm tree (B) Gulmohar tree
(C) Rose tree (D) Olive tree
015. In which state the largest wind farm of India is located?
- (A) Tamil Nadu (B) Andhra Pradesh
(C) Maharashtra (D) Gujarat
016. Name the planet that has a moon called "Ganymede"
- (A) Jupiter (B) Venus
(C) Mars (D) Saturn
017. Which of the following rocks contains coal and petroleum?
- (A) Granite (B) Igneous
(C) Metamorphic (D) Sedimentary

M

018. નીચેનામાંથી કયું એક પૃથ્વીના જીવન સહાયક ઝોન/ક્ષેત્ર તરીકે ઓળખાય છે?
(A) ઈકોસિસ્ટમ (B) જીવમંડળ (બાયોસ્ફિયર)
(C) વાતાવરણ (Atmosphere) (D) બાયોમ (Biome)
019. હિન્દ મહાસાગરમાં સૌથી મોટો ટાપુ કયો છે?
(A) તાસ્માનિયા (B) મડાગાસ્કર
(C) શ્રીલંકા (D) સુમાત્રા
020. ઓઝત, કરનાલ, ઉતાવળી, ફોફલ, મોજ, મુનસર-આ નદીઓ કઈ નદીની સહાયક નદીઓ છે?
(A) શેત્રુંજી (B) ભોગાવો
(C) ભાદર (D) આજી
021. ભારત-પાકિસ્તાન-અફઘાનિસ્તાન સરહદ કયા નામે ઓળખાય છે?
(A) મેનરહીમ લાઈન (B) મેકમોહન લાઈન
(C) રેડકિલફ લાઈન (D) દુરાન્દ લાઈન
022. ગ્રોસ ડોમેસ્ટિક પ્રોડક્ટ (જીડીપી) ને બધાના મૂલ્ય તરીકે વ્યાખ્યાયિત કરવામાં આવે છે....
(A) એક વર્ષમાં અર્થતંત્રમાં ઉત્પાદિત માલ
(B) એક વર્ષમાં અર્થતંત્રમાં ઉત્પાદિત માલ અને સેવાઓ
(C) એક વર્ષમાં અર્થતંત્રમાં ઉત્પાદિત અંતિમ માલ
(D) એક વર્ષમાં અર્થતંત્રમાં ઉત્પાદિત અંતિમ માલ અને સેવાઓ
023. ભારતમાં સેવા ક્ષેત્રનો સમાવેશ થાય છે....
1. ખાણ કામ અને ક્વારીઈંગ (Quarrying)
2. પરિવહન અને સંદેશા વ્યવહાર
3. હોટેલ્સ
4. વન સંવર્ધન અને માછીમારી
નીચે આપેલા કોડમાં થી તમારો સાચો જવાબ પસંદ કરો.
(A) માત્ર 1 અને 2 (B) માત્ર 2 અને 3
(C) માત્ર 3 અને 4 (D) માત્ર 1 અને 4
024. ભારતની પ્રથમ ઈલેક્ટ્રીક ટ્રેન (ડેકન કિવન) કયા સ્ટેશનો વચ્ચે દોડાવવામાં આવી હતી?
(A) કલ્યાણ અને પુણે (B) મુંબઈ અને સુરત
(C) હાવડા અને દિલ્હી (D) દિલ્હી અને ચેન્નાઈ
025. 2011ની વસ્તી ગણતરી મુજબ સૌથી ઓછી વસ્તી ધરાવતું શહેર કયું છે?
(A) બાંસવાડા (રાજસ્થાન) (B) કપૂરથલા (પંજાબ)
(C) નાગદા (મધ્ય પ્રદેશ) (D) ગંગટોક (સિક્કિમ)

018. Which of the following is known as the life supporting zone of the Earth?
(A) Ecosystem (B) Biosphere
(C) Atmosphere (D) Biome
019. Which is the largest island in the Indian Ocean?
(A) Tasmania (B) Madagascar
(C) Sri Lanka (D) Sumatra
020. Ozat, Karnal, Utavali, Fofal, Moj, Munsar – these rivers are tributaries of which river?
(A) Shetrunji (B) Bhogavo
(C) Bhadar (D) Aji
021. India-Pakistan-Afghanistan border is known by which name?
(A) Mannerheim Line (B) McMahon Line
(C) Radcliffe Line (D) Durand Line
022. Gross Domestic Product (GDP) is defined as the value of all
(A) goods produced in an economy in a year
(B) goods and services in an economy in a year
(C) final goods produced in an economy in a year
(D) final goods and services produced in an economy in a year
023. In India service sector includes
1. Mining and Quarrying
2. Transport and communication
3. Hotels
4. Forestry and Fishing
Select your correct answer from the codes given below:
(A) Only 1 and 2 (B) Only 2 and 3
(C) Only 3 and 4 (D) Only 1 and 4
024. The first electric train (Deccan Queen) of India was run between _____
(A) Kalyan and Pune (B) Mumbai and Surat
(C) Howrah and Delhi (D) Delhi and Chennai
025. Which is the least populated city in India according to the 2011 Census?
(A) Banswara (Rajasthan) (B) Kapurthala (Punjab)
(C) Nagda (M.P.) (D) Gangtok (Sikkim)

M

026. 'હરિયાણી ક્રાંતિ' શબ્દનો ઉપયોગ ઉચ્ચ ઉત્પાદન દ્વારા દર્શાવવા માટે કરવામાં આવ્યો છે....
- (A) ઘાસના મેદાનોની રચના (B) વધુ વૃક્ષો વાવવા
(C) શહેરી વિસ્તારોમાં બગીચાઓનું નિર્માણ (D) પ્રતિ હેક્ટર કૃષિ ઉત્પાદકતામાં વધારો
027. FDI નો સંદર્ભ....
- (A) ફિક્સ્ડ ડિપોઝિટ વ્યાજ (B) ફિક્સ્ડ ડિપોઝિટ રોકાણ
(C) વિદેશી પ્રત્યક્ષ રોકાણ (D) ફ્યુચર ડિરાઈવેટિવ ઈન્વેસ્ટમેન્ટ
028. BIO ઈન્ટરનેશનલ કન્વેન્શન 2024ની થીમ શું હતી?
- (A) ટાઈમ ફોર મેક લાઈફ વેલ (B) ટાઈમ ફોર સાયન્સ ટુ શાઈન
(C) ટાઈમ ફોર સાયન્સ ટુ સસ્ટેનેબલ (D) ટાઈમ ફોર કન્સર્વ ધ બાયોટેક
029. પવનનો વેગ શેના દ્વારા માપવામાં આવે છે?
- (A) બેરો મિટર (B) એનીમોમિટર
(C) હાઈડ્રોમિટર (D) વિન્ડ વેન
030. નીચેનામાંથી કઈ ધાતુઓની જોડી ગરમીના ખૂબ સારા વાહક છે?
- (A) સિલ્વર અને કોપર (B) સિલ્વર અને સીસું (Lead)
(C) કોપર અને પારો (Mercury) (D) સીસું અને પારો (Lead and Mercury)
031. સેમિકંડક્ટરની પ્રતિકારકતા આના પર આધાર રાખે છે:
- (A) સેમિકંડક્ટરનો આકાર (B) સેમિકંડક્ટરની લંબાઈ
(C) સેમિકંડક્ટરની અણુ પ્રકૃતિ (D) સેમિકંડક્ટરનો આકાર અને અણુ પ્રકૃતિ
032. નો ઉપયોગ મેમરીમાં સંગ્રહિત ડિજિટલ ઈમેજ બનાવવા માટે હસ્તલિખિત અથવા મુદ્રિત ટેક્સ્ટને વાંચવા માટે થાય છે.
- (A) પ્રિન્ટર (B) લેસર બીમ
(C) સ્કેનર (D) ટચ પેડ
033. ઈલેક્ટ્રીક બલ્બમાં ટંગસ્ટેન વાયર સાથે આર્ગોન ગેસ શા માટે વપરાય છે?
- (A) બલ્બનું આયુષ્ય વધારવું
(B) વીજળીનો વપરાશ ઘટાડવા માટે
(C) ઉત્સર્જિત પ્રકાશને રંગીન બનાવવો
(D) બલ્બની કિંમત ઘટાડવા માટે
034. જીવતંત્રની આંતરિક રચનાના અભ્યાસને શું કહે છે?
- (A) મોર્ફોલોજી (Morphology) (B) શરીર રચના (Anatomy)
(C) હીસ્ટોલોજી (Histology) (D) સાયટોલોજી (Cytology)

026. The term 'Green Revolution' has been used to indicate higher production through
(A) creation of grasslands
(B) planting more trees
(C) creation of gardens in urban areas
(D) enhanced agricultural productivity per hectare
027. FDI refers to _____
(A) Fixed Deposit Interest
(B) Fixed Deposit Investment
(C) Foreign Direct Investment
(D) Future Derivative Investment
028. What was the theme of BIO International Convention 2024?
(A) Time for Make Life Well
(B) Time for Science to Shine
(C) Time for Science to Sustainable
(D) Time for Conserve the Biotech
029. The velocity of wind is measured by
(A) Barometer
(B) Anemometer
(C) Hydrometer
(D) Wind Vane
030. Which one of the following pairs of metals are very good conductors of heat?
(A) Silver and Copper
(B) Silver and Lead
(C) Copper and Mercury
(D) Lead and Mercury
031. Resistivity of semiconductor depends on:
(A) shape of semiconductor
(B) length of semiconductor
(C) atomic nature of semiconductor
(D) shape and atomic nature of semiconductor
032. A _____ is used to read handwritten or printed text to make a digital image that is stored in memory.
(A) Printer
(B) Laser beam
(C) Scanner
(D) Touch pad
033. Why is argon gas used along with tungsten wire in an electric bulb?
(A) To increase the life of the bulb
(B) To reduce the consumption of electricity
(C) To make the emitted light coloured
(D) To reduce the cost of the bulb
034. What is the study of internal structure of organism called?
(A) Morphology
(B) Anatomy
(C) Histology
(D) Cytology

035. RAW (રિસર્ચ અને એનાલિસિસ વિંગ)ના નવા ચીફ તરીકે કોની નિમણૂક કરવામાં આવી છે?
- (A) અરવિંદ કુમાર (B) સામંત ગોયલ
(C) રવી સિંહા (D) આલોક વર્ધન
036. ભારતીય કોસ્ટ ગાર્ડ માટે લોન્ચ કરેલ ઓફશોર પેટ્રોલ વેસલ (OPV) શીપને શું નામ આપવામાં આવેલ છે?
- (A) નિશાંત (B) નેત્ર
(C) સાર્થક (D) સારસ
037. રાજ્યપાલને ન્યાયિક સત્તા અંતર્ગત પ્રાપ્ત થયેલો આ અધિકાર નથી.
- (A) રાજ્યના ઉચ્ચ ન્યાયાલયમાં (ન્યાયાધીશની) નિમણૂક અંગે રાષ્ટ્રપતિ દ્વારા તેમનું પરામર્શન મેળવવામાં આવવું જોઈએ.
(B) ક્ષમાદાન
(C) મૃત્યુદંડ ક્ષમાદાન
(D) દંડ માફ કરવો અથવા સજા સ્થગિત કરવી
038. નીચેનામાંથી કયું વિધાન સંવિધાનના સુધારાલક્ષી પ્રક્રિયા સંદર્ભે ખોટું છે?
- (A) સુધારા માટે પ્રસ્તુત થયેલ ખરડો માત્ર લોકસભામાં જ પસાર કરી શકાય છે.
(B) સંસદના બંને ગૃહોમાં ખરડો સ્વતંત્રપણે પસાર કરવામાં આવે છે .
(C) ખરડાને પસાર કરવા માટે રાષ્ટ્રપતિની મંજૂરી જરૂરી હોય છે.
(D) વિધેયક પસાર કરવાના પ્રત્યેક તબક્કે વિશિષ્ટ બહુમતી જરૂરી છે.
039. નીચેનામાંથી કયો કેસ નીતિ નિર્દેશક સિદ્ધાંતો અને કાયદા સમક્ષ સમાનતાના સિદ્ધાંતને લગતો છે?
- (A) અહમદખાન વિરુદ્ધ શાહબાનો કેસ
(B) વિશાખા વિરુદ્ધ રાજસ્થાન રાજ્ય કેસ
(C) ઓલ્ગા ટેલિસ વિરુદ્ધ મુંબઈ બૃહદપાલિકા કેસ
(D) મેનકા ગાંધી વિરુદ્ધ ભારતીય સંઘ કેસ
040. રાજ્યમાં અનુસુચિત જાતિઓની જ્ઞાતિઓ, જાતિઓ વગેરે તથા અનુસુચિત જનજાતિઓના આદિવાસી સમુદાયોને નક્કી કરવા કોણ અધિકૃત છે?
- (A) અનુ. જાતિ અને અનુ. જન જાતિ રાષ્ટ્રીય આયોગો (B) કેન્દ્રીય મંત્રીમંડળ
(C) રાજ્યપાલ સાથે પરામર્શ કર્યા પછી રાષ્ટ્રપતિ (D) વડાપ્રધાન
041. નીચેના કાર્યોમાંથી કયું કાર્ય ભારતીય નિર્વાચન આયોગ (ચૂંટણી પંચ)નું નથી?
- (A) રાજ્ય વિધાનસભાઓની ચૂંટણીનું સંચાલન
(B) રાષ્ટ્રપતિ તથા ઉપરાષ્ટ્રપતિની ચૂંટણીનું સંચાલન
(C) લોકસભાના અધ્યક્ષ તથા ઉપાધ્યક્ષની ચૂંટણીનું સંચાલન
(D) લોકસભા અથવા વિધાનસભાની ચૂંટણી પહેલા મતદાર યાદીઓ નક્કી કરવી.

035. Who has been appointed as the new chief of RAW (Research and Analysis Wing)?
(A) Arvind Kumar (B) Samant Goel
(C) Ravi Sinha (D) Alok Vardhan
036. What is the name given to the Offshore Patrol Vessel (OPV) ship launched for the Indian Coast Guard?
(A) Nishant (B) Netra
(C) Sarthak (D) Saras
037. Judicial power of the Governor does not include the right to
(A) be consulted by the President about appointment of the State High Court
(B) grant pardon
(C) Pardon death sentence
(D) remit punishment or suspend the sentence
038. Which statement is incorrect about the amendment process?
(A) Introduction of the amendment Bill can be done only in the Lok Sabha
(B) Both Houses are to pass the Bill separately
(C) President's assent to the Bill is required
(D) Special majority at every stage of passing the Bill
039. In which case, the directive principles of equality before law were dealt in?
(A) Ahmad Khan v. Shah Bano
(B) Vishakha v. State of Rajasthan
(C) Olga Tellis v. Bombay Municipal Corporation
(D) Menaka Gandhi v. Union of India
040. Who is empowered to specify the castes, races etc. in SCs and tribal communities among STs in a state?
(A) National Commissions for SCs/STs
(B) Union Cabinet
(C) President after consultation with Governor
(D) Prime Minister
041. Which of the following is not the function of the Election Commission of India?
(A) conduct election of the State Assemblies
(B) conduct election of the President and Vice-President
(C) conduct election for the posts of Speaker and Deputy Speaker
(D) fixing electoral rolls before Lok Sabha or Assembly election

042. જાહેર સેવા આયોગના સલાહકાર રૂપેના કયા કાર્યો છે?
- (A) ભરતી અંગેની બાબતો
(B) નાગરિક સેવામાં નિમણૂંક અંગેના નિયમો
(C) નાગરિક સેવાના નોકરિયાતોને સ્પર્શતી શિસ્તની બાબતો
(D) ઊપરોક્ત તમામ
043. નીચેનામાંથી કઈ બાબત સહવર્તી સૂચિમાં સમાવિષ્ટ થાય છે?
- (A) વેપાર વાણિજ્ય
(B) સ્ટેમ્પડ્યૂટી
(C) માલનું ઉત્પાદન અને વિતરણ
(D) ઉક્ત (A) અને (B) બંને
044. ભારતના બંધારણમાં જાહેરહિતની અરજી (PIL)ની સંકલ્પના કયા દેશ પાસેથી લેવામાં આવી છે?
- (A) યુ.કે.
(B) યુ.એસ.એ.
(C) કેનેડા
(D) ઓસ્ટ્રેલિયા
045. 'લીબેરો' કઈ રમત સાથે સંબંધિત છે?
- (A) કબ્બડી
(B) ખો-ખો
(C) બાસ્કેટબૉલ
(D) વોલીબૉલ
046. પેરિસ ખાતેના પેરાલિમ્પિક રમતોમાં પ્રવિણ કુમાર કઈ રમતમાં સુવર્ણચંદ્રક વિજેતા થયા હતા?
- (A) કલબ શ્રો
(B) બેડમિન્ટન
(C) હાઈ જમ્પ
(D) શૂટિંગ
047. તાજેતરમાં કયા રાજ્ય દ્વારા કન્યા કેળવણીને પ્રોત્સાહન આપવા માટે “મુખ્ય મંત્રી નિજુત મોઈના” યોજના શરૂ કરાઈ હતી?
- (A) કર્ણાટક
(B) આસામ
(C) કેરલ
(D) આંધ્રપ્રદેશ
048. તાજેતરમાં કોણ ઈન્ટર નેશનલ ચેમ્બર ઓફ કોમર્સના પ્રથમ વાઈસ ચેરમેન તરીકે ચૂંટાયા છે?
- (A) હર્ષપતિ સિંધાનીયા
(B) જ્યોતિ વિજ
(C) સુનિલ ભારતી મિત્તલ
(D) રાકેશ મોહન જોશી
049. તાજેતરમાં કયા રાજ્યનું મુખ્ય મથક ભારતનું સૌ પ્રથમ ઈકો-ફ્રેન્ડલી મુખ્ય મથક બન્યું છે?
- (A) રાંચી, જારખંડ
(B) ગુવાહાટી, આસામ
(C) ગાંધીનગર, ગુજરાત
(D) ભોપાલ, મધ્ય પ્રદેશ
050. વર્ષ 2024ના આંતર રાષ્ટ્રીય યોગ દિવસની ઉજવણીની થીમ શું હતી?
- (A) 'યોગ ફોર વેલનેસ'
(B) 'યોગ ફોર વસુધૈવ કુટુંબકમ'
(C) 'યોગ ફોર મેડિટેશન એન્ડ મેન્ટલ હેલ્થ'
(D) 'યોગ ફોર સેલ્ફ એન્ડ સોસાયટી'

042. What are the advisory functions of the Public Service Commission?
(A) on matters of recruitment
(B) principles of appointments to civil services
(C) disciplinary matters affecting civil servants
(D) all of the above
043. Which of the following is/are included in the Concurrent List?
(A) Trade and Commerce (B) Stamp Duty
(C) Production and distribution of goods (D) Both (A) and (B)
044. The concept of the public interest litigation (PIL) in the Constitution of India is taken from which country?
(A) U.K. (B) U.S.A.
(C) Canada (D) Australia
045. 'Libero' is related to which game?
(A) Kabaddi (B) Kho-Kho
(C) Basketball (D) Volleyball
046. In which sport did Pravin Kumar win the gold medal at the Paralympic Games at Paris?
(A) Club throw (B) Badminton
(C) High jump (D) Shooting
047. Which state recently launched "Chief Minister Nijut Moina" scheme to promote girl child education?
(A) Karnataka (B) Assam
(C) Kerala (D) Andhra Pradesh
048. Who has been recently elected as the first vice-chairman of the International Chamber of Commerce?
(A) Harshapati Sindhania (B) Jyoti Vij
(C) Sunil Bharati Mittal (D) Rakesh Mohan Joshi
049. Which state headquarter has recently become India's first 'Eco-friendly' headquarter?
(A) Ranchi, Jharkhand (B) Guwahati, Assam
(C) Gandhinagar, Gujarat (D) Bhopal, Madhya Pradesh
050. What was the theme of the International Yoga Day celebrations of the year 2024?
(A) 'Yoga for Wellness'
(B) 'Yoga for Vasudhaiva kutumbakam'
(C) 'Yoga for Meditation and Mental Health'
(D) 'Yoga for Self and Society'

M

051. ઘડિયાળના તમામ અંકને 1 ને બદલે A, 2 ને બદલે B, 3 ને બદલે C તેમ ક્રમમાં બદલવામાં આવે, તો 7:25 કલાકે નાનો કાંટો કયા બે અક્ષર વચ્ચે હશે?
- (A) H અને I (B) E અને F
(C) G અને H (D) F અને G
052. 50 વિદ્યાર્થીઓની સીધી લાઈનમાં પાર્વતી ડાબી બાજુથી 18માં ક્રમે છે. શિક્ષક દ્વારા ફેરફાર સૂચવાતાં પાર્વતી, જમણી બાજુએ 22માં ક્રમે ઉભેલી અંબિકાનું સ્થાન લે છે. હવે પાર્વતીનું સ્થાન ડાબી બાજુએથી કયા નંબરે હશે?
- (A) 31 (B) 29
(C) 30 (D) એક પણ નહિ
053. એક વ્યક્તિ ઉત્તર તરફ 10 કિ.મી. મુસાફરી કરે છે. ત્યાંથી 12 કિ.મી. પૂર્વ તરફ જાય છે. ત્યાંથી 12 કિ.મી. પશ્ચિમ તરફ જાય છે. ત્યાંથી 18 કિ.મી. દક્ષિણ તરફ જાય છે. તો તે પોતાના પ્રારંભિક બિંદુથી કેટલા કિ.મી. દુર હશે?
- (A) 8 કિ.મી. (B) 12 કિ.મી.
(C) 10 કિ.મી. (D) 18 કિ.મી.
054. નીચેમાંથી સાચો વિકલ્પ શોધો.
AB, BA, ABC, CBA, ABCD, _____?
- (A) DCBA (B) BACD
(C) CABD (D) DBAC
055. જો અંગ્રેજી મૂળાક્ષરો A, B, C, D, ___ ને ઉલ્ટા ક્રમમાં ગોઠવવામાં આવે તો Q અને I મૂળાક્ષરોમાં બરાબર મધ્યમાં કયો મૂળાક્ષર આવશે?
- (A) M (B) L
(C) N (D) O
056. જો DELHI = 73541 અને CALCUTTA = 82589662 તો CALICUT બરાબર કેટલા થાય?
- (A) 5278013 (B) 5279431
(C) 8251896 (D) 8543691
057. જો + એટલે \times , - એટલે \div , \times એટલે - અને \div એટલે + હોય, તો
 $20 \div 40 - 8 \times 5 + 3 = \underline{\quad}$?
- (A) 10 (B) 18
(C) 20 (D) 60
058. A, R ના પિતા છે. V, A નો ભાઈ છે. D, R નો ભાઈ છે. જો I, A ના પિતા હોય, તો D અને V વચ્ચે સંબંધ શુ થાય?
- (A) ભાઈ અને નાનોભાઈ (B) ભત્રીજો અને કાકા
(C) પુત્ર અને પિતા (D) એક પણ નહિ

051. If all the digits of the clock are replaced by A instead of 1, B instead of 2, C instead of 3, then at 7:25 hours the small hand will be between which two letters?
 (A) H and I (B) E and F
 (C) G and H (D) F and G
052. Parvati is 18th from the left in a straight line of 50 students. As the teacher suggests a change, Parvati takes the place of Ambika, who is standing at number 22nd on the right. Now Parvati's position will be at which number from the left?
 (A) 31 (B) 29
 (C) 30 (D) None of the above
053. A person travels 10 km towards north. From there he goes 12 km towards east. From there he goes 12 km towards west. From there he goes 18 km south. So how many km will he be from his starting point?
 (A) 8 km (B) 12 km
 (C) 10 km (D) 18 km
054. Find the correct option from the below.
 AB, BA, ABC, CBA, ABCD, _____?
 (A) DCBA (B) BACD
 (C) CABD (D) DBAC
055. If English alphabets A, B, C, D, _____ are arranged in reverse order, which letter will come exactly in the middle of Q and I alphabet?
 (A) M (B) L
 (C) N (D) O
056. If DELHI = 73541 and CALCUTTA = 82589662 then how much is CALICUT?
 (A) 5278013 (B) 5279431
 (C) 8251896 (D) 8543691
057. If + means \times , - means \div , \times means - and \div means +, then
 $20 \div 40 - 8 \times 5 + 3 = \underline{\hspace{2cm}}$?
 (A) 10 (B) 18
 (C) 20 (D) 60
058. A is the father of R. V is the brother of A. D is the brother of R. If I is the father of A, D and V are related as
 (A) Brother and younger brother (B) Nephew and uncle
 (C) Son and Father (D) None

059. એક કિલ્લામાં 35 દિવસ ચાલે તેટલું અનાજ ઉપલબ્ધ છે. જો 5 દિવસ પછી 450 વધુ વ્યક્તિઓ કિલ્લામાં આવે તો અનાજ 20 દિવસ જ ચાલે છે. તો કિલ્લામાં શરૂઆતમાં કેટલા વ્યક્તિઓ હશે?

- (A) 900 વ્યક્તિઓ (B) 1350 વ્યક્તિઓ
(C) 350 વ્યક્તિઓ (D) 675 વ્યક્તિઓ


060. એક ડબ્બામાં 4 લાલ, 3 પીળા અને 3 વાદળી રંગના દડા છે, જો ડબ્બામાંથી કોઈપણ બે દડા કાઢવામાં આવે તો, તે બંને દડા સરખા રંગના હોય તેની સંભાવના શોધો.

- (A) $\frac{4}{15}$ (B) $\frac{4}{5}$ (C) $\frac{1}{3}$ (D) $\frac{3}{5}$

061. મીનાબેન અને તેમની બે પુત્રીઓ રીટા અને ગીતા ત્રણેયની હાલની ઉંમરનો સરવાળો 62 વર્ષ છે, મીનાબેનની હાલની ઉંમર 36 વર્ષ હોય તો 4 વર્ષ પછી ત્રણેયની ઉંમર કેટલી હશે?

- (A) મીનાબેનની 40 વર્ષ, રીટા 18 વર્ષ, ગીતા 15 વર્ષ
(B) મીનાબેનની 40 વર્ષ, રીટા 18 વર્ષ, ગીતા 11 વર્ષ
(C) મીનાબેનની 36 વર્ષ, રીટા 13 વર્ષ, ગીતા 11 વર્ષ
(D) મીનાબેનની 38 વર્ષ, રીટા 14 વર્ષ, ગીતા 10 વર્ષ

062. નીચે આપેલ આકૃતિમાં ત્રિકોણ કેટલા છે?



- (A) 22 (B) 28 (C) 26 (D) 24

063. છ વ્યક્તિઓ A, B, C, D, E અને F ગોળ ટેબલના ફરતે ટેબલના કેન્દ્ર તરફ મોં રાખીને બેઠા છે.

1. A અને F ની વચ્ચે C બેઠો છે.
 2. E ને જમણે એક જગ્યા છોડીને B બેઠો છે.
 3. F ના ડાબે એક જગ્યા છોડીને D બેઠો છે.
- તો A ની સામે કોણ બેઠું છે?

- (A) E (B) D (C) C (D) એક પણ નહિ

064. નીચેની સંખ્યાનો મધ્યસ્થ શોધો.

5, 15, 20, 9, 10, 45, 30, 95, 120

- (A) 15 (B) 20 (C) 45 (D) 30

065. તર્કસંગત ક્રમમાં ગોઠવો: 1. ફોગ (દેડકો), 2. ઈગલ (ગરૂડ), 3. ગ્રાસહોપર (તીડ) 4. સ્નેક (સાપ), 5. ગ્રાસ (ઘાસ)

- (A) 1, 5, 3, 2, 4 (B) 3, 4, 2, 5, 1
(C) 5, 3, 1, 4, 2 (D) 5, 3, 4, 2, 1

059. A fort has enough grain available to last 35 days. If 450 more persons arrive in the fort after 5 days, the grain lasts only 20 days. So how many persons will there be in the fort initially?

- (A) 900 persons (B) 1350 persons
(C) 350 persons (D) 675 persons


060. A box contains 4 red, 3 yellow and 3 blue balls, if any two balls are drawn randomly from the box, find the probability that both the balls are of same color.

- (A) $\frac{4}{15}$ (B) $\frac{4}{5}$ (C) $\frac{1}{3}$ (D) $\frac{3}{5}$

061. The sum of the present ages of Meenaben and her two daughters Rita and Geeta is 62 years. If the present age of Meenaben is 36 years, what will be the ages of the three after 4 years?

- (A) Meenaben 40 years, Rita 18 years, Geeta 15 years
(B) Meenaben 40 years, Rita 18 years, Geeta 11 years
(C) Meenaben 36 years, Rita 13 years, Geeta 11 years
(D) Meenaben 38 years, Rita 14 years, Geeta 10 years

062. How many triangles are there in the figure given below?



- (A) 22 (B) 28 (C) 26 (D) 24

063. Six persons A, B, C, D, E and F are sitting around a round table facing the center of the table.

1. C is sitting between A and F.
2. B is sitting leaving one space to E's right.
3. D sits leaving one space to the left of F.

So, who is sitting in front of A?

- (A) E (B) D (C) C (D) None of the above

064. Find the median of the following numbers.

5, 15, 20, 9, 10, 45, 30, 95, 120

- (A) 15 (B) 20 (C) 45 (D) 30

065. Arrange in logical order: 1. Frog, 2. Eagle, 3. Grasshopper, 4. Snake, 5. Grass

- (A) 1, 5, 3, 2, 4 (B) 3, 4, 2, 5, 1
(C) 5, 3, 1, 4, 2 (D) 5, 3, 4, 2, 1

066. ગીતા પોતાના મહાનિબંધ પર સળંગ 8 દિવસ કામ કરે છે અને દર નવમે દિવસે વિરામ લે છે. જો તેણીએ સોમવારે કામ શરૂ કર્યું હોય તો તેણી છઠ્ઠીવાર નો વિરામ અઠવાડિયા ના કયા વારે લેશે?

- (A) રવિવાર (B) શુક્રવાર
(C) બુધવાર (D) ગુરૂવાર

067. આપેલી શ્રેણી 201, 208, 215,....., 369 માં કેટલા પદો છે?

- (A) 23 (B) 24
(C) 25 (D) 26

068. એક બાળક તેના પિતાને શોધી રહ્યો છે. તેની જમણી તરફ વળતા પહેલા તે પૂર્વમાં 90 મીટર ગયો. તે આ બિંદુથી 30 મીટર દૂર તેના કાકાના સ્થાને તેના પિતાને શોધવા માટે ફરીથી તેની જમણી તરફ વળતા પહેલા 20 મીટર ગયો. તેના પિતા ત્યાં ન હતા. અહીંથી તે તેના પિતાને શેરીમાં મળતા પહેલા તેના ઉત્તર તરફ 100 મીટર ગયો. દીકરો તેના પિતાને શરૂઆતના બિંદુથી કેટલા દૂર મળ્યો?

- (A) 80 Metres (B) 100 Metres
(C) 140 Metres (D) 260 Metres

069. નીચેનામાંથી કઈ આકૃતિ વર્ગો વચ્ચેના સંબંધને યોગ્ય રીતે રજૂ કરે છે: ટેનિસ ચાહકો, ક્રિકેટ ખેલાડીઓ, વિદ્યાર્થીઓ?

- (A)  (B) 
(C)  (D) 

070. જો એક શબ્દ 'STETHOPHONE' ના ત્રીજા, છઠ્ઠા, સાતમા અને દસમા અક્ષરો વડે અર્થપૂર્ણ શબ્દ બનાવવો શક્ય હોય તો તે શબ્દનો પ્રથમ અક્ષર જવાબ તરીકે લખો. જો આવો કોઈ શબ્દ ન બનાવી શકાય, તો જવાબ તરીકે 'X' આપો, જો એક કરતા વધુ શબ્દ બની શકતા હોય તો જવાબ તરીકે 'M' આપો.

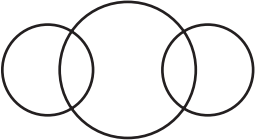

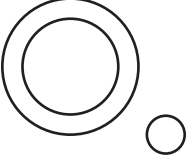

- (A) M (B) X
(C) O (D) P

071. એક જૂથમાં છે 21 બાળકો, 35 મહિલાઓ અને 49 પુરૂષ તેઓ બધા એક જ હોટલમાં રહેવા માંગે છે. તેમના રોકાણ માટે જરૂરી રૂમની ન્યૂનતમ સંખ્યા શોધો, જેથી દરેક રૂમમાં સમાન સંખ્યામાં સભ્યો એ શરત સાથે રહે કે બાળકો, સ્ત્રી અને પુરૂષ અલગ-અલગ રૂમમાં રહે.

- (A) 16 (B) 15 (C) 14 (D) 12

072. જો કોઈ ટીમના 133 ખેલાડીઓના રનની સરેરાશ 38 છે. જો પુરુષ ખેલાડીઓના રનની સરેરાશ 43 અને મહિલા ખેલાડીઓના રનની સરેરાશ 24 છે, તો પુરૂષ ખેલાડીઓ અને મહિલા ખેલાડીઓના કુલ રન નો ગુણોત્તર અનુક્રમે શું હશે?

- (A) 301 : 60 (B) 7 : 3 (C) 39 : 11 (D) 60 : 207

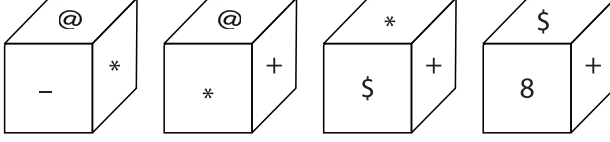
066. Geeta works on her dissertation for 8 consecutive days and takes a break every 9th Day. If she started her work on Monday, what time of the week will she take her 6th break?
 (A) Sunday (B) Friday
 (C) Wednesday (D) Thursday
067. How many terms are there in the series 201, 208, 215, _____, 369?
 (A) 23 (B) 24
 (C) 25 (D) 26
068. A child is looking for his father. He went 90 metres in the east before turning to his right. He went 20 metres before turning to his right again to look for his father at his uncle's place 30 metres from this point. His father was not there. From here he went 100 metres to his north before meeting his father in a street. How far did the son meet his father from the starting point?
 (A) 80 Metres (B) 100 Metres
 (C) 140 Metres (D) 260 Metres
069. Which one of the following diagrams correctly represents the relationship among the classes: Tennis fans, Cricket players, Students?
 (A)  (B) 
 (C)  (D) 
070. If it is possible to make a meaningful word with the third, the sixth, the seventh and the tenth letters of the word STETHOPHONE, write first letter of that word as the answer. If no such word can be made, give 'X' as the answer, if more than one word can be made, give 'M' as the answer?
 (A) M (B) X
 (C) O (D) P
071. In a group there are 21 children, 35 ladies and 49 gents. They all want to stay in the same hotel. Find the minimum number of rooms required for their stay so that in each room equal number of members stay with the condition that children, female and male stay in separate rooms.
 (A) 16 (B) 15 (C) 14 (D) 12
072. The average runs of 133 players of a team is 38. If the average runs of the male players is 43 and the average runs of the female players is 24, then what will be the ratio of the total runs of male players and the total runs of female players respectively?
 (A) 301 : 60 (B) 7 : 3
 (C) 39 : 11 (D) 60 : 207

M

073. એક સંખ્યા જ્યારે 18 વડે ભાગવામાં આવે ત્યારે 15 શેષ બાકી રહે છે. જ્યારે તે જ સંખ્યાને 6 વડે ભાગવામાં આવે ત્યારે તે સંખ્યાની શેષ કેટલી બાકી રહેશે?

- (A) 3 (B) 2 (C) 1 (D) 4

074. “*” ચિહ્નવાળા બાજુની વિરુદ્ધ (સામેની) બાજુ પર કયું પ્રતીક હશે?



- (A) @ (B) \$ (C) 8 (D) +

075. જો શહેર A થી B ની બે ટિકિટ અને શહેર A થી C ની ત્રણ ટિકિટની કિંમત રૂ. 77 છે પરંતુ શહેર A થી B ની ત્રણ ટિકિટ અને શહેર A થી C ની બે ટિકિટ રૂ. 73 છે. તો A થી B અને C શહેરોનું ભાડુ શું હશે?

- (A) Rs. 4, Rs. 23 (B) Rs. 13, Rs. 17
(C) Rs. 15, Rs. 14 (D) Rs. 17, Rs. 13

076. બે ટ્રેનો 60 કિમી/કલાક અને 90 કિમી/કલાકની ઝડપે વિરુદ્ધ દિશામાં આગળ વધી રહી છે. તેમની લંબાઈ અનુક્રમે 1.10 કિમી અને 0.9 કિમી છે. ધીમી ટ્રેન દ્વારા ઝડપી ટ્રેનને પાર કરવામાં કેટલો સમય લાગશે?

- (A) 36 sec (B) 45 sec (C) 48 sec (D) 40 sec

077. જો $x = \frac{\sqrt{3}+1}{\sqrt{3}-1}$ અને $y = \frac{\sqrt{3}-1}{\sqrt{3}+1}$ હોય તો $(x^2 + y^2)$ બરાબર:

- (A) 10 (B) 13 (C) 14 (D) 15

078. જો કોઈ એક વસ્તુ ને વેચતા મળેલ ટકાવારી નફો રૂ.1920 હોય તો તેજ વસ્તુ ને વેચતા મળેલ ટકાવારી નુકશાન રૂ.1280 ને સમાન હોય તો, તે વસ્તુ પર 25% નફો મેળવવા માટે કયા ભાવે વેચવી જોઈએ?

- (A) રૂ. 2000 (B) રૂ. 2200 (C) રૂ. 2400 (D) રૂ. 2250

079. એક પાણીની ટાંકીની લંબાઈ 25 મીટર, પહોળાઈ 12 મીટર અને ઊંડાઈ 6 મીટર છે. તેની દિવાલો અને તળિયાને પ્લાસ્ટર કરવાનો ખર્ચ પ્રતિ ચોરસ મીટર 75 પૈસા છે. તો સમગ્ર પાણીની ટાંકીને પ્લાસ્ટર કરવા માટેનો કુલ ખર્ચ કેટલો થાય?

- (A) રૂ. 456 (B) રૂ. 458 (C) રૂ. 558 (D) રૂ. 568

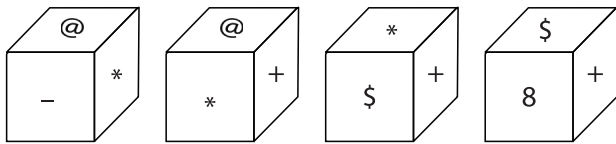
080. બે સંખ્યાઓનો ગુણાંક 4107 છે. જો આ બંને સંખ્યાનો H.C.F. 37 હોય તો, તો બે માંથી મોટી સંખ્યા કઈ હશે?

- (A) 101 (B) 107 (C) 111 (D) 185

073. A number when divided by 18 leaves remainder 15. What is the remainder when the same number is divided by 6?

- (A) 3 (B) 2 (C) 1 (D) 4

074. Which symbol will be on the face opposite to the face with symbol “*”?



- (A) @ (B) \$ (C) 8 (D) +

075. Two bus tickets from city A to B and three tickets from city A to C cost Rs. 77 but three tickets from city A to B and two tickets from city A to C cost Rs. 73. What are the fares for cities B and C from A?

- (A) Rs. 4, Rs. 23 (B) Rs. 13, Rs. 17
(C) Rs. 15, Rs. 14 (D) Rs. 17, Rs. 13

076. Two trains are moving in opposite directions @ 60 km/hr and 90 km/hr. Their lengths are 1.10 km and 0.9 km respectively. The time taken by the slower train to cross the faster train in seconds is:

- (A) 36 sec (B) 45 sec
(C) 48 sec (D) 40 sec

077. If $x = \frac{\sqrt{3} + 1}{\sqrt{3} - 1}$ and $y = \frac{\sqrt{3} - 1}{\sqrt{3} + 1}$ then the value of $(x^2 + y^2)$ is:

- (A) 10 (B) 13 (C) 14 (D) 15

078. The percentage profit earned by selling an article for Rs. 1920 is equal to the percentage loss incurred by selling the same article for Rs. 1280. At what price should the article be sold to make 25% profit?

- (A) Rs. 2000 (B) Rs. 2200
(C) Rs. 2400 (D) Rs. 2250

079. A water tank measures 25 m in length, 12 m in width and 6 m in depth. The cost of plastering its walls and bottom is 75 paise per sq. m. Then what is the total cost of plastering the entire water tank?

- (A) Rs. 456 (B) Rs. 458
(C) Rs. 558 (D) Rs. 568

080. The product of two numbers is 4107. If the H.C.F. of these numbers is 37, then the greater number is:

- (A) 101 (B) 107 (C) 111 (D) 185

M

081. બધી જોડણી સાચી હોય તેવો વિકલ્પ પસંદ કરો.

- (A) મનોરમ્ય, નૈઋત્ય, શબ્સ, તસ્વીર
(B) મનોરમ, નૈઋત્ય, શખશ, તસ્વીર
(C) મનોરમ્ય, નૈઋત્ય, શબ્સ, તસ્વીર
(D) મનોરમ, નૈઋત્ય, શખસ, તસવીર

082. નીચે આપેલાં જૂથ ધ્યાને લઈ સમાનાર્થી શબ્દો વિશે યોગ્ય વિકલ્પ પસંદ કરો.

1. અનાજ, ધાન્ય, શસ્ય, ધાન
2. વહેમ, શંકા, સંશય, ધાંખો
3. પુરૂષાર્થ, ઉદ્યોગ, પરિશ્રમ, મહેનત
4. ફાની, તોફાની, ઉદ્દડ, બારકસ

- (A) ફક્ત 2 અને 3 યોગ્ય છે.
(B) ફક્ત 3 અને 4 યોગ્ય છે.
(C) ફક્ત 1, 2 અને 3 યોગ્ય છે.
(D) 1, 2, 3 અને 4 બધા જ યોગ્ય છે.

083. નીચે આપેલાં જૂથ ધ્યાને લઈ વિરુદ્ધાર્થી શબ્દો વિશે યોગ્ય વિકલ્પ પસંદ કરો.

1. બદગોઈ × પ્રશંસા 2. બદબોઈ × વખાણ 3. બુદ્ધિમંદ × અક્કલમંદ 4. બુભુક્ષિત × ભુક્ત

- (A) 1, 2, 3 અને 4 બધા જ યોગ્ય છે.
(B) ફક્ત 2, 3 અને 4 યોગ્ય છે.
(C) ફક્ત 1 અને 2 યોગ્ય છે.
(D) ફક્ત 1 અને 4 યોગ્ય છે.

084. નીચે આપેલા રૂઢિપ્રયોગ અને તેના અર્થ માટે યોગ્ય વિકલ્પ પસંદ કરો.

રૂઢિપ્રયોગ

અર્થ

1. ભોંય પર પગ ન મૂકવો = ઘમંડનો પાર ન હોવો
2. ભોંયમાં પેસવું = અદૃશ્ય થવું
3. ભોંયમાંથી ભભૂકો નીકળવો = રહસ્ય બહાર પડવું
4. ભોંય ભારે પડવી = મુશ્કેલીમાં સપડાવું

- (A) ફક્ત 1, 2 અને 4 યોગ્ય છે.
(B) ફક્ત 1 અને 4 યોગ્ય છે.
(C) ફક્ત 3 અને 4 યોગ્ય છે.
(D) 1, 2, 3 અને 4 બધા જ યોગ્ય છે.

085. નીચે અ વિભાગમાં આપેલી કહેવતો અને બ વિભાગમાં આપેલા અર્થોને ધ્યાને લઈ તેના વિશે સાચો વિકલ્પ પસંદ કરો.

અ	બ
1. દીઠે દેહ બળે ને સૂતે સોડ બળે	— જોયું ન જવું
2. પારકું વગોણું ને જગલાનું જોણું	— બીજાનું વગોણું હોય તે જોવા સૌ ભેગા થાય
3. પેટથી સૌ હેઠ	— બીજાને નગણ્ય માનવા
4. જેવું મોં તેવું પાન	— જેવી વ્યક્તિ તેવો તેનો આદર સત્કાર

(A) 1, 2, 3 અને 4 બધા જ સાચા છે.

(B) ફક્ત 1, 2 અને 3 સાચા છે.

(C) ફક્ત 1 અને 3 સાચા છે.

(D) ફક્ત 1, 2 અને 4 સાચા છે.

086. નીચે આપેલા સામાસિક શબ્દ અને તેના પ્રકાર વિશે યોગ્ય વિકલ્પ પસંદ કરો.

સામાસિક શબ્દ	— પ્રકાર
1. કાનટોપી	— મધ્યમપદલોપી સમાસ
2. રાજર્ષિ	— કર્મધારય સમાસ
3. ઘણીજોગ	— તત્પુરુષ સમાસ
4. જગજાહેર	— બહુવ્રીહિ

(A) ફક્ત 1 અને 3 યોગ્ય છે.

(B) ફક્ત 2 અને 3 યોગ્ય છે.

(C) 1, 2 અને 3 યોગ્ય છે.

(D) 1, 2, 3 અને 4 બધા જ યોગ્ય છે.

087. નીચે આપેલી સંધિ વિશે યોગ્ય વિકલ્પ પસંદ કરો.

1. અનુ + એષણ = અન્વેષણ

2. તેજસ્ + પુંજ = તેજ:પુંજ

3. જગત્ + લય = જગલ્લય

4. પુરસ્ + કાર = પુરસ્કાર

(A) ફક્ત 1, 3 અને 4 સાચા છે.

(B) ફક્ત 2 અને 3 સાચા છે.

(C) 1, 2, 3 અને 4 બધા જ સાચા છે.

(D) 1, 2 અને 4 સાચા છે.

M

088. નીચે આપેલી કાવ્ય-પંક્તિને ધ્યાને લઈ એના અલંકાર અને છંદના પ્રકારનો યોગ્ય વિકલ્પ પસંદ કરો.

‘શાખાઓમાં તરુવર તણી ચક્રવાકી છુપાતી,
શોધી કાઢે દયિત નયનો, જોઈને હ્રષ્ટ થાતી;’

- (A) સ્વભાવોક્તિ - મંદાકાંતા
(B) ઉપમા - મંદાકાંતા
(C) સ્વભાવોક્તિ - શિખરિણી
(D) ઉત્પ્રેક્ષા - પૃથ્વી

089. નીચે આપેલી કાવ્ય-પંક્તિને ધ્યાને લઈ એના અલંકાર અને છંદના પ્રકારનો યોગ્ય વિકલ્પ પસંદ કરો.

‘સૂતો રવિ જલધિ માંહિ લપાઈ રાતો,
ને શૈલની મુખછવિ પલટાઈ આ તો.’

- (A) સજ્જારોપણ - માલિની
(B) સજ્જારોપણ - વસંતતિલકા
(C) અંત્યાનુપ્રાસ - માલિની
(D) અંત્યાનુપ્રાસ - પુષ્પિતાગ્રા

090. નીચેની વિગતોને ધ્યાને લઈ યોગ્ય વિકલ્પ પસંદ કરો.

- (A) સત્ + શિષ્ય = સદ્શિષ્ય
(B) એર્દુર્દુ - ઉપપદ સમાસ
(C) આ કમળ દમયંતીના મુખ જેવું છે. - ઉપમા અલંકાર
(D) અંધાર્યો ઘન રાધિકે ગગનમાં છાયાં તમાલો વને - શાદ્દલવિકીડિત

091. The security guard sat _____ the officer.

- (A) besides
(B) beside
(C) at
(D) in

092. The clothes were neatly hanged on the cloth line. (Spot the error)

- (A) The clothes
(B) were neatly
(C) hanged
(D) on the cloth line

093. He walks the horse. In the given sentence 'walks' is _____ verb.

- (A) intransitive
(B) transitive
(C) auxiliary
(D) helping

094. I _____ be twenty next month.
(A) may
(B) shall
(C) were
(D) can
095. He said to me, "What are you doing?" (Turn into indirect speech)
(A) He asked me what are you doing?
(B) He asked me what I was doing.
(C) He said to me what was I doing.
(D) He asked me what I am doing.
096. Though you are _____ MLA, nobody cares you.
(A) a
(B) an
(C) the
(D) that
097. Identify the demonstrative adjective in the following sentence:
"These mangoes are sweet."
(A) mangoes
(B) sweet
(C) These
(D) are
098. Prasannakumar has been studying _____ morning.
(A) for
(B) since
(C) in
(D) at
099. There are _____ students in the class as it is a holiday.
(A) a few
(B) few
(C) little
(D) a little
100. You have many books. Give me _____.
(A) many
(B) some
(C) much
(D) less

101. જેલમાં અટકાયત, એ અટકાયતીને તેના મૂળભૂત અધિકારોથી વંચિત કરી શકતી નથી આનો ચુકાદો સર્વોચ્ચ અદાલતે નીચે જણાવેલ કેસમાં આપ્યો હતો:
- (A) સ્ટેટ ઓફ આંધ્રપ્રદેશ વિ. એ.પી.વિ. ચલ્લા રામકૃષ્ણ રેડ્ડી અને અન્ય
 (B) રસિકભાઈ રામસિંગ રાણા વિ. સ્ટેટ ઓફ ગુજરાત
 (C) પ્રભાકર પાંડુરંગ વિ. સ્ટેટ ઓફ મહારાષ્ટ્ર
 (D) મેનકા ગાંધી વિ. યુનિયન ઓફ ઈન્ડિયા
102. સખત કેદ (Rigorous Imprisonment) કયા કાયદા હેઠળ વ્યાખ્યાયિત કરવામાં આવે છે?
- (A) ભારતીય નાગરિક સંરક્ષણ સંહિતા 2023
 (B) કોડ ઓફ ક્રિમિનલ પ્રોસિજર 1973
 (C) જેલ અધિનિયમ 1894
 (D) ઉપરમાંથી એક પણ નહીં
103. રાષ્ટ્રીય કાનૂની સેવા સત્તામંડળો (NALSA) અને રાજ્ય કાનૂની સેવા સત્તામંડળો (SLSAs) ભારતના બંધારણની કઈ જોગવાઈને અનુરૂપ સ્થાપિત કરવામાં આવી છે:
- (A) અનુચ્છેદ 48(એ) (B) અનુચ્છેદ 43(એ)
 (C) અનુચ્છેદ 39(એ) (D) અનુચ્છેદ 21(એ)
104. અનુચ્છેદ 39(એ) સમાજના ગરીબ અને નબળા વર્ગોને મફત અને કાનૂની સહાય પૂરી પાડે છે. આ અધિકાર કસ્ટડીમાં રહેલા વ્યક્તિઓ માટે પણ ઉપલબ્ધ છે. કયા સુધારા હેઠળ ભારતના બંધારણમાં આ કલમ ઉમેરવામાં આવી હતી:
- (A) 44મો સુધારો ધારો, 1978 (B) 42મો સુધારો ધારો, 1976
 (C) 73મો સુધારો ધારો, 1992 (D) 86મો સુધારો ધારો, 2002
105. એકંદરે, એકાંતવાસ માટેનો મહત્તમ સમય કેટલો છે:
- (A) 01 મહિનો (B) 03 મહિના
 (C) 06 મહિના (D) 12 મહિના
106. નીચેનામાંથી કયા કાયદા હેઠળ ફર્લો વ્યક્તિને આપી શકાતો નથી:
- (A) કેદી પર IT એક્ટ, 2000 હેઠળના ગુનાઓ માટે આરોપ મૂકવામાં આવ્યો છે.
 (B) કેદી કે જેને NDPS એક્ટ, 1985 હેઠળના ગુનાઓ માટે દોષિત ઠરાવવામાં આવ્યો છે.
 (C) કેદી કે જેને IPC, 1860 હેઠળના ગુનાઓ માટે દોષિત ઠરાવવામાં આવ્યો છે.
 (D) ઉપરોક્તમાંથી એક પણ નહીં.
107. એક સમયે, કેદીને વધુ ન હોય તેવા સમયગાળા માટે પેરોલ આપી શકાય છે:
- (A) 15 દિવસ (B) 21 દિવસ
 (C) 30 દિવસ (D) ઉપરોક્તમાંથી એક પણ નહીં

108. એક સિસ્ટમ જે કેદીઓની સજાને ટૂંકી કરવાનું નિયમન કરે છે, તેને કહેવામાં આવે છે:
- (A) પેરોલ સિસ્ટમ (B) રિમિશન સિસ્ટમ
(C) ફર્લો સિસ્ટમ (D) ઉપરોક્તમાંથી એક પણ નહીં
109. જે જોગવાઈ હેઠળ રાષ્ટ્રપતિ કોઈપણ ગુના માટે માફી આપી શકે છે.
- (A) ભારતના બંધારણના અનુચ્છેદ 72
(B) ભારતના બંધારણના અનુચ્છેદ 161
(C) BNSSની કલમ 475, 2023
(D) ઉપરોક્તમાંથી એક પણ નહીં
110. નીચેનામાંથી કઈ સિસ્ટમ કામચલાઉ સમયગાળા માટે સજાના અમલ પર સ્ટે સૂચવે છે:
- (A) રૂપાંતરણ (B) ઘટાડો
(C) રાહત (D) પુનઃશોધ
111. નીચેનામાંથી કયા ચુકાદામાં, સર્વોચ્ચ અદાલતે જેલના કાયદાઓમાં એકરૂપતા લાવવાની જરૂરિયાત પર ભાર મૂક્યો હતો:
- (A) આર.ડી.ઉપાધ્યાય વિ. સ્ટેટ ઓફ આંધ્રપ્રદેશ
(B) રામમૂર્તિ વિ. સ્ટેટ ઓફ કર્ણાટક
(C) રસિકભાઈ રામસિંગ રાણા વિ. સ્ટેટ ઓફ ગુજરાત
(D) મેનકા ગાંધી વિ. યુનિયન ઓફ ઈન્ડિયા
112. 1. આર ડી ઉપાધ્યાય વિ. સ્ટેટ ઓફ એ.પી.માં, સર્વોચ્ચ અદાલતે જેલોમાં તેમની સાથે રહેતી મહિલા કેદીઓ અને બાળકોના સંબંધમાં માર્ગદર્શિકા જારી કરી હતી.
2. સુનીલ બત્રા વિ. દિલ્હી પ્રશાસનમાં સર્વોચ્ચ અદાલતે કહ્યું હતું કે અલગ કેદને એકાંત કેદ કહી શકાય નહીં.
ઉપરોક્ત વિધાનોના સંદર્ભમાં, કૃપા કરીને નીચેનામાંથી કોઈ એકને પસંદ કરો:
- (A) વિધાન 1 સાચું છે અને વિધાન 2 ખોટું છે.
(B) વિધાન 1 ખોટું છે અને વિધાન 2 સાચું છે.
(C) વિધાન 1 અને 2, બંને સાચા છે.
(D) વિધાન 1 અને 2, બંને ખોટા છે.
113. એક કેદી જેની ઉંમર 21 વર્ષથી વધુ છે, તેને કહેવામાં આવે છે:
- (A) ગેરીએટ્રિક કેદી (B) યુવાન અપરાધી
(C) પુખ્ત કેદી (D) ઉપરમાંથી એક પણ નહીં
114. જે કેદીની ઉંમર 18 વર્ષની થઈ ગઈ હોય અને 21 વર્ષની ઉંમર ન થઈ હોય, તેને કહેવામાં આવે છે:
- (A) ગેરીએટ્રિક કેદી (B) યુવાન અપરાધી
(C) પુખ્ત કેદી (D) ઉપરમાંથી એક પણ નહીં

115. એક કેદી કે જેની ઉંમર 60 વર્ષ કે તેથી વધુ થઈ ગઈ હોય અને તબીબી રીતે સહાય વિના સ્વતંત્ર રીતે તેની દૈનિક બાબતોનું સંચાલન કરવામાં અસમર્થ હોય, તેને કહેવામાં આવે છે:
- (A) યુવાન અપરાધી (B) ગેરીએટ્રિક કેદી
(C) પુખ્ત કેદી (D) ઉપરમાંથી એક પણ નહીં
116. જેલ સુધારણા માટેનાં પગલાં સૂચવવા માટે નીમાયેલી ઈન્ડિયા જેલ રિફોર્મ્સ કમિટી 1919-20ની અધ્યક્ષતા નીચે મુજબ હતી:
- (A) Alexander Cardew (B) T B Macaulay
(C) H Shakespeare (D) John Lawrence
117. જેલોનો વિષય પ્રાંતિક સરકારના નિયંત્રણ હેઠળ લાવવામાં આવ્યો હતો:
- (A) ભારત સરકાર એક્ટ 1909
(B) ભારત સરકાર એક્ટ 1915
(C) ભારત સરકાર એક્ટ 1919
(D) ભારત સરકાર એક્ટ 1935
118. આ સમિતિએ કેદીઓ પર કોઈ પણ સઘન દેખરેખ વિના રસ્તાના કામ માટે મજૂર તરીકે ઉપયોગ કરવાની સિસ્ટમ સૂચવી હતી. આ પછી કેદીઓને તેમની મજૂરી માટે વેતનની એક પ્રણાલી શરૂ કરવામાં આવી હતી. આ નિવેદનમાં કઈ સમિતિનો ઉલ્લેખ કરવામાં આવ્યો છે:
- (A) પકવાસા સમિતિ (B) મુલ્લા સમિતિ
(C) ક્રિષ્ન ઐયર કમિટી (D) ઉપરમાંથી એક પણ નહીં
119. 1. જસ્ટિસ ક્રિષ્ના ઐયર કમિટિ, જે 1987માં નિમણૂક કરવામાં આવી હતી, તેણે મહિલાઓ અને બાળ અપરાધીઓ સામે લડવામાં તેમની ભૂમિકાને ધ્યાનમાં રાખીને પોલીસ દળમાં વધુ મહિલાઓને સામેલ કરવાની ભલામણ કરી હતી.
2. જસ્ટિસ એ.એન. મુલ્લા કમિટિ, જેની 1980માં નિમણૂક કરવામાં આવી હતી, તેણે આફ્ટર-કેર, પુનર્વસનની ભલામણ કરી હતી.
- ઉપરોક્ત નિવેદનોના સંદર્ભમાં, કૃપા કરીને નીચેનામાંથી એક પસંદ કરો:
- (A) નિવેદન 1 સાચું છે અને નિવેદન 2 ખોટું છે.
(B) નિવેદન 1 ખોટું છે અને નિવેદન 2 સાચું છે.
(C) નિવેદન 1 અને 2 બંને સાચા છે.
(D) નિવેદન 1 અને 2 બંને ખોટા છે.
120. દોષિત અધિકારીઓ બે વર્ગના હોય છે. નીચેનામાંથી કોઈ એક પસંદ કરો:
- i. દોષિત દેખરેખ રાખનાર
ii. દોષિત નાઈટ વોચમેન
iii. દોષિત રક્ષકો
- (A) માત્ર i અને ii (B) માત્ર ii અને iii
(C) માત્ર i અને iii (D) માત્ર i, ii અને iii

121. દરેક જલમાં મુલાકાતીઓનું બોર્ડ હોય છે જેમાં કેટલાક એક્સ-ઓફિસિઓ મુલાકાતીઓ હોય છે. નીચેના પૈકી, જેલ માટે એક્સ-ઓફિસિઓ મુલાકાતીઓ કોણ છે:
- સંબંધિત વિસ્તારના સેશન જજ.
 - સંબંધિત વિસ્તારના જિલ્લા મેજિસ્ટ્રેટ.
 - સંબંધિત વિસ્તારના મ્યુનિસિપલ કોર્પોરેશનના મેયર.
 - સંબંધિત વિસ્તારના ધારાસભાના સભ્ય.
 - સંબંધિત વિસ્તારના શિક્ષણ નિયામક.
- કૃપા કરીને નીચેનામાંથી એક પસંદ કરો
- (A) માત્ર i, iii અને iv
 (B) માત્ર ii, iv અને v
 (C) માત્ર i, ii અને v
 (D) માત્ર iii, iv અને v
122. 1. જે વિસ્તારમાં જેલ આવેલી છે તે વિસ્તારના વિધાનસભાના સભ્ય, મુલાકાતીઓના બોર્ડના એક્સ-ઓફિસિઓ મુલાકાતી છે.
 2. જે વિસ્તારમાં જેલ આવેલી છે તે વિસ્તારના શિક્ષણ નિયામક, મુલાકાતીઓના બોર્ડના એક્સ-ઓફિસિઓ મુલાકાતી છે.
 ઉપરોક્ત નિવેદનોના સંદર્ભમાં, કૃપા કરીને નીચેનામાંથી એક પસંદ કરો:
- (A) નિવેદન 1 સાચું છે અને નિવેદન 2 ખોટું છે.
 (B) નિવેદન 1 ખોટું છે અને નિવેદન 2 સાચું છે.
 (C) નિવેદન 1 અને 2 બંને સાચા છે.
 (D) નિવેદન 1 અને 2 બંને ખોટા છે.
123. ગુજરાત જેલ (કેદીઓનો રોજગાર) નિયમો, 1973 ની કલમ 9 મુજબ કેદીઓના કામ માટેનો સમય કેટલો છે:
- (A) 08:00 AM to 10:00 AM and 12:00 PM to 04:00 PM
 (B) 08:30 AM to 10:30 AM and 11:45 AM to 04:15 PM
 (C) 08:15 AM to 10:45 AM and 11:45 AM to 04:15 PM
 (D) 08:00 AM to 10:30 AM and 11:30 AM to 04:30 PM
124. 1. આર કે કપૂર કમિટી (1986) ની રચના જેલમાં મહિલાઓની સ્થિતિની તપાસ કરવા માટે કરવામાં આવી હતી.
 2. જેલોના વહીવટ અને સંચાલનના વિવિધ પાસાઓની તપાસ અને સમીક્ષા કરવા માટે ન્યાયમૂર્તિ એ એન મુલ્લાની અધ્યક્ષતામાં મહિલા કેદીઓ પર રાષ્ટ્રીય નિષ્ણાત સમિતિ (1980) ની રચના કરવામાં આવી હતી.
 ઉપરોક્ત નિવેદનોના સંદર્ભમાં, કૃપા કરીને નીચેનામાંથી એક પસંદ કરો:
- (A) નિવેદન 1 સાચું છે અને નિવેદન 2 ખોટું છે.
 (B) નિવેદન 1 ખોટું છે અને નિવેદન 2 સાચું છે.
 (C) નિવેદન 1 અને 2 બંને સાચા છે.
 (D) નિવેદન 1 અને 2 બંને ખોટા છે.

125. કૃપા કરીને નીચેના વિધાનોને ધ્યાનમાં લો:
1. જેલ સુધારણા અને સુધારાત્મક વહીવટ અંગેની રાષ્ટ્રીય નીતિ પરની સમિતિનું નેતૃત્વ ડી.જી., બી.પી.આર એન્ડ ડી દ્વારા કરવામાં આવ્યું હતું.
 2. જેલોમાં મહિલાઓની સ્થિતિની તપાસ કરવા માટે ન્યાયમૂર્તિ કૃષ્ણા ઐયરની આગેવાની હેઠળ મહિલા કેદીઓ પર રાષ્ટ્રીય નિષ્ણાત સમિતિની રચના કરવામાં આવી હતી.
- ઉપરોક્ત નિવેદનોના સંદર્ભમાં, કૃપા કરીને નીચેનામાંથી એક પસંદ કરો:
- (A) નિવેદન 1 સાચું છે અને નિવેદન 2 ખોટું છે.
 - (B) નિવેદન 1 ખોટું છે અને નિવેદન 2 સાચું છે.
 - (C) નિવેદન 1 અને 2 બંને સાચા છે.
 - (D) નિવેદન 1 અને 2 બંને ખોટા છે.
126. શ્રી બ્રિજલાલની અધ્યક્ષતામાં ગૃહ બાબતોની સ્થાયી સમિતિએ 21 સપ્ટેમ્બર 2023ના રોજ જેલની સ્થિતિ, માળખાકીય સુવિધાઓ અને સુધારાઓ પર તેનો અહેવાલ સુપરત કર્યો. અહેવાલની મુખ્ય ભલામણો છે:
1. તમામ રાજ્ય/કેન્દ્રશાસિત પ્રદેશોમાં ગરીબ કેદીઓ માટે દંડની રકમની ચૂકવણી માટે ભંડોળ ઉભુ કરી શકાય.
 2. જેલમાં જન્મેલા બાળકોને 09 વર્ષની ઉંમર સુધી તેમની માતા સાથે રહેવાની મંજૂરી આપવામાં આવી શકાય (12 માટે ભલામણ કરેલ).
- ઉપરોક્ત નિવેદનોના સંદર્ભમાં, કૃપા કરીને નીચેનામાંથી એક પસંદ કરો:
- (A) નિવેદન 1 સાચું છે અને નિવેદન 2 ખોટું છે.
 - (B) નિવેદન 1 ખોટું છે અને નિવેદન 2 સાચું છે.
 - (C) નિવેદન 1 અને 2 બંને સાચા છે.
 - (D) નિવેદન 1 અને 2 બંને ખોટા છે.
127. બોરસ્ટલ શાળાઓ જણાવેલી બંધારણીય યોજનાને અનુસરે છે:
- | | |
|------------------------------------|------------------------------------|
| (A) ભારતના બંધારણના અનુચ્છેદ 15(4) | (B) ભારતના બંધારણના અનુચ્છેદ 15(3) |
| (C) ભારતના બંધારણના અનુચ્છેદ 24 | (D) ભારતના બંધારણના અનુચ્છેદ 39 |
128. જેલમાં રહેલા બાળકો કેટલી ઉંમર સુધી તેમની માતા સાથે રહી શકે છે?
- | | |
|-------------|-------------|
| (A) 03 વર્ષ | (B) 06 વર્ષ |
| (C) 09 વર્ષ | (D) 12 વર્ષ |
129. નીચેનામાંથી કઈ સમિતિએ જેલ અને આનુષંગિક સંસ્થાઓને ભારતના બંધારણની સમવર્તી યાદીમાં રાખવાની ભલામણ કરી હતી:
- (A) ગૃહ બાબતો પર સ્થાયી સમિતિ, 2021
 - (B) આર કે કપૂર સમિતિ (1986)
 - (C) ઓલ ઈન્ડિયા કમિટી ઓન જેલ રિફોર્મ્સ, 1980
 - (D) ઉપરમાંથી એક પણ નહીં

130. ચેયુથા નિધિ એ જેલ વિભાગ દ્વારા ગરીબ કેદીઓ માટે દંડની રકમની ચુકવણી માટે બનાવવામાં આવેલું ભંડોળ છે.
 (A) કર્ણાટક (B) તેલંગાણા
 (C) આંધ્ર પ્રદેશ (D) તમિલનાડુ
131. માં મહિલા કેદીઓ માટે જ્ઞાન સફુરા તરીકે ઓળખાતી અલગ લાઈબ્રેરીઓની સ્થાપના કરવામાં આવી છે.
 (A) પશ્ચિમ બંગાળ (B) આસામ
 (C) આંધ્ર પ્રદેશ (D) તેલંગાણા
132. ટ્રાન્સજેન્ડર પર્સન્સ (પ્રોટેક્શન ઓફ રાઈટ્સ) એક્ટ, 2019 મુજબ, ટ્રાન્સજેન્ડર વ્યક્તિનો અર્થ:
 1. એવી વ્યક્તિ જેની લિંગ (જેન્ડર) ઓળખ, લિંગ (જેન્ડર) અભિવ્યક્તિ અથવા વર્તન તેમના જૈવિક જાતિને અનુરૂપ છે.
 2. જે વ્યક્તિનું લિંગ (જેન્ડર) જન્મ સમયે તે વ્યક્તિને મુકરર કરેલ લિંગ (જેન્ડર) સાથે મેળ ખાતું નથી.
 ઉપરોક્ત નિવેદનોના સંદર્ભમાં, કૃપા કરીને નીચેનામાંથી એક પસંદ કરો:
 (A) નિવેદન 1 સાચું છે અને નિવેદન 2 ખોટું છે.
 (B) નિવેદન 1 ખોટું છે અને નિવેદન 2 સાચું છે.
 (C) નિવેદન 1 અને 2 બંને સાચા છે.
 (D) નિવેદન 1 અને 2 બંને ખોટા છે.
133. ગુજરાતની તમામ જેલોમાં રજૂ કરવામાં આવેલી ગ્રીન જેલની વિભાવના આના પર ભાર મૂકે છે:
 (A) શૂન્ય ઊર્જા વપરાશ (B) પ્રદૂષણ મુક્ત વાતાવરણ
 (C) શૂન્ય કાર્બન ઉત્સર્જન (D) ઉપરમાંથી એક પણ નહીં
134. સ્વચ્છ અને હરિયાળી જેલ પહેલ આસામમાં શરૂ કરવામાં આવી હતી, જેનો ઉદ્દેશ હતો:
 (A) જર્જરિત શૌચાલયો / બાથરૂમના પુનઃ નિર્માણ
 (B) પ્રદૂષણ મુક્ત વાતાવરણ
 (C) 50 ઔષધીય અને 50 ફળોના છોડ વાવો
 (D) સફાઈના કામો માટે સફાઈ કામદારોની ભરતી કરવી
135. ઉત્તર પ્રદેશે જેલોમાં નીચે મુજબનો કાર્યક્રમ શરૂ કર્યો છે:
 (A) ગ્રીન જેલ (B) ગ્રીન જેલ સ્વચ્છ જેલ
 (C) સફાઈ પંજાસ (D) ઉપરમાંથી એક પણ નહીં
136. કયા રાજ્યએ જેલોની સુરક્ષા વ્યવસ્થાને મજબૂત કરવા માટે ભારતમાં સૌપ્રથમ ઇલેક્ટ્રોનિક લોક એન્ડ કી સિસ્ટમ રજૂ કરી હતી
 (A) તમિલનાડુ (B) કેરળ
 (C) કર્ણાટક (D) હરિયાણા

M

137. ડો.વાય.એસ.આર.આરોગ્યશ્રી યોજના તમામ કેદીઓને ખાનગી હોસ્પિટલોમાં ગંભીર બિમારીઓ માટે મફત સારવાર પૂરી પાડે છે, જે જેલ હોસ્પિટલ / સરકારી હોસ્પિટલમાં સારવાર ઉપલબ્ધ ન હોય તેવી શરતને આધિન છે. આ યોજના કયા રાજ્ય દ્વારા લાગુ કરવામાં આવે છે:
- (A) ઉત્તર પ્રદેશ (B) મધ્ય પ્રદેશ
(C) આંધ્ર પ્રદેશ (D) હિમાચલ પ્રદેશ
138. આસામમાં 10મા ધોરણની પરીક્ષાની તૈયારી કરી રહેલા દોષિતોના બાળકોને પ્રોત્સાહિત કરવાની યોજના શરૂ કરી છે. શું છે આ પધ્ધતિનું નામ:
- (A) આશીર્વાદ અનુષ્ઠાન (B) શ્રીજન
(C) સમર્થ (D) ઉપરમાંથી એક પણ નહીં
139. ગુજરાત રાજ્યએ કેટલી જેલોમાં મનોવૈજ્ઞાનિક સંભાળ કેન્દ્રોની સ્થાપના કરી છે:
- (A) 02 ખુલ્લી જેલો (B) 07 જિલ્લા જેલો
(C) 04 સેન્ટ્રલ જેલો (D) 02 સબ-જેલો
140. તમિલનાડુએ 18થી 24 વર્ષની વયજૂથના પ્રથમ વખતના નાના અપરાધીઓને સુધારવા માટે એક કાર્યક્રમ શરૂ કર્યો છે. આને કહેવાય:
- (A) સમર્થ (B) પત્તમ
(C) સ્પર્શ (D) ઉપરમાંથી એક પણ નહીં
141. ઉન્નતિ એ કેદીઓ માટેનો પરામર્શ કાર્યક્રમ છે, જે _____ દ્વારા શરૂ કરવામાં આવ્યો છે:
- (A) તેલંગાણા (B) આંધ્ર પ્રદેશ
(C) બિહાર (D) જારખંડ
142. દિલ્હીની જેલો ગરીબ કેદીઓને રૂ. 500 સુધીની આર્થિક સહાય પૂરી પાડે છે અને જેમની પાસે તેમની મુલાકાત લેવા માટે કોઈ સબંધી નથી. આ પધ્ધતિને કહેવામાં આવે છે:
- (A) સમર્થ (B) પત્તમ
(C) સ્પર્શ (D) ઉપરમાંથી એક પણ નહીં
143. રાજ્યના જેલો સફારી નામની બેગનું ઉત્પાદન કરે છે. ખાલી જગ્યા ભરો:
- (A) ગુજરાત (B) રાજસ્થાન
(C) આસામ (D) કર્ણાટક
144. ગુજ પ્રાઈડ એક બ્રાન્ડ નામ છે જેનો ઉપયોગ આ માટે થાય છે:
- (A) ગુજરાતના ટાઈ-ડાઈ કરેલા કાપડ.
(B) જેલોમાં ઉત્પાદિત વસ્તુઓ.
(C) સ્વસહાય જૂથો દ્વારા ઉત્પાદિત વસ્તુઓ.
(D) ઉપરમાંથી એક પણ નહીં.

145. કયા રાજ્ય દ્વારા એક જેલ એક ઉત્પાદન યોજના શરૂ કરવામાં આવી છે:
- (A) ઉત્તર પ્રદેશ (B) મધ્ય પ્રદેશ
(C) આંધ્ર પ્રદેશ (D) તમિલનાડુ
146. 1. કેદીઓ કોઈપણ સમયે જેલ અધિકારી સાથે વાતચીત કરી શકે તે માટે એકાંત કારાવાસની કોટડીઓ સજ્જ હોવા જોઈએ.
2. અડતાલીસ કલાકથી વધુ સમય માટે એકાંત કારાવાસમાં કેદીઓને દિવસમાં ઓછામાં ઓછા એક વખત તબીબી અધિકારી અથવા તેમની તાબાના તબીબ દ્વારા મુલાકાત લેવી આવશ્યક છે.
ઉપરોક્ત નિવેદનોના સંદર્ભમાં, કૃપા કરીને નીચેનામાંથી એક પસંદ કરો:
- (A) નિવેદન 1 સાચું છે અને નિવેદન 2 ખોટું છે.
(B) નિવેદન 1 ખોટું છે અને નિવેદન 2 સાચું છે.
(C) નિવેદન 1 અને 2 બંને સાચા છે.
(D) નિવેદન 1 અને 2 બંને ખોટા છે.
147. ભારતના બંધારણની અનુચ્છેદ 19 વિવિધ સ્વતંત્રતાઓ પ્રદાન કરે છે. આમાંથી, જે કેદીઓ માટે ઉપલબ્ધ છે:
- (A) અનુચ્છેદ19(1)(b) (B) અનુચ્છેદ19(1)(c)
(C) અનુચ્છેદ19(1)(d) (D) અનુચ્છેદ19(1)(e)
148. કેદીઓની શ્રેણી:
1. અપરાધી કેદીઓ
 2. દોષિત ફોજદારી કેદીઓ
 3. સિવિલ કેદીઓ
 4. અંડર ટ્રાયલ કેદીઓ
- ઉપરોક્ત સંદર્ભમાં, કૃપા કરીને સાચો વિકલ્પ પસંદ કરો:
- (A) ફક્ત 2 જ સાચું છે
(B) ફક્ત 4 જ સાચું છે
(C) બધા સાચા છે
(D) ઉપરમાંથી એક પણ નહીં
149. નીચેનામાંથી કયા કેસમાં સર્વોચ્ચ અદાલતે ઠરાવ્યું હતું કે, અનુચ્છેદ 14, 19 અને 21 હેઠળના મૂળભૂત અધિકારો કેદીઓ તેમજ નાગરિકો માટે ઉપલબ્ધ છે:
- (A) સુનિલ બત્રા વિ. દિલ્હી પ્રશાસન
(B) ટી વી વૈથીસ્વરન વિ. તમિલનાડુ રાજ્ય
(C) પ્રભાકર પાંડુરંગ વિ. રાજ્ય
(D) ઉપરમાંથી એક પણ નહીં.

150. જેલોનો સાતમી અનુસૂચિની સૂચિ II માં ઉલ્લેખ કરવામાં આવ્યો છે, જેના માટે, કોઈપણ રાજ્યની વિધાનસભાને આવા રાજ્ય અથવા તેના કોઈપણ ભાગ માટે કાયદા બનાવવાની સંપૂર્ણ સત્તા છે. આ જોગવાઈ માટે પ્રસ્તુત અનુચ્છેદ છે:
- (A) ભારતના બંધારણના અનુચ્છેદ 244
 (B) ભારતના બંધારણના અનુચ્છેદ 245
 (C) ભારતના બંધારણના અનુચ્છેદ 246
 (D) ભારતના બંધારણના અનુચ્છેદ 247
151. નીચેનામાંથી કયા ક્ષેત્રમાં GPS ટેકનોલોજીનો ઉપયોગ કરી શકાશે:
1. મોબાઈલ ફોન ક્રિયાઓ
 2. બેંકિંગ કામગીરી
 3. પાવર ગ્રીડનો નિયંત્રણ
 4. પેરોલ, પ્રોબેશન, નજરકેદ અથવા જામીન પર મુક્ત થયેલા વ્યક્તિઓને શોધવા માટે
- નીચેનામાંથી એક પસંદ કરો:
- (A) ફક્ત 2 જ સાચું છે
 (B) ફક્ત 3 જ સાચું છે
 (C) બધા સાચા છે
 (D) ઉપરમાંથી કોઈ પણ સાચું નથી
152. મુલ્લા સમિતિ દ્વારા કેદીઓ માટેના નીચેના અધિકારોની ઓળખ કરવામાં આવી હતી:
1. વાણી સ્વાતંત્ર્યનો અધિકાર
 2. કાયદા સુધી પહોંચવાનો અધિકાર
 3. સંદેશાવ્યવહારનો અધિકાર
 4. અર્થપૂર્ણ અને લાભદાયક રોજગારનો અધિકાર
 5. નિયત તારીખે મુક્ત થવાનો અધિકાર
- નીચેનામાંથી એક પસંદ કરો:
- (A) ફક્ત 2 જ સાચું છે
 (B) ફક્ત 3 જ સાચું છે
 (C) ફક્ત 4 જ સાચું છે
 (D) બધા સાચા છે
153. નિવેદન 1 : આફ્ટર કેર સર્વિસીસનો અર્થ એ છે કે મુક્ત કરાયેલા કેદીને કર્તવ્યનિષ્ઠ નાગરિક તરીકે જીવન જીવવા માટે સક્ષમ બનાવવાના હેતુથી સેવા અથવા પ્રવૃત્તિ.
- નિવેદન 2 : સેન્ટ્રલ સોશિયલ વેલફેર બોર્ડ દ્વારા 1954 માં પ્રોફેસર એમ એસ ગોરની અધ્યક્ષતામાં આફ્ટરકેર કાર્યક્રમ પર સલાહકાર સમિતિની નિમણૂંક કરવામાં આવી હતી.
- ઉપરોક્ત નિવેદનોના સંદર્ભમાં, કૃપા કરીને નીચેનામાંથી એક પસંદ કરો:
- (A) નિવેદન 1 સાચું છે અને નિવેદન 2 ખોટું છે.
 (B) નિવેદન 1 ખોટું છે અને નિવેદન 2 સાચું છે.
 (C) નિવેદન 1 અને 2 બંને સાચા છે.
 (D) નિવેદન 1 અને 2 બંને ખોટા છે.

154. કેદીઓના પ્રત્યાર્પણ અધિનિયમ, 2003 નો ઉદ્દેશ શું છે:
 (A) ભારતીય જેલોમાં વિદેશી કેદીઓને રાહત આપવી.
 (B) વિદેશી જેલોમાં ભારતીય કેદીઓને રાહત આપવી.
 (C) (A) અને (B) બંને સાચા છે.
 (D) (A) અને (B) બંને ખોટા છે.
155. બ્યુરો ઓફ પોલીસ રિસર્ચ એન્ડ ડેવલપમેન્ટમાં, જેલ અને જેલ સુધારણાના મુદ્દાનો અભ્યાસ કરવા માટે સુધારણા વિભાગ શરૂ કરવામાં આવ્યો હતો. નીચેનામાંથી એક પસંદ કરો:
 (A) 1970 (B) 1973
 (C) 1995 (D) 2008
156. ભારતમાં, બોમ્બે પ્રેસિડેન્સીમાં માં પ્રથમ ખુલ્લી જેલની સ્થાપના કરવામાં આવી હતી:
 (A) 1905 (B) 1909
 (C) 1919 (D) 1935
157. સ્વતંત્રતા પછી, 1949 માં માં પ્રથમ ખુલ્લી જેલ એનેક્સીની સ્થાપના કરવામાં આવી હતી
 (A) બીકાનેર (B) કોલ્હાપુર
 (C) લખનૌ (D) યેરવાડા
158. મોડેલ જેલ મેન્યુઅલ ભારતમાં ખુલ્લી જેલ સંસ્થાઓને નીચે જણાવેલ પ્રકારોમાં વર્ગીકૃત કરે છે:
 1. અર્ધ-ખુલ્લી તાલીમ સંસ્થાઓ
 2. ખુલ્લી તાલીમ સંસ્થાઓ/કાર્ય કેમ્પસ
 3. ખુલ્લી કોલોની
 નીચે આપેલા વિકલ્પોમાંથી સાચો જવાબ પસંદ કરો:
 (A) માત્ર 1 જ સાચું છે.
 (B) માત્ર 2 જ સાચું છે.
 (C) બધા 3 સાચા છે.
 (D) ઉપરમાંથી એક પણ નહીં
159. ભારતની સર્વોચ્ચ અદાલતે આ કેસમાં ખુલ્લી જેલોના વિસ્તરણને સમર્થન આપ્યું હતું:
 (A) આંધ્ર પ્રદેશ રાજ્ય વિ. ચલ્લા રામકૃષ્ણ રેડ્ડી એન્ડ અન્ય
 (B) રસિકભાઈ રામસીંગ રાણા વિ. ગુજરાત રાજ્ય
 (C) પ્રભાકર પાંડુરંગ વિ. મહારાષ્ટ્ર રાજ્ય
 (D) રામમૂર્તિ વિ. કર્ણાટક રાજ્ય

160. બોરસ્ટલ સ્કૂલનો પ્રાથમિક હેતુ છે:
1. યુવાન અપરાધીઓની કાળજી સુનિશ્ચિત કરો.
 2. પુખ્ત વયના કેદીઓનું કલ્યાણ સુનિશ્ચિત કરવું.
 3. યુવાન અપરાધીઓના પુનર્વસનની ખાતરી કરો.
- નીચે આપેલા વિકલ્પોમાંથી સાચો જવાબ પસંદ કરો:
- (A) માત્ર 1 જ સાચો છે. (B) માત્ર 2 જ સાચો છે.
(C) બધા 3 સાચા છે. (D) ઉપરમાંથી એક પણ નહીં
161. નીચે જણાવેલા રાજ્યોમાં અન્ય જેલો છે:
1. ગુજરાત 2. રાજસ્થાન 3. ઉત્તર પ્રદેશ 4. કર્ણાટક 5. કેરળ 6. મહારાષ્ટ્ર
- નીચેમાં થી સાચો જવાબ પસંદ કરો:
- (A) ફક્ત 1 જ સાચું છે (B) ફક્ત 3 જ સાચું છે
(C) ફક્ત 5 જ સાચું છે (D) બધા સાચા છે
162. નીચેની કઈ ખુલ્લી જેલોમાં કેદીઓને તેમના પરિવારના સભ્યોને કૃષિ અથવા આનુષંગિક ક્ષેત્રોમાં કામ કરવાની તકો મેળવવા માટે લાવવાની મંજૂરી આપવામાં આવી છે:
- (A) ખુલ્લી કોલોની (B) ખુલ્લી તાલીમ સંસ્થાઓ
(C) અર્ધ-ખુલ્લી તાલીમ સંસ્થાઓ (D) ઉપરમાંથી એક પણ નહીં
163. 1953માં ઉત્તર પ્રદેશમાં વારાણસી નજીક બંધ બાંધવા માટે ખુલ્લી જેલ કેમ્પની સ્થાપના કરવામાં આવી હતી, અને નદી નું નામ છે:
- (A) ચંદ્રાવાલ (B) ચંદ્રપ્રભા
(C) અર્જુન (D) રામગંગા
164. ખુલ્લી જેલ રાજ્યો
1. નેત્તવખેટ્ટી a. રાજસ્થાન
 2. અનંતપુર b. કેરળ
 3. સાંગાનેર c. આંધ્ર પ્રદેશ
- નીચેમાંથી સાચો જવાબ પસંદ કરો:
- (A) 1 - a, 2 - b, 3 - c (B) 1 - b, 2 - c, 3 - a
(C) 1 - c, 2 - b, 3 - a (D) 1 - a, 2 - c, 3 - b
165. કિશોરો માટેના કેર હોમ્સ પછીની નીચેની કઈ બંધારણીય જોગવાઈને અનુરૂપ છે:
- (A) અનુચ્છેદ 15 (3) (B) અનુચ્છેદ 21A
(C) અનુચ્છેદ 39 (f) (D) અનુચ્છેદ 45

166. કેદના ત્રણ વર્ષ પૂર્ણ થયા પછી ફર્લોને એક વર્ષમાં દિવસનો સમયગાળાથી વધુ ન હોય તેવા મંજૂરી આપી શકાય છે:
 (A) 07 દિવસ (B) 14 દિવસ
 (C) 21 દિવસ (D) 28 દિવસ
167. નિવેદન 1: નિયમિત પેરોલ પરનો સમયગાળો સજાના ભાગ રૂપે ગણવામાં આવશે.
 નિવેદન 2: ફર્લો પરનો સમયગાળો કેદી દ્વારા આપવામાં આવતી સજાના ભાગ રૂપે ગણવામાં આવશે.
 ઉપરોક્ત નિવેદનોના સંદર્ભમાં, કૃપા કરીને નીચેનામાંથી એક પસંદ કરો:
 (A) નિવેદન 1 સાચું છે અને નિવેદન 2 ખોટું છે.
 (B) નિવેદન 1 ખોટું છે અને નિવેદન 2 સાચું છે.
 (C) નિવેદન 1 અને 2 બંને સાચા છે.
 (D) નિવેદન 1 અને 2 બંને ખોટા છે.
168. જેલ અધિનિયમ, 1894ની ક્યાં કલમ અંતર્ગત, કેદીઓ માટે બાંધવામાં આવેલી અને જાળવવામાં આવેલી રહેઠાણની જોગવાઈ કરવામાં આવી છે:
 (A) કલમ 4 (B) કલમ 7
 (C) કલમ 24 (D) કલમ 27
169. નિવેદન 1: સ્ત્રી તેમજ પુરુષ કેદીઓ ધરાવતી જેલમાં, સ્ત્રીઓને અલગ ઈમારતો અથવા તે જ ઈમારતના અલગ ભાગોમાં કેદ કરવામાં આવશે.
 નિવેદન 2: જેલમાં જ્યાં 18 વર્ષથી ઓછી ઉંમરના પુરુષ કેદીઓને કેદ કરવામાં આવે છે, તેમને અન્ય કેદીઓથી સંપૂર્ણપણે અલગ કરવા અને તરુણાવસ્થાની ઉંમરે પહોંચેલા લોકોથી અલગ કરવા માટે, જેમની પાસે નથી.
 ઉપરોક્ત નિવેદનોના સંદર્ભમાં, કૃપા કરીને નીચેનામાંથી એક પસંદ કરો:
 (A) નિવેદન 1 સાચું છે અને નિવેદન 2 ખોટું છે.
 (B) નિવેદન 1 ખોટું છે અને નિવેદન 2 સાચું છે.
 (C) નિવેદન 1 અને 2 બંને સાચા છે.
 (D) નિવેદન 1 અને 2 બંને ખોટા છે.
170. બંધારણીય જોગવાઈમાંથી કઈ અનુચ્છેદ હેઠળ, પસંદગીના કાનૂની પ્રેક્ટિશનર દ્વારા પરામર્શ કરવાનો અને તેનો બચાવ કરવાનો અધિકાર, ઉપલબ્ધ છે:
 (A) અનુચ્છેદ 39A (B) અનુચ્છેદ 22(1)
 (C) અનુચ્છેદ 19(1) (a) (D) અનુચ્છેદ 14
171. જેલની સજા પામેલા કેદી, વકીલના અભાવે કોર્ટ સમક્ષ બચાવ કે અપીલ કરવામાં અસમર્થ હોય તો કયા અનુચ્છેદ હેઠળ સુપ્રીમ કોર્ટને આવા કેદીને સંપૂર્ણ ન્યાય કરવા માટે વકીલ સોંપવાની સત્તા છે.
 (A) અનુચ્છેદ 139A(2) (B) અનુચ્છેદ 138(1)
 (C) અનુચ્છેદ 145(1) (D) અનુચ્છેદ 142(1)

M

172. કયા નીચે જણાવેલ કેસમાં સુપ્રીમ કોર્ટે હાથકડીના ઉપયોગ અંગે સ્પષ્ટ માર્ગદર્શિકા નક્કી કરી હતી.
(A) પ્રેમ શંકર શુક્લા વિ. દિલ્હી પ્રશાસન
(B) સુનિલ બત્રા વિ. દિલ્હી પ્રશાસન
(C) સિટીઝન્સ ફોર ડેમોક્રેસી વિ. આસામ રાજ્ય
(D) ઉપરમાંથી એક પણ નહીં
173. કેદી અધિનિયમ 1894 ની કઈ જોગવાઈ, ચોક્કસ જેલ અપરાધો માટે બંધનોનો ઉપયોગ કરવાની મંજૂરી આપે છે, પરંતુ મહિલાઓ અને નાગરિક કેદીઓને બાકાત રાખે છે:
(A) કલમ 58
(B) કલમ 57
(C) કલમ 56
(D) કલમ 46(7)
174. કયા પ્રકારનો અધિકાર 'રાઈટ ટુ લાઈફ' છે:
(A) કુદરતી અધિકાર
(B) માનવ અધિકાર
(C) દીવાની અધિકાર
(D) ઉપરમાંથી એક પણ નહીં
175. જે વ્યક્તિએ કોઈ ગુના માટે વર્ષની કેદની સજા ભોગવી હોય, તેને ચૂંટણી લડવા માટે ગેરલાયક ઠેરવવામાં આવે છે.
1. 2 વર્ષ 2. 3 વર્ષ 3. 5 વર્ષ 4. 7 વર્ષ
નીચે આપેલા વિકલ્પોમાંથી સાચો જવાબ પસંદ કરો:
(A) માત્ર 4
(B) 3 અને 4
(C) 2, 3 અને 4
(D) 1, 2, 3 અને 4
176. કેદીઓ સાથેની વર્તણૂક માટેના યુનાઈટેડ નેશન્સ સ્ટાન્ડર્ડ મિનિમમ નિયમોને આ રીતે પણ ઓળખવામાં આવે છે:
(A) નેલ્સન માંડેલા નિયમો
(B) મહાત્મા ગાંધી નિયમો
(C) આંગ સાન સૂ કી નિયમો
(D) રોબર્ટ મુગાબે નિયમો
177. કાનૂની સેવા દિવસ આ તારીખે પર ઉજવવામાં આવે છે:
(A) 14 નવેમ્બર
(B) 08 જુલાઈ
(C) 09 નવેમ્બર
(D) ઉપરમાંથી એક પણ નહીં
178. 'તમે મારા મનને ક્યારેય કેદ નહીં કરો' આ વાક્ય આના સાથે સંબંધિત છે:
(A) વિનાયક દામોદર સાવરકર
(B) મોહનદાસ કરમચંદ ગાંધી
(C) કોરી એકિવનો
(D) બેનઝીર ભુટ્ટો
179. આર્ટિકલ 14-18 નીચેનામાંથી કયા અધિકાર સાથે સંબંધિત છે:
(A) બંધારણીય ઈલાજોનો અધિકાર
(B) સમાનતાનો અધિકાર
(C) શોષણ વિરુદ્ધના અધિકારનો હક
(D) ધાર્મિક સ્વતંત્રતાનો હક

180. જે વ્યક્તિની ધરપકડ કરવામાં આવી છે અને તેને કસ્ટડીમાં રાખવામાં આવે છે, તે એક મિત્ર અથવા સંબંધી અથવા તેના પરિચિત અથવા અન્ય વ્યક્તિને તેની ધરપકડ કરવામાં આવી હોવાની જાણ કરવા માટે હકદાર છે. આ જોગવાઈ નીચેનામાંથી કઈ રીતે પૂરી પાડવામાં આવી છે:
- (A) ડી. કે. બાસુ માર્ગદર્શિકાઓ
 (B) સી.આર.પી.સી.ની કલમ 50એ
 (C) બી.એન.એસ.એસ.ની કલમ 48
 (D) ઉપરોક્ત તમામ
181. ન્યાયિક સક્રિયતા શબ્દ સાથે સંકળાયેલા અર્થો શું છે:
1. સમાજના નબળા વર્ગને ન્યાય
 2. ચૂંટણી પ્રણાલીને મજબૂત બનાવવી
 3. કાર્યકારી જવાબદારી પર દબાણ લાવવા માટે
 4. મૂળભૂત અધિકારોને પુનઃસ્થાપિત કરવા માટે
 5. બંધારણનું અર્થઘટન
- નીચે આપેલા વિકલ્પોમાંથી સાચો જવાબ પસંદ કરો
- (A) 1, 2, 3, 4 અને 5
 (B) ફક્ત 2, 4 અને 5
 (C) ફક્ત 1, 2, 3 અને 4
 (D) ફક્ત 1, 3 અને 5
182. નીચેનામાંથી કઈ બાબતને 'કાયદાના શાસન'ની મુખ્ય લાક્ષણિકતાઓ તરીકે ગણવામાં આવે છે?
1. વહીવટી સત્તાઓની મર્યાદા
 2. કાયદા સમક્ષ સમાનતા
 3. સરકાર પ્રત્યે લોકોની જવાબદારી
 4. સ્વતંત્રતા અને નાગરિક અધિકારો
- નીચે આપેલા વિકલ્પોમાંથી સાચો જવાબ પસંદ કરો
- (A) માત્ર 1 અને 3
 (B) માત્ર 2 અને 4
 (C) માત્ર 1,2 અને 4
 (D) 1,2, 3 અને 4
183. કયા કાયદા / નિયમન હેઠળ કલકત્તામાં સર્વોચ્ચ અદાલતની સ્થાપના કરવામાં આવી હતી:
- (A) 1813નો ચાર્ટર એક્ટ
 (B) 1784નો પિટ ઈન્ડિયા એક્ટ
 (C) 1773નો નિયમન અધિનિયમ
 (D) ઉપરમાંથી એક પણ નહીં

184. કાયદાના નિયમના સિદ્ધાંતોના સંદર્ભમાં નીચેના વિધાનોનો વિચાર કરો:

1. કાયદાનું શાસન એ કોઈપણ સંસ્કારી લોકશાહી દેશમાં શાસનનો મૂળભૂત સિદ્ધાંત છે કારણ કે તે મનસ્વીપણાની વિરુદ્ધ છે.
2. ભારતીય બંધારણની કલમ 14 હેઠળ કાયદા સમક્ષ સમાન તકની વિભાવના એ કાયદાના શાસનનું એક તત્વ છે.
3. વ્યક્તિના અધિકારોની પ્રાધાન્યતા બ્રિટીશ સિસ્ટમની જેમ બંધારણથી ઉપર નથી ઉપરનામાંથી કયું વિધાન સાચું છે?

(A) ફક્ત 1 અને 2

(B) ફક્ત 2 અને 3

(C) ફક્ત 1 અને 3

(D) 1, 2 અને 3

185. નિવેદન(ન) : મૂળભૂત અધિકારો દેશને સરમુખત્યારશાહી શાસનથી મુક્ત બનાવે છે.

તર્ક(ત) : રાજકીય લોકશાહીના આદર્શોને પ્રોત્સાહન આપવા માટે મૂળભૂત અધિકારો રજૂ કરવામાં આવ્યા છે.

નીચે આપેલા વિકલ્પોમાંથી સાચો જવાબ પસંદ કરો:

(A) (ન) અને (ત) બંને સાચા છે અને (ત) (ન) ની સાચી સમજૂતી છે.

(B) (ન) સાચું છે પણ (ત) ખોટું છે.

(C) (ન) ખોટું છે પણ (ત) સાચું છે.

(D) (ન) અને (ત) બંને સાચા છે પરંતુ (ત) એ (ન) ની સાચી સમજૂતી નથી.

186. બંધારણ અનુસાર, નીચેનામાંથી કયું વિધાન 'કાયદા સમક્ષ સમાનતા' શબ્દને યોગ્ય રીતે વ્યાખ્યાયિત કરે છે?

(A) કોઈ પણ વ્યક્તિની તરફેણમાં વિશેષ વિશેષાધિકારની ગેરહાજરી.

(B) અમુક સંજોગોમાં વિશેષાધિકારોની ગેરહાજરી.

(C) અમુક સંજોગોમાં વિશેષાધિકારોની હાજરી.

(D) ઉપરોક્તમાંથી એક પણ નહીં.

187. નીચેનામાંથી કયા મૂળભૂત અધિકારો ભારતમાં કેદીઓને આપવામાં આવે છે?

1. વૈવાહિક સંબંધનો આનંદ માણવો

2. ડિફેલ્ટ જામીન મેળવવા માટે

3. જેલમાં મજૂરી માટે લઘુત્તમ વેતન

નીચે આપેલા વિકલ્પોમાંથી સાચો જવાબ પસંદ કરો:

(A) ફક્ત 1

(B) ફક્ત 2 અને 3

(C) ફક્ત 2

(D) 1, 2 અને 3

188. મૂળભૂત અધિકારો સાથે સંકળાયેલા નીચેના વિધાનોને ધ્યાનમાં લો:

1. આગોતરા જામીન મેળવવાનો અધિકાર સીઆરપીસી હેઠળ સામાન્ય અને ઘોષિત બંને ગુનેગારને પૂરો પાડવામાં આવે છે.
2. સીઆરપીસીની કલમ 144 દ્વારા લાદવામાં આવેલા પ્રતિબંધોને કલમ 19 (2) હેઠળ નિર્ધારિત વાજબી નિયંત્રણો હેઠળ આવરી લેવામાં આવ્યા છે.

નીચે આપેલા વિકલ્પોમાંથી સાચો જવાબ પસંદ કરો:

- (A) ફક્ત 1 (B) ફક્ત 2
(C) 1 અને 2 બંને (D) 1 કે 2 માંથી કોઈ નહિ

189. બંધારણના અનુચ્છેદ 21 પરના સીમાચિહ્નરૂપ કિસ્સાઓના સંદર્ભમાં, નીચેની બાબતોને ધ્યાનમાં લો:

1. ગોપાલન કેસમાં એવું માનવામાં આવ્યું હતું કે આર્ટિકલ 21 નું રક્ષણ ફક્ત કારોબારી કાર્યવાહી સામે જ ઉપલબ્ધ છે.
2. મેનકા ગાંધી કેસમાં એવું ઠરાવવામાં આવ્યું હતું કે આર્ટિકલ 21 નું રક્ષણ માત્ર કારોબારી સામે જ નહીં પરંતુ કાયદાકીય વિરુદ્ધ પણ ઉપલબ્ધ છે.
3. કે. એસ. પુટ્ટસ્વામી કેસમાં જણાવાયું છે કે ગોપનીયતા એ એક તટસ્થ અધિકાર છે જે તમામ કુદરતી વ્યક્તિમાં રહે છે.

નીચે આપેલા વિકલ્પોમાંથી સાચો જવાબ પસંદ કરો:

- (A) ફક્ત 1 (B) ફક્ત 2 અને 3
(C) ફક્ત 3 (D) 1, 2 અને 3

190. નીચેના વિધાનોને ધ્યાનમાં લો:

1. મેનકા ગાંધી વિ. યુનિયન ઓફ ઈન્ડિયા એ એક એવો કેસ હતો જેને ભારતીય બંધારણના સુવર્ણ ત્રિકોણ ન્યાયશાસ્ત્રની સ્થાપના કરી હતી.
2. આર્ટિકલ 21 હેઠળ તમામ ઉલ્લંઘન અને કાર્યવાહીગત આવશ્યકતાઓનું આર્ટિકલ 14 અને આર્ટિકલ 19 માટે પણ પરીક્ષણ કરવામાં આવશે.

નીચે આપેલા વિકલ્પોમાંથી સાચો જવાબ પસંદ કરો:

- (A) ફક્ત 1 (B) ફક્ત 2
(C) 1 અને 2 બંને (D) 1 કે 2 માંથી કોઈ નહિ

191. રાજ્યની નીતિના નીચેનામાંથી કયો માર્ગદર્શક સિદ્ધાંત ગાંધી વિચારધારાનું પ્રતિનિધિત્વ કરે છે?

1. રાજ્યની જાહેર સેવાઓમાં કારોબારીને કાયદાકીયથી અલગ કરવું.
2. સ્વાસ્થ્ય માટે હાનિકારક હોય તેવી નશાકારક દવાઓના સેવન પર પ્રતિબંધ.
3. ગરીબોને મફત કાનૂની સહાય પૂરી પાડવી.

નીચે આપેલા વિકલ્પોમાંથી સાચો જવાબ પસંદ કરો:

- (A) ફક્ત 2 અને 3 (B) ફક્ત 2
(C) ફક્ત 1 અને 3 (D) 1, 2 અને 3

192. કલમ 20 ને લગતા નીચેનામાંથી કયું વિધાન સાચું છે?

1. ભૂતપૂર્વ પોસ્ટ-ફેક્ટો કાયદાની મર્યાદા ફક્ત ફોજદારી કાયદાઓ પર લાદવામાં આવી છે, કર કાયદાઓ પર નહીં.
2. બેવડું જોખમ સામે રક્ષણ અધિકારીઓ સમક્ષની કાર્યવાહીમાં ઉપલબ્ધ નથી જે ન્યાયિક પ્રકૃતિની નથી.

નીચે આપેલા વિકલ્પોમાંથી સાચો જવાબ પસંદ કરો:

- (A) ફક્ત 1 (B) ફક્ત 2
(C) 1 અને 2 બંને (D) 1 કે 2 માંથી કોઈ નહિ

193. 'ન્યાયાધીશોની પુનઃપ્રાપ્તિ'ના સંદર્ભમાં નીચેના વિધાનોને ધ્યાનમાં લો:

1. જો ન્યાયાધીશ હિતોના ટકરાવ સાથે સંકળાયેલા કેસમાંથી પોતાને દૂર ન કરે તો તે સંસદમાં ન્યાયાધીશને દૂર કરવા માટેનું એક કારણ બની શકે છે.
2. આ કેસમાં સામેલ પક્ષકાર સાથે અગાઉનું અથવા વ્યક્તિગત જોડાણ હોવું એ પુનઃપ્રાપ્તિનું કારણ હોઈ શકે છે.

નીચે આપેલા વિકલ્પોમાંથી સાચો જવાબ પસંદ કરો:

- (A) ફક્ત 1 (B) ફક્ત 2
(C) 1 અને 2 બંને (D) 1 કે 2 માંથી કોઈ નહિ

194. નિવેદન I - અંડર ટ્રાયલ કેદી લોકસભા માટે ચૂંટણી દરમિયાન મતદાન કરી શકતો નથી.

નિવેદન II - લોકપ્રતિનિધિત્વ અધિનિયમની કલમ 62(5)માં દોષિત કેદીઓ અને અંડરટ્રાયલ કેદીઓને કોઈ પણ ચૂંટણીમાં મતદાન કરવા પર પ્રતિબંધ છે.

ઉપરોક્ત નિવેદનોના સંદર્ભમાં, કૃપા કરીને નીચેનામાંથી એક પસંદ કરો:

- (A) નિવેદન 1 સાચું છે અને નિવેદન 2 ખોટું છે.
(B) નિવેદન 1 ખોટું છે અને નિવેદન 2 સાચું છે.
(C) નિવેદન 1 અને 2 બંને સાચા છે.
(D) નિવેદન 1 અને 2 બંને ખોટા છે.

195. ન્યાયાધીશોની પુનઃપ્રાપ્તિનો સાથે સંબંધિત નીચેના વિધાનોને ધ્યાનમાં લો:

1. ન્યાયાધીશોની પુનઃપ્રાપ્તિનો સિદ્ધાંત કાયદા દ્વારા સ્થાપિત પ્રક્રિયાના સિદ્ધાંતથી ઉદ્ભવે છે.
2. સામાન્ય રીતે પુનઃપ્રાપ્તિનો નિર્ણય ન્યાયાધીશોએ જાતે જ આપે છે.
3. પુનઃપ્રાપ્તિ પ્રક્રિયાને સંચાલિત કરવા માટે કોઈ ઔપચારિક નિયમો નથી.

ઉપરનામાંથી કયું વિધાન સાચું છે?

- (A) ફક્ત 1 અને 2 (B) ફક્ત 2 અને 3
(C) ફક્ત 1 અને 3 (D) 1, 2 અને 3

196. ટેલિ-કાનૂન એ નીચેનામાંથી કોની પહેલ છે?

- (A) ભારતની સર્વોચ્ચ અદાલત (B) ડિપાર્ટમેન્ટ ઓફ જસ્ટિસ, કાયદા મંત્રાલય
(C) પ્રધાનમંત્રી કાર્યાલય (D) કેબિનેટ સચિવાલય

197. ભારતની સર્વોચ્ચ અદાલત દ્વારા 2018 માં જેલ વહીવટ અને વ્યવસ્થાપનમાં સુધારાના મુદ્દાઓની તપાસ માટે એક સમિતિની રચના કરવામાં આવી હતી. આ સમિતિએ 2022માં પોતાનો રિપોર્ટ સોંપ્યો હતો. ઉક્ત સમિતિનું નામ શું છે?
- (A) જસ્ટિસ અમિતાવ રોય કમિટી
 (B) જસ્ટિસ નજમી વઝીરી કમિટી
 (C) જસ્ટિસ કે એસ રાધાકૃષ્ણન સમિતિ
 (D) ઉપરમાંથી એક પણ નહીં
198. રાષ્ટ્રીય કાનૂની સેવા સત્તામંડળના સંબંધમાં નીચેના વિધાનોને ધ્યાનમાં લો:
1. NALSAનો મુખ્ય ઉદ્દેશ સમાજના નબળા વર્ગોને મફત અને સક્ષમ કાનૂની સેવાઓ પૂરી પાડવાનો અને વિવાદોના સુખદ સમાધાન માટે લોક અદાલતોનું આયોજન કરવાનો છે.
 2. ભારતના મુખ્ય ન્યાયાધીશ પેટ્રન-ઈન-ચીફ છે અને ભારતની સર્વોચ્ચ અદાલતના સૌથી વરિષ્ઠતમ ન્યાયાધીશ ઓથોરિટીના એક્ઝિક્યુટિવ ચેરમેન છે.
 3. જો સુપ્રીમ કોર્ટ સિવાય અન્ય કોઈ પણ કોર્ટ સમક્ષ કેસ હોય, તો તે માટે સરકારો વાર્ષિક આવકની ટોચમર્યાદા નક્કી કરે છે, જેની નીચે કોઈ વ્યક્તિ ઓથોરિટી દ્વારા ઓફર કરવામાં આવતી મફત કાનૂની સેવાઓનો લાભ લઈ શકે છે.
- ઉપરનામાંથી કયું વિધાન સાચું છે?
- (A) ફક્ત 1 અને 2
 (B) ફક્ત 1 અને 3
 (C) ફક્ત 2 અને 3
 (D) 1, 2 અને 3
199. કયા વર્ષમાં નેશનલ લીગલ સર્વિસ ઓથોરિટી (NALSA)ની રચના કરવામાં આવી હતી?
- (A) 1987
 (B) 1995
 (C) 2015
 (D) 2018
200. નીચેનામાંથી કયા કેસમાં કોર્ટ દ્વારા એડવોકેટની એમિકસ ક્યુરિયા તરીકે નિમણૂંક કરી શકાય?
1. સામાન્ય જાહેર મહત્ત્વની કોઈ પણ બાબતમાં
 2. જો આરોપીનું પ્રતિનિધિત્વ ન થાય તો
 3. જો આરોપીને રજૂ કરવામાં આવે છે પરંતુ તેના વકીલ ગેરહાજર છે
- નીચે આપેલા વિકલ્પોમાંથી સાચો જવાબ પસંદ કરો;
- (A) ફક્ત 1 અને 2
 (B) ફક્ત 2
 (C) ફક્ત 1 અને 3
 (D) 1, 2 અને 3
201. ડિસ્ટ્રિક્ટ જજની નિમણૂંક આના દ્વારા કરવામાં આવે છે:
- (A) રાષ્ટ્રપતિ સાથે પરામર્શમાં રાજ્યના રાજ્યપાલ
 (B) રાજ્યપાલ સાથે પરામર્શ કરીને રાજ્ય હાઈકોર્ટના મુખ્ય ન્યાયાધીશ
 (C) સંબંધિત હાઈકોર્ટના મુખ્ય ન્યાયાધીશની સલાહ પર રાજ્યપાલ
 (D) રાષ્ટ્રપતિ સાથે પરામર્શ કરીને હાઈકોર્ટના ન્યાયાધીશ

202. ભારતમાં સૌપ્રથમ સેન્ટ્રલ જેલની રચના કર્ણ સમિતિ/કમિશનની ભલામણોને અનુસરીને કરવામાં આવી હતી:
- (A) લોર્ડ મેકકૌલી કમિશન રિપોર્ટ, 1835
 (B) ધ જેલ શિસ્ત સમિતિ, 1836
 (C) કમિશન ઓફ જેલ મેનેજમેન્ટ એન્ડ ડિસિપ્લિન, 1864
 (D) ઉપરમાંથી એક પણ નહીં
203. BNSS 2023ની કર્ણ કલમમાં વધુમાં વધુ સમયગાળાની જોગવાઈ કરવામાં આવી છે, જેના માટે અંડરટ્રાયલ કેદીની અટકાયત કરી શકાય છે:
- (A) કલમ 436A (B) કલમ 436
 (C) કલમ 478 (D) કલમ 479
204. બીએનએસએસ 2023 ની કર્ણ કલમ, નિર્ધારિત સમયગાળાની અંદર ચાર્જશીટ ફાઈલ કરવામાં ફરિયાદી પક્ષ પર ડિફોલ્ટ પર જામીન માટેની જોગવાઈ કરે છે:
- (A) કલમ 164 (B) કલમ 167
 (C) કલમ 187 (D) કલમ 190
205. આરોપીને તમામ તબક્કે ઝડપી સુનાવણીનો અધિકાર ઉપલબ્ધ છે. સુપ્રીમ કોર્ટે કયા કેસમાં આ સિદ્ધાંતને માન્યો હતો:
- (A) એ. આર. અંતુલે વિ. આર. એસ. નાયક
 (B) ડી. કે. બાસુ વિ. પશ્ચિમ બંગાળ રાજ્ય
 (C) રસિકભાઈ રામસીંગ રાણા વિ. ગુજરાત રાજ્ય
 (D) ઉપરમાંથી એક પણ નહીં
206. જિલ્લા ન્યાયાધિશોની નિમણૂક સાથે સંબંધિત નીચેનાં વિધાનોનો વિચાર કરો:
1. રાજ્યમાં જિલ્લા ન્યાયાધીશોની નિમણૂક, પોસ્ટિંગ અને બઢતી રાજ્યપાલ દ્વારા હાઈકોર્ટની સલાહ સાથે કરવામાં આવે છે.
 2. ગૌણ ન્યાયિક અધિકારીઓ જો એડવોકેટ તરીકે સાત વર્ષનો અનુભવ ધરાવતા હોય તો તેઓ જિલ્લા ન્યાયાધીશ તરીકે સીધી નિમણૂક માટે અરજી કરી શકે છે.
- નીચે આપેલા વિકલ્પોમાંથી સાચો જવાબ પસંદ કરો;
- (A) ફક્ત 1 (B) ફક્ત 2
 (C) 1 અને 2 બંને (D) 1 કે 2 માંથી કોઈ નહિ
207. ટ્રાયલ હેડળની સમીક્ષા સમિતિઓ ની અધ્યક્ષતા નીચે મુજબ છે:
- (A) ભારતના મુખ્ય ન્યાયાધીશ
 (B) ભારતની સર્વોચ્ચ અદાલતના સૌથી વરિષ્ઠ ન્યાયાધીશ
 (C) ગૃહ મંત્રાલયના સચિવ
 (D) ઉપરમાંથી એક પણ નહીં

208. અંડર ટ્રાયલ રિવ્યુ કમિટીના સભ્યો નીચે મુજબ છે:

1. જિલ્લા કાનૂની સેવા સત્તામંડળના સચિવ
 2. સંબંધિત પ્રદેશની વિધાનસભાના સભ્ય
 3. સંબંધિત પ્રદેશના જિલ્લા મેજિસ્ટ્રેટ
 4. સંબંધિત વિસ્તારના પોલીસ અધીક્ષક
- નીચે આપેલા વિકલ્પોમાંથી સાચો જવાબ પસંદ કરો;

- (A) ફક્ત 1 જ સાચું છે
 (B) ફક્ત 2 જ સાચા છે
 (C) ફક્ત 3 જ સાચા છે
 (D) બધા સાચા છે

209. ડિસ્ટ્રિક્ટ જજની કામગીરી અને સત્તાઓના સંદર્ભમાં નીચેના વિધાનોને ધ્યાનમાં લો:

1. ડિસ્ટ્રિક્ટ જજ સિવિલ તેમજ ફોજદારી બંને બાબતોમાં મૂળ અને અપીલીય અધિકારક્ષેત્ર ધરાવે છે.
2. ડિસ્ટ્રિક્ટ જજ દ્વારા પસાર કરવામાં આવેલી દેહાંત દંડ હંમેશાં હાઈકોર્ટ દ્વારા પુષ્ટિને આધિન હોય છે, પછી ભલે કોઈ અપીલ હોય કે ન હોય.

ઉપર આપેલા વિધાનોમાંથી કયું સાચું છે / સાચા છે?

- (A) ફક્ત 1
 (B) ફક્ત 2
 (C) 1 અને 2 બંને
 (D) 1 કે 2 માંથી કોઈ નહિ

210. નીચેના વિધાનોને ધ્યાનમાં લો:

1. ઈ-કોર્ટ્સ પ્રોજેક્ટ અખિલ ભારતીય પ્રોજેક્ટ છે, જેનો ઉદ્દેશ જિલ્લા અને તાબાની અદાલતોના સાર્વત્રિક કમ્પ્યુટરાઈઝેશનનો છે.
2. નેશનલ જ્યુડિશિયલ ડેટા ગ્રિડ ઈ-કોર્ટ પ્રોજેક્ટનાં નેજા હેઠળનો મુખ્ય પ્રોજેક્ટ છે.

ઉપર આપેલા વિધાનોમાંથી કયું સાચું છે / સાચા છે?

- (A) ફક્ત 1
 (B) ફક્ત 2
 (C) 1 અને 2 બંને
 (D) 1 કે 2 માંથી કોઈ નહિ

211. રાષ્ટ્રીય માનવ અધિકાર પંચ (NHRC)ની નીચેનામાંથી કઈ કામગીરી છે?

1. માનવાધિકારોના ઉલ્લંઘનની કોઈપણ બાબતમાં તપાસ કરવી, પરંતુ તેની ઘટનાના માત્ર એક વર્ષમાં જ.
2. માનવ અધિકારોનો ભંગ કરનારને સજા કરવી.
3. પીડિતાની નાણાકીય રાહત સહિત કોઈપણ રાહત આપવી.

નીચે આપેલા વિકલ્પોમાંથી સાચો જવાબ પસંદ કરો:

- (A) ફક્ત 1
 (B) ફક્ત 1 અને 3
 (C) ફક્ત 2 અને 3
 (D) 1, 2 અને 3

212. રાષ્ટ્રીય માનવ અધિકાર પંચ (NHRC) વિશે નીચેના વિધાનોનો વિચાર કરો:
1. NHRCના અધ્યક્ષ ભારતના નિવૃત્ત મુખ્ય ન્યાયાધીશ હોવા જોઈએ.
 2. તે માનવાધિકારના ક્ષેત્રમાં કામ કરતી બિન-સરકારી સંસ્થાઓના પ્રયત્નોને પ્રોત્સાહિત કરી શકે છે.
 3. માનવ અધિકારનો ભંગ કરનારને સજા કરવાની તેની પાસે કોઈ સત્તા નથી.
 4. પીડિતાને નાણાકીય રાહત સહિતની કોઈપણ રાહત આપવાની સત્તા છે.
- ઉપરનામાંથી કયું વિધાન સાચું છે:
- (A) ફક્ત 1, 2 અને 3 (B) ફક્ત 2 અને 3
(C) ફક્ત 1, 3 અને 4 (D) 1, 2, 3 અને 4
213. ભારતમાં આંતર-કાર્યક્ષમ ફોજદારી ન્યાય પ્રણાલીના સંદર્ભમાં નીચેના નિવેદનોનો વિચાર કરો:
1. આ પ્રોજેક્ટના અમલીકરણ માટે રાષ્ટ્રીય તપાસ એજન્સી જવાબદાર છે.
 2. આ એક કેન્દ્રીય ક્ષેત્રની યોજના છે, જેનો અમલ રાજ્ય સરકાર અને કેન્દ્રશાસિત પ્રદેશો બંને દ્વારા કરવામાં આવે છે.
 3. તે ઈ-કોર્ટ અને ઈ-જેલ ડેટાબેઝ સાથે કાર્યમ અને ક્રિમિનલ ટ્રેકિંગ નેટવર્ક એન્ડ સિસ્ટમ પ્રોજેક્ટને સંકલિત કરે છે.
- ઉપર આપેલા વિધાનોમાંથી કયું સાચું છે / સાચા છે?
- (A) ફક્ત 1 અને 2 (B) ફક્ત 2 અને 3
(C) ફક્ત 2 (D) 1, 2 અને 3
214. અનુચ્છેદ 14 હેઠળ સમાનતાના અધિકાર સાથે સંબંધિત નીચેનામાંથી કયું વિધાન સાચું છે?
1. ભારતીય બંધારણમાં કાયદા સમક્ષ સમાનતા શબ્દ એક સકારાત્મક ખ્યાલ છે જ્યારે કાયદાનું સમાન રક્ષણ એ નકારાત્મક ખ્યાલ છે.
 2. ફક્ત કાયદા સમક્ષ સમાનતાનો અધિકાર વિદેશીઓ માટે ઉપલબ્ધ છે પરંતુ કાયદાના સમાન સંરક્ષણનો અધિકાર નથી. નીચે આપેલા વિકલ્પોમાંથી સાચો જવાબ પસંદ કરો:
- (A) ફક્ત 1 (B) ફક્ત 2
(C) 1 અને 2 બંને (D) 1 કે 2 માંથી કોઈ નહિ
215. માનવ અધિકારો સાથે સંબંધિત નીચેનામાંથી કયું વિધાન સાચું છે / સાચા છે?
1. યુનાઈટેડ નેશન્સ જનરલ એસેમ્બલી દ્વારા 1948માં માનવ અધિકારોની સાર્વત્રિક ઘોષણાને અપનાવવામાં આવી હતી.
 2. તેમાં જીવન, સ્વતંત્રતા, ગૌરવ, સમાનતા અને ભાઈચારાના મૂળભૂત અધિકારોનો સમાવેશ થતો હતો.
 3. આ અધિકારો સભ્ય દેશો માટે કાનૂની રીતે બંધનકર્તા નથી.
- નીચે આપેલા વિકલ્પોમાંથી સાચો જવાબ પસંદ કરો:
- (A) ફક્ત 1 (B) ફક્ત 1 અને 2
(C) ફક્ત 1 અને 3 (D) 1, 2 અને 3
216. પ્રતિવાદી અને ફરિયાદી પક્ષ વચ્ચે સુનાવણી પૂર્વેની વાટાઘાટોને સક્ષમ બનાવવા માટે પ્લી બાર્ગોનિંગની વિભાવના રજૂ કરવામાં આવી હતી. કઈ કલમ/ઓ હેઠળ, આ જોગવાઈ BNSS 2023 માં પ્રદાન કરવામાં આવી છે:
- (A) કલમ 265A (B) કલમ 265B
(C) કલમ 290 (D) કલમ 296

217. પોસ્ટલ બેલેટને આના માટે મંજૂરી આપવામાં આવી છે:

1. સેવકીય મતદારો
2. દોષિત કેદીઓ
3. મતદારોને અટકાયતી અટકાયતને આધિન
4. ખાસ મતદારો

નીચે આપેલા વિકલ્પોમાંથી સાચો જવાબ પસંદ કરો:

- (A) ફક્ત 1 જ સાચું છે (B) ફક્ત 2 જ સાચા છે
(C) ફક્ત 3 જ સાચા છે (D) બધા સાચા છે

218. કસ્ટોડિયલ હિંસાને લગતા નીચેના વિધાનોને ધ્યાનમાં લો:

1. કસ્ટોડિયલ હિંસા શબ્દને કોઈ પણ કાયદા હેઠળ નકારી કાઢવામાં આવ્યો નથી.
2. અત્યાચાર માટે રક્ષણ એ બંધારણના અનુચ્છેદ 22(1) હેઠળ મૂળભૂત અધિકાર છે.
3. ભારતે ન તો UN કન્વેન્શન અગેઈન્સ્ટ ટોર્ચર (UNCAT)ને બહાલી આપીને હસ્તાક્ષર કર્યા છે.

ઉપરોક્તમાંથી કયું વિધાન ખોટું છે?

- (A) ફક્ત 1 અને 2 (B) ફક્ત 2
(C) ફક્ત 2 અને 3 (D) ફક્ત 1 અને 3

219. 42મા બંધારણીય સુધારા કાયદા દ્વારા નીચેનામાંથી કયા નિર્દેશો ઉમેરવામાં આવ્યા ન હતા?

- (A) બાળકોના સ્વસ્થ વિકાસ માટેની તકો સુરક્ષિત કરવી.
(B) સમાન ન્યાયને પ્રોત્સાહન આપવું અને ગરીબોને મફત કાનૂની સહાય પૂરી પાડવી.
(C) ઉદ્યોગોના સંચાલનમાં કામદારોની ભાગીદારીને સુરક્ષિત કરવા પગલાં લેવા.
(D) આવક, દરજ્જો, સુવિધાઓ અને તકોમાં અસમાનતાઓને ઘટાડવા માટે.

220. કેદીઓના સંબંધમાં, મફત કાનૂની સહાયનો અધિકાર, ન્યાયી સુનાવણીનો અધિકાર અને ઝડપી સુનાવણીના અધિકારની ખાતરી આપવામાં આવી છે, ભારતના બંધારણની કઈ જોગવાઈમાં છે?

- (A) અનુચ્છેદ 19 (B) અનુચ્છેદ 21
(C) અનુચ્છેદ 22 (D) ઉપરમાંથી એક પણ નહીં

221. ફોજદારી કાર્યરીતિ (ઓળખ) અધિનિયમ 2022ના સંદર્ભમાં નીચેના વિધાનોને ધ્યાનમાં લો:

1. આ અધિનિયમ પોલીસ અધિકારીઓ અથવા જેલ અધિકારીઓને દોષિતો અથવા જેમની ગુના માટે ધરપકડ કરવામાં આવી છે તેમની પાસેથી ચોક્કસ ઓળખી શકાય તેવી માહિતી એકત્રિત કરવાની સત્તા આપે છે.
2. આ કાયદામાં એવી જોગવાઈ કરવામાં આવી છે કે મેજિસ્ટ્રેટ કે કોર્ટ દ્વારા અન્યથા નિર્દેશ આપવામાં ન આવે ત્યાં સુધી, અગાઉ દોષિત ઠેરવવામાં ન આવી હોય તેવી વ્યક્તિઓના કિસ્સામાં રેકોર્ડ્સનો નાશ કરવામાં આવશે અને જેમને ટ્રાયલ વિના છોડી મૂકવામાં આવ્યા છે, તેમને મુક્ત કરવામાં આવશે અથવા કોર્ટ દ્વારા નિર્દોષ જાહેર કરવામાં આવશે.

ઉપરનામાંથી કયું વિધાન સાચું છે?

- (A) ફક્ત 1 (B) ફક્ત 2
(C) 1 અને 2 બંને (D) 1 કે 2 માંથી કોઈ નહિ

222. કેદીઓને તેમના મતાધિકાર પર સંબંધિત જોગવાઈઓના સંદર્ભમાં નીચેના વિધાનોને ધ્યાનમાં લો:
1. ટ્રાયલ હેઠળના કેદીઓના નામ મતદારયાદીમાં હોય તો પણ તેમને ચૂંટણીમાં ભાગ લેવાથી બાકાત રાખવામાં આવે છે.
 2. નિવારક ડીટેની પોસ્ટલ બેલેટ દ્વારા પોતાનો મત આપી શકે છે.
- ઉપરનામાંથી કયું વિધાન સાચું છે?
- (A) ફક્ત 1 (B) ફક્ત 2
(C) 1 અને 2 બંને (D) 1 કે 2 માંથી કોઈ નહિ
223. ન્યાય મિત્ર યોજનાના સંદર્ભમાં નીચેના વિધાનોને ધ્યાનમાં લો:
1. આ યોજનાનો ઉદ્દેશ ફક્ત નીચલી અદાલતોમાં 10-15 વર્ષ જૂના પેન્ડિંગ કેસોનો ઝડપી નિકાલ કરવાની સુવિધા આપવાનો છે.
 2. આ યોજના કાનૂની કુશળતા ધરાવતા નિવૃત્ત ન્યાયિક અથવા એકિઝક્યુટિવ અધિકારી દ્વારા કાર્યરત કરવામાં આવશે.
- ઉપરનામાંથી કયું વિધાન સાચું છે?
- (A) ફક્ત 1 (B) ફક્ત 2
(C) 1 અને 2 બંને (D) 1 કે 2 માંથી કોઈ નહિ
224. ભારતના રાષ્ટ્રીય માનવાધિકાર આયોગની રચના ક્યારે કરવામાં આવી?
- (A) 1993 (B) 1992
(C) 1990 (D) 1991
225. રાષ્ટ્રીય માનવાધિકાર આયોગના અધ્યક્ષનો કાર્યકાળ કેટલો છે?
- (A) 3 વર્ષ અથવા 70 વર્ષ સુધીની ઉંમર
(B) 4 વર્ષ અથવા 68 વર્ષ સુધીની ઉંમર સુધી
(C) 5 વર્ષ અથવા 65 વર્ષ સુધીની ઉંમર
(D) ઉપરમાંથી એક પણ નહીં
226. નીચેનામાંથી કઈ આંતરરાષ્ટ્રીય સંધિને ભારતે બહાલી આપી છે:
- (A) નાગરિક અને રાજકીય અધિકારો પર આંતરરાષ્ટ્રીય કરાર (આઈ.સી.સી.પી.આર.)
(B) આર્થિક, સામાજિક અને સાંસ્કૃતિક અધિકારો પર આંતરરાષ્ટ્રીય કરાર (આઈ.સી.ઈ.એસ.સી.આર.)
(C) (A) અને (B) બંને
(D) ન તો (A) કે (B)
227. ભારતના બંધારણના કયા અનુચ્છેદ હેઠળ, સંસદને અન્ય કોઈ દેશ કે દેશો સાથે કોઈ પણ સંધિ, સમજૂતી કે સંમેલન અથવા કોઈ પણ આંતરરાષ્ટ્રીય પરિષદ, સંગઠન કે અન્ય સંસ્થામાં કરવામાં આવેલા કોઈ પણ નિર્ણયના અમલ માટે કોઈ પણ કાયદો બનાવવાની સત્તા છે.
- (A) અનુચ્છેદ 245 (B) અનુચ્છેદ 246
(C) અનુચ્છેદ 253 (D) અનુચ્છેદ 254

228. નીચેના કાયદાઓ દેશની જેલોના નિયમન અને સંચાલન પર અસર કરે છે:

1. જેલ અધિનિયમ, 1894
2. કેદીઓનો કાયદો, 1900
3. ભારતનું બંધારણ, 1950
4. જનપ્રતિનિધિત્વ કાયદો, 1951

નીચે આપેલા વિકલ્પોમાંથી સાચો જવાબ પસંદ કરો:

- (A) ફક્ત 2 (B) ફક્ત 3
(C) બધા સાચા છે (D) ઉપરમાંથી એક પણ નહીં

229. નીચેના વિધાનોને ધ્યાનમાં લો:

વિધાન - 1 : ભારતમાં, જેલોનું સંચાલન રાજ્ય સરકારો દ્વારા જેલોના દૈનિક વહીવટ માટે તેમના પોતાના નીતિ અને નિયમો સાથે કરવામાં આવે છે.

વિધાન- 2 : ભારતમાં, જેલોનું સંચાલન 1894ના જેલ અધિનિયમ દ્વારા કરવામાં આવે છે, જે સ્પષ્ટપણે જેલનો વિષય પ્રાંતીય સરકારના નિયંત્રણમાં રાખે છે.

ઉપરોક્ત વિધાનોના સંદર્ભમાં નીચેનામાંથી કયું સાચું છે?

- (A) સ્ટેટમેન્ટ-I અને સ્ટેટમેન્ટ-II બંને સાચાં છે અને સ્ટેટમેન્ટ-II સ્ટેટમેન્ટ-I માટે યોગ્ય સમજૂતી છે.
(B) સ્ટેટમેન્ટ-I અને સ્ટેટમેન્ટ-II બંને સાચાં છે અને સ્ટેટમેન્ટ-II એ સ્ટેટમેન્ટ-I માટે યોગ્ય સમજૂતી નથી.
(C) નિવેદન-I સાચું છે પરંતુ નિવેદન-II ખોટું છે
(D) વિધાન-I ખોટું છે પરંતુ નિવેદન-II સાચું છે

230. જેલ સુધારણા અંગે ભલામણો કરવા માટે ભારત સરકાર દ્વારા 1951 માં કયા નિષ્ણાતને આમંત્રણ અપાયું હતું:

- (A) માર્કલ ફાબરી (B) ટાલેંગ મોફોકેંગ
(C) એલિસ જીલ ડેવર્સ (D) વોલ્ટર રેકલેસ

231. સીઆરપીસીની કલમ 433એ (સંબંધિત કલમ બીએનએસએસ 2023 ની 475 છે) જણાવે છે કે:

- (A) કેદીની સજા 07 વર્ષની જેલ પછી જ માફ કરી શકાય છે.
(B) કેદીની સજા 10 વર્ષની જેલ પછી જ માફ કરી શકાય છે.
(C) કેદીની સજા 14 વર્ષની જેલ બાદ જ માફ કરી શકાય છે.
(D) ઉપરમાંથી એક પણ નહીં

232. કૃપા કરીને નીચેના વિધાનોને ધ્યાનમાં લો:

1. જ્યારે કેદી પૂરતો કેસ કરે છે, ત્યારે આવા કેદીને પેરોલ નકારી શકાય નહીં કારણ કે તે તેના અધિકારની બાબત બની જાય છે.

2. રાજ્ય સરકારો પાસે પેરોલ નિયમો પર તેમની પોતાની કેદી મુક્તિ છે.

ઉપર આપેલા વિધાનોમાંથી કયું સાચું છે?

- (A) ફક્ત 1 (B) ફક્ત 2 (C) 1 અને 2 બંને (D) 1 કે 2 માંથી કોઈ નહિ

233. કૃપા કરીને નીચેના વિધાનોને ધ્યાનમાં લો:

નિવેદન-1 : 1894ના જેલ અધિનિયમમાં, સુધારા પર ધ્યાન કેન્દ્રિત કરવાની સ્પષ્ટ ક્ષતિ છે.

નિવેદન- 2 : 1894ના જેલ અધિનિયમ ગુનેગારને કસ્ટડીમાં રાખવા અને શિસ્તના અમલીકરણ પર ધ્યાન કેન્દ્રિત કરે છે.

ઉપરોક્ત વિધાનોના સંદર્ભમાં નીચેનામાંથી કયું સાચું છે?

(A) નિવેદન-I અને નિવેદન-II બંને સાચાં છે અને નિવેદન-II એ નિવેદન -I માટે યોગ્ય સમજૂતી છે.

(B) નિવેદન-I અને નિવેદન-II બંને સાચાં છે અને નિવેદન-II એ નિવેદન-I માટે યોગ્ય સમજૂતી નથી.

(C) નિવેદન-I સાચું છે પરંતુ નિવેદન-II ખોટું છે.

(D) નિવેદન-I ખોટું છે પરંતુ નિવેદન-II સાચું છે.

234. જેલ સ્ટેટિસ્ટિક્સ ઈન્ડિયા (પીએસઆઈ) એક અહેવાલ છે જે આના દ્વારા પ્રકાશિત કરવામાં આવ્યો છે:

(A) બ્યુરો ઓફ પોલીસ રિસર્ચ એન્ડ ડેવલપમેન્ટ

(B) ટાટા ઈન્સ્ટિટ્યૂટ ઓફ સોશિયલ સાયન્સિસ

(C) નેશનલ ક્રાઈમ રેકોર્ડ બ્યુરો

(D) એમનેસ્ટી આંતરરાષ્ટ્રીય

235. જેલ આંકડા, ભારત (પીએસઆઈ)-2022 મુજબ, ભારતની જેલોમાં રાષ્ટ્રીય સરેરાશ ઓક્યુપન્સી રેટ કેટલો છે:

(A) 118%

(B) 130.2%

(C) 131.4%

(D) 135%

236. નીચે જણાવેલા રાજ્યોમાંથી કયા રાજ્યમાં સૌથી વધુ સ્પેશ્યલ જેલ છે?

(A) તમિલનાડુ

(B) તેલંગાણા

(C) પશ્ચિમ બંગાળ

(D) કેરળ

237. કૃપા કરીને ઈ-પ્રિઝન પ્રોજેક્ટના ઘટકોને ધ્યાનમાં લો:

1. ઈ-જેલ મેનેજમેન્ટ માહિતી પ્રણાલી

2. રાષ્ટ્રીય જેલ માહિતી પોર્ટલ

3. કારા બજાર

4. મારો કેસ જાણો

નીચે આપેલા વિકલ્પોમાંથી સાચો જવાબ પસંદ કરો:

(A) ફક્ત 2

(B) ફક્ત 3

(C) બધા સાચા છે

(D) ઉપરમાંથી એક પણ નહીં

238. કૃપા કરીને જેલની વિવિધ કેટેગરીનો વિચાર કરો:

- | | |
|------------------|-------------------|
| 1. સેન્ટ્રલ જેલો | 2. જિલ્લા જેલ |
| 3. સબ-જેલો | 4. મહિલા જેલ |
| 5. ખુલ્લી જેલો | 6. વિશિષ્ટ જેલો |
| 7. અન્ય જેલો | 8. બોર્સ્ટલ શાળાઓ |

ઉપરોક્તમાંથી કઈ બાબતો ભારતના વિવિધ રાજ્યોમાં કાર્યરત છે:

- | | |
|-----------------------|-----------------------|
| (A) ફક્ત 5 જ સાચું છે | (B) ફક્ત 6 જ સાચું છે |
| (C) ફક્ત 7 જ સાચું છે | (D) બધા સાચા છે |

239. રીઠા ગુનેગાર સિવાયના અન્ય દોષિત ફોજદારી કેદીને કહેવામાં આવે છે:

- | | |
|----------------|-----------------|
| (A) સિવિલ કેદી | (B) કિશોર કેદી |
| (C) પુખ્ત કેદી | (D) પરચુરણ કેદી |

240. નીચેનામાંથી કઈ એજન્સી / સંસ્થાએ મોડેલ જેલ મેન્યુઅલ 2016નો મુસદ્દો તૈયાર કર્યો હતો:

- | |
|--|
| (A) નેશનલ કાર્મ રેકોર્ડ બ્યુરો |
| (B) બ્યુરો ઓફ પોલીસ રિસર્ચ એન્ડ ડેવલપમેન્ટ |
| (C) (A) અને (B) બંને |
| (D) ન તો (A) કે (B) |

241. નીચે આપેલા વિધાનોને ધ્યાનમાં લો:

I. કેદથી કેદીને બિન-વ્યક્તિમાં ઘટાડી શકાતો નથી.

II. તમામ કેદીઓ મર્યાદાઓમાં તમામ માનવ અધિકારો માટે હકદાર છે

III. કેદ પોતે જ એક સજા છે અને તેથી કેદીઓને થતી પીડામાં કોઈ વધારો થવો જોઈએ નહીં.

કૃપા કરીને નીચે આપેલા વિકલ્પોમાંથી કેદીઓની સારવાર સાથે સંબંધિત મૂળભૂત સિદ્ધાંતો પસંદ કરો:

- | | |
|----------------------|--------------------------|
| (A) નિવેદન I અને II | (B) નિવેદન II અને III |
| (C) નિવેદન I અને III | (D) નિવેદન I, II અને III |

242. જે કેસમાં, ભારતની સર્વોચ્ચ અદાલતે મૃત્યુદંડની સજા પામેલા કેદીઓના સંદર્ભમાં કેટલીક માર્ગદર્શિકાઓ નિર્ધારિત કરી હતી:

(A) ચાર્લ્સ સોબરાજ વિ. અધિક્ષક સેન્ટ્રલ જેલ તિહાર

(B) શત્રુઘ્ન ચૌહાણ વિ. ભારત સંઘ

(C) રહમથ નિશા વિ. કેદી અને કેદખાના અધિક મહાનિદેશક અને બીજાઓ

(D) ફ્રાન્સિસ કોરાલી વિ. દિલ્હી વહીવટીતંત્ર

243. કઈ સંસ્થા પર, મુક્ત કરાયેલા દોષિતોના પુનર્વસન માટેની પદ્ધતિઓ તૈયાર કરવાની અને વિકસાવવાની જવાબદારી છે:

- | | |
|------------------------|---------------------|
| (A) કેન્દ્ર સરકાર | (B) રાજ્ય સરકાર |
| (C) કાંતો (A) અથવા (B) | (D) ન તો (A) કે (B) |

244. કયા જિલ્લામાં પૂજાપુરા સેન્ટ્રલ જેલ આવેલી છે:
- (A) કન્નુર (B) બાલાસોર
(C) ચિરુવનંતપુરમ (D) ઉપરમાંથી એક પણ નહીં
245. કેદીઓના પ્રત્યાર્પણ અધિનિયમ, 2003નો ઉદ્દેશ શું છે?
- (A) ભારતીય જેલોમાં વિદેશી કેદીઓને રાહત પૂરી પાડવી અને તેનાથી ઊલટું, જેથી તેઓ તેમના દેશમાં તેમની બાકીની જેલની સજા ભોગવી શકે.
(B) જેલોને સંચાલિત કરતા મૂળભૂત સિદ્ધાંતોમાં એકરૂપતાની ખાતરી કરવી.
(C) દોષિત કેદીઓની સુધારણા અને પુનર્વસન.
(D) ઉપરમાંથી એક પણ નહીં
246. કઈ તારીખે માનવ અધિકાર દિવસ મનાવવામાં આવે છે:
- (A) 20 ડિસેમ્બર (B) 10 ડિસેમ્બર
(C) 01 ડિસેમ્બર (D) 12 ઓક્ટોબર
247. રાષ્ટ્રીય માનવ અધિકાર પંચ એક
- (A) વૈધાનિક સંસ્થા (B) બંધારણીય સંસ્થા
(C) બહુપક્ષીય સંસ્થા (D) (A) અને (C) બંને
248. રાષ્ટ્રીય માનવ અધિકાર પંચના અધ્યક્ષ તરીકે કોની નિમણૂક થઈ શકે?
- (A) સુપ્રીમ કોર્ટના કોઈ પણ સીટિંગ જજ
(B) સુપ્રીમ કોર્ટના કોઈપણ નિવૃત્ત મુખ્ય ન્યાયાધીશ
(C) રાષ્ટ્રપતિ દ્વારા નિયુક્ત કોઈપણ વ્યક્તિ
(D) કોઈપણ હાઈકોર્ટના નિવૃત્ત મુખ્ય ન્યાયાધીશ
249. રાષ્ટ્રીય માનવ અધિકાર પંચ વિશે નીચેનામાંથી કયું વિધાન સાચું નથી?
- (A) તેની સ્થાપના 1993માં કરવામાં આવી હતી.
(B) માનવાધિકારના ઉલ્લંઘનના મામલામાં પંચને ગુનેગારને સજા કરવાનો કોઈ અધિકાર નથી.
(C) આ પંચના અધ્યક્ષ અને સભ્યોની નિમણૂક ભારતની સર્વોચ્ચ અદાલત દ્વારા કરવામાં આવે છે.
(D) કમિશન તેનો વાર્ષિક અહેવાલ કેન્દ્ર સરકાર અને રાજ્ય સરકારોને મોકલે છે.
250. રાષ્ટ્રીય માનવ અધિકાર પંચના અધ્યક્ષની નિમણૂક માટે રચાયેલી સમિતિમાં નીચેનામાંથી કોનો સમાવેશ થતો નથી?
- (A) રાષ્ટ્રપતિ
(B) પ્રધાનમંત્રી
(C) લોકસભા સ્પીકર
(D) મુખ્ય વિપક્ષી દળના નેતા

251. નીચેના વિધાનોને ધ્યાનમાં લો:

નિવેદન-1 : રાષ્ટ્રીય માનવાધિકાર પંચના અધ્યક્ષ અથવા કોઈપણ સભ્યને માત્ર સાબિત થયેલા ગેરવર્તન અથવા અસમર્થતાના આરોપસર જ દૂર કરી શકાય છે.

નિવેદન-2 : ભારતના મુખ્ય ન્યાયાધીશ દ્વારા તપાસ થવી જોઈએ.

ઉપરોક્ત વિધાનોના સંદર્ભમાં નીચેનામાંથી કયું સાચું છે?

- (A) નિવેદન-I અને નિવેદન-II બંને સાચાં છે અને નિવેદન-II એ નિવેદન-I માટે યોગ્ય સમજૂતી છે.
 (B) નિવેદન-I અને નિવેદન-II બંને સાચાં છે અને નિવેદન-II એ નિવેદન-I માટે યોગ્ય સમજૂતી નથી.
 (C) નિવેદન-I સાચું છે પરંતુ નિવેદન-II ખોટું છે.
 (D) નિવેદન-I ખોટું છે પરંતુ નિવેદન-II સાચું છે.

252. નીચેના વિધાનોને ધ્યાનમાં લો:

નિવેદન-1 : રાજ્ય માનવ અધિકાર આયોગના અધ્યક્ષ અને કોઈપણ સભ્યની નિમણૂક અને રાજ્યના રાજ્યપાલ દ્વારા કરવામાં આવે છે અને તેમને દૂર કરવામાં આવે છે.

નિવેદન-2 : રાજ્ય માનવ અધિકાર આયોગના અધ્યક્ષ અને કોઈપણ સભ્યની નિમણૂક ભારતના રાષ્ટ્રપતિ દ્વારા રાજ્યપાલની ભલામણ પર કરવામાં આવે છે અને તેમને દૂર કરવામાં આવે છે.

નીચે આપેલા વિકલ્પોમાંથી સાચો જવાબ પસંદ કરો:

- (A) નિવેદન-I સાચું છે પણ નિવેદન-II ખોટું છે. (B) નિવેદન-I ખોટું છે પણ નિવેદન-II સાચું છે.
 (C) બંને નિવેદનો સાચા છે. (D) બંને નિવેદનો ખોટા છે.

253. નીચે જણાવેલી જેલોમાંથી કઈ દક્ષિણ એશિયાની સૌથી મોટી જેલ સંકુલ છે:

- (A) રાજમુંદ્રી સેન્ટ્રલ જેલ (B) અલીપોર સેન્ટ્રલ જેલ
 (C) પરપ્પાના અગ્રહારા સેન્ટ્રલ જેલ (D) તિહાર જેલ

254. નીચે જણાવેલી કઈ જેલોએ જેલ તરીકેની કામગીરી બંધ કરી દીધી છે અને મ્યુઝિયમ તરીકે કામ કરી રહી છે:

- (A) અલીપોર સેન્ટ્રલ જેલ (B) વેલ્લોર સેન્ટ્રલ જેલ
 (C) નૈની સેન્ટ્રલ જેલ (D) યરવડા સેન્ટ્રલ જેલ

255. નીચેના વિધાનોને ધ્યાનમાં લો:

નિવેદન-1 : પ્રત્યાર્પણ એક એવી પ્રક્રિયા છે જે વિદેશી કેદીઓને તેમના વતનમાં સ્થાનાંતરિત કરવા સક્ષમ બનાવે છે, જ્યાં તેઓ તેમની સજાના બાકીના ભાગને સેવા આપી શકે છે.

નિવેદન-2 : પ્રત્યાર્પણ એ એક એવી પ્રક્રિયા છે જેના દ્વારા એક રાજ્ય, બીજાની વિનંતી પર, વિનંતી કરનાર રાજ્યના કાયદા દ્વારા સજાને પાત્ર હોય તેવા ગુના માટે કોઈ વ્યક્તિને પગેરું મેળવવા માટે પરત ફરવાની અરજ કરે છે.

નીચે આપેલા વિકલ્પોમાંથી સાચો જવાબ પસંદ કરો:

- (A) નિવેદન-I સાચું છે અને નિવેદન-II ખોટું છે.
 (B) નિવેદન-I ખોટું છે અને નિવેદન-II સાચું છે.
 (C) બંને નિવેદનો સાચા છે.
 (D) બંને નિવેદનો ખોટા છે.

256. કયા આંતરરાષ્ટ્રીય સંમેલન હેઠળ, વિદેશી કેદીને વતન પાછા ફરવાનો અધિકાર છે?
- (A) નાગરિક અને રાજકીય અધિકારો પર આંતરરાષ્ટ્રીય કરાર (આઈ.સી.સી.પી.આર.)
 (B) આર્થિક, સામાજિક અને સાંસ્કૃતિક અધિકારો પર આંતરરાષ્ટ્રીય કરાર (આઈ.સી.ઈ.એસ.સી.આર.)
 (C) કોન્સ્યુલર રિલેશન્સ પર વિયેના કન્વેન્શન 1963.
 (D) ઉપરમાંથી એક પણ નહીં
257. વિદેશમાં બંધ કેદીઓ (ભારતીયો)ને સહાય પૂરી પાડવા માટે ભારત સરકાર દ્વારા લેવામાં આવેલા પગલાંના સંબંધમાં નીચે આપેલા નિવેદનોને ધ્યાનમાં લો:
- નિવેદન-1 : ભારતીય દૂતાવાસ દ્વારા આપવામાં આવતી સુવિધાઓ માટે ફી લેવામાં આવે છે.
 નિવેદન-2 : ઈન્ડિયન કમ્યુનિટી વેલ્ફેર ફંડ (આઈ.સી.ડબલ્યુ.એફ)ની સ્થાપના વિદેશમાં મિશન અને પોસ્ટ પર કરવામાં આવી છે, જેનો ઉદ્દેશ વિદેશમાં વસતા ભારતીય નાગરિકોને યોગ્ય કેસોમાં તકલીફની સ્થિતિમાં મદદ કરવાનો છે.
 નીચે આપેલા વિકલ્પોમાંથી સાચો જવાબ પસંદ કરો:
- (A) નિવેદન-I સાચું છે અને નિવેદન-II ખોટું છે.
 (B) નિવેદન-I ખોટું છે અને નિવેદન-II સાચું છે.
 (C) બંને નિવેદનો સાચા છે.
 (D) બંને નિવેદનો ખોટા છે.
258. ભારતે કેટલા દેશો સાથે સજા પામેલી વ્યક્તિઓના હસ્તાંતરણ પર સમજૂતી કરારો પર હસ્તાક્ષર કર્યા છે, જે અંતર્ગત વિદેશોમાં બંધ ભારતીય કેદીઓને તેમની બાકીની સજા ભોગવવા માટે ભારતમાં તબદીલ કરી શકાય છે અને તેનાથી ઊલટું:
- (A) 30 (B) 31
 (C) 43 (D) 11
259. 1930-40માં સ્વતંત્રતા ચળવળ દરમિયાન મહાત્મા ગાંધીને જે જેલમાં રાખવામાં આવ્યા હતા તેનું નામ આપો?
- (A) સિલ્ચર સેન્ટ્રલ જેલ (B) યરવડા સેન્ટ્રલ જેલ
 (C) બિલાસપુર જેલ (D) થાણે જેલ
260. ભારતે કયા દેશ સાથે 'કેદીઓના પ્રત્યાર્પણ' કરાર પર હસ્તાક્ષર કર્યા છે?
- (A) કમ્બોડિયા (B) રશિયા
 (C) બ્રાઝિલ (D) ઉપરોક્ત તમામ
261. રાજમુંદ્રી સેન્ટ્રલ જેલ અગાઉ એક કિલ્લાનું નિર્માણ આના દ્વારા કરવામાં આવ્યું હતું:
- (A) ડચ (B) પોર્ટુગીઝ
 (C) બ્રિટીશ (D) ફ્રેન્ચ
262. નેશનલ કાર્થમ રેકોર્ડ બ્યુરો ઓફ ઈન્ડિયાની સ્થાપના કયા વર્ષમાં કરવામાં આવી હતી:
- (A) 1950 (B) 1982
 (C) 1986 (D) 1996

263. કઈ ઓથોરિટી કેદીઓને ઓપન-એર જેલમાં પ્રવેશ આપે છે?
- (A) પોલીસ (B) કોર્ટ
(C) જેલ સત્તાવાળાઓ (D) ઉપરમાંથી એક પણ નહીં
264. નીચે જણાવેલી કઈ સંસ્થા, ગુના અંગેની સામયિક માહિતીનું સંકલન અને પ્રકાશન કરે છે?
- (A) નેશનલ ઇન્સ્ટિટ્યૂટ ઓફ સોશિયલ ડિકેન્સ.
(B) નેશનલ કાર્મ રેકોર્ડ બ્યૂરો .
(C) બ્યુરો ઓફ પોલીસ રિસર્ચ એન્ડ ડેવલપમેન્ટ.
(D) નેશનલ ઇન્સ્ટિટ્યૂટ ઓફ ક્રિમિનોલોજી એન્ડ ફોરેન્સિક સાયન્સ.
265. મહિલા જેલોમાં નીચેનામાંથી કઈ સેવા ઉપલબ્ધ હોવી જોઈએ?
- (A) ગાયનેકોલોજિકલ કન્સલ્ટેશન (B) પરામર્શ સેવાઓ
(C) બાળકોની કાળજી (D) ઉપરોક્ત તમામ
266. વિશાખાના કેસમાં સુપ્રીમ કોર્ટે આને લગતી માર્ગદર્શિકાઓ નિર્ધારિત કરી છે:
- (A) લઘુમતીઓ સામેના ગુનાઓ (B) બાળકો સામેના ગુનાઓ
(C) મહિલાઓની જાતીય સતામણી (D) સમુદાયો સામેના ગુનાઓ
267. નીચેનામાંથી કઈ સમિતિએ, જેલમાં કાળજી પછી પ્રોગ્રામની તપાસ કરી હતી?
- (A) કિષ્ના ઐયર કમિટી (B) ગોર સમિતિ
(C) વર્મા સમિતિ (D) સક્સેના સમિતિ
268. પ્રોબેશન છે:
- (A) નિશ્ચિત સજા (B) અનિશ્ચિત સજા
(C) કસ્ટોડિયલ સજા (D) ઉપરમાંથી એક પણ નહીં
269. પ્રોબેશન કયા કાયદા હેઠળ આપવામાં આવે છે?
1. અનૈતિક ટ્રાફિક (નિવારણ) ધારો
 2. જુવેનાઈલ જસ્ટિસ એક્ટ
 3. માનવ અધિકાર સંરક્ષણ અધિનિયમ
 4. પ્રોબેશન ઓફ ક્રિમિનલ એક્ટ
- નીચે આપેલા વિકલ્પોમાંથી સાચો જવાબ પસંદ કરો:
- (A) 1 અને 2 સાચા છે (B) 3 અને 4 સાચા છે
(C) 2 અને 4 સાચા છે (D) 1 અને 4 સાચા છે

270. મૃત્યુ દંડને આજીવન કારાવાસમાં ફેરવવા માટે કોણ સક્ષમ છે?
 (A) જેલના મહાનિદેશક (B) મુખ્યમંત્રી
 (C) પ્રધાનમંત્રી (D) ભારતના રાષ્ટ્રપતિ
271. કઈ ફિલોસોફી હેઠળ ખુલ્લી જેલોની સ્થાપના કરવામાં આવી છે?
 (A) કેદમાં પુરવું (B) સમાજનું રક્ષણ
 (C) કેદીઓની સુધારણા (D) બદલો
272. ડી. કે. બાસુ કેસમાં સર્વોચ્ચ અદાલતે નીચેની બાબતો અંગે માર્ગદર્શિકાઓ નિર્ધારિત કરી છે:
 (A) બળાત્કારનો ભોગ બનેલાઓ (B) બાળ અધિકારો
 (C) મહિલા અધિકારો (D) કસ્ટોડિયલ હિંસા
273. જોડીઓને સરખાવો:
 યાદી-I યાદી-II
 a) જસ્ટિસ એ એન મુલ્લા i. રાષ્ટ્રીય પોલીસ કમિશન
 b) શ્રી ધર્મ વિરા ii. ફોજદારી ન્યાય સુધારણા અંગેની સમિતિ
 c) જસ્ટિસ કિષ્ના ઐય્યર iii. જેલ સુધારણા અંગેની અખિલ ભારતીય સમિતિ
 d) જસ્ટિસ વી એસ મલિમાથ iv. મહિલા કેદીઓ અંગેની સમિતિ
 નીચે આપેલા વિકલ્પોમાંથી સાચો જવાબ પસંદ કરો:
 (A) a - i, b - ii, c - iii, d - iv (B) a - iv, b - iii, c - ii, d - i
 (C) a - iii, b - i, c - iv, d - ii (D) a - i, b - ii, c - iv, d - iii
274. પેરોલ અથવા સમયપૂર્વ મુક્તિની ભાવના આ મુજબ છે:
 i. સુધારણા અને પુનર્વસન
 ii. સરકારી તિજોરી માટે બચત
 iii. કૌટુંબિક સંસાધનોનો ઉપયોગ
 iv. ખોટું કરનારને છૂટછાટ
 નીચે આપેલા વિકલ્પોમાંથી સાચો જવાબ પસંદ કરો:
 (A) (i), (ii) અને (iii) સાચા છે (B) (i) અને (ii) સાચા છે
 (C) (i), (ii) અને (iv) સાચા છે (D) (i) અને (iii) સાચા છે
275. પ્રોબેશન અને પેરોલ:
 (A) અનિવાર્યપણે સમાન છે
 (B) વિવિધ સુપરવિઝન તકનીકનો ઉપયોગ કરે છે પરંતુ તે એક જ ઓફિસ દ્વારા સંચાલિત થાય છે
 (C) અદાલતો દ્વારા સોંપવામાં આવેલી સજાઓ છે
 (D) વિવિધ અધિકારીઓ દ્વારા સંચાલિત સમુદાય સુધારણાના સ્પષ્ટ પણે વિવિધ સ્વરૂપો છે

276. આના કિસ્સામાં સૌથી દુર્લભ ગુનાનો સિદ્ધાંત સ્થાપિત કરવામાં આવ્યો હતો:
- (A) બચનસિંહ વિ. પંજાબ રાજ્ય (B) ડી. કે. બાસુ વિ. પશ્ચિમ બંગાળ રાજ્ય
(C) મીઠુ વિ. પંજાબ રાજ્ય (D) વિશાખા વિ. રાજસ્થાન રાજ્ય
277. અર્થ એ છે કે રીઠા અપરાધીઓ દ્વારા કરવામાં આવતો ગુનો.
- (A) તોડફોડ (B) પુનઃપ્રાપ્તિવાદ
(C) સામ્યવાદ (D) આતંકવાદ
278. નીચેનામાંથી કયા હેતુઓ પેરોલ ટેકનિકના છે:
- (A) કેદીને તેના પારિવારિક જીવન સાથે સાતત્ય જાળવવા અને કૌટુંબિક બાબતો સાથે વ્યવહાર કરવામાં સક્ષમ બનાવવા માટે.
(B) કેદીને સતત જેલ જીવનની દુષ્ટ અસરોથી બચાવવા માટે.
(C) કેદીને આત્મવિશ્વાસ અને જીવનમાં સક્રિય રસ જાળવી રાખવા સક્ષમ બનાવવા માટે.
(D) ઉપરોક્ત તમામ.
279. ખુલ્લી જેલો છે:
- (A) ન્યૂનતમ સુરક્ષા જેલો (B) ખુલ્લી છાવણીઓ
(C) અવરોધ વગરની જેલ (D) ઉપરોક્ત તમામ
280. નીચેનામાંથી કયા હેતુઓ ખુલ્લી જેલોના મુખ્ય હેતુઓ છે?
- (A) જેલોમાં ગીચતા ઘટાડવા માટે
(B) અપરાધીઓને જેલમાંથી મુક્ત કરવાની યોગ્યતાની તપાસ કરવા માટે
(C) સારી વર્તણૂકને પ્રોત્સાહન આપવા અને જાહેર કાર્યો માટે વિશ્વસનીય કાયમી મજૂરી પ્રદાન કરવા માટે
(D) ઉપરોક્ત તમામ
281. તાજેતરના વર્ષોમાં ખુલ્લી જેલ પ્રણાલીની લોકપ્રિયતામાં તીવ્ર ઘટાડો થયો છે કારણ કે:
- (A) હાલની ખુલ્લી જેલોમાં કોઈ નોંધપાત્ર ઉમેરો નથી
(B) બદમાશોને કાબૂમાં રાખવા માટેના સ્થળો
(C) પ્રોબેશનનો વ્યાપક ઉપયોગ
(D) ઉપરોક્ત તમામ
282. નીચેનામાંથી કયો કેસ ભારતમાં જેલની સમસ્યા સાથે સંબંધિત નથી?
- (A) ડી.કે. બાસુ વિ. વેસ્ટ બંગાળ રાજ્ય
(B) રામમૂર્તિ વિ. કર્ણાટક રાજ્ય
(C) કેશવાનંદ ભારતી વિ. કેરલા રાજ્ય
(D) શીલા બરસે વિ. મહારાષ્ટ્ર રાજ્ય

283. માનવ અધિકારોની સાર્વત્રિક ઘોષણા આના દ્વારા અપનાવવામાં આવી હતી:
- (A) UNGA
(B) UNICEF
(C) UNESCO
(D) ઈન્ટરનેશનલ કોર્ટ ઓફ જસ્ટિસ
284. માનવ અધિકારોનું સાર્વત્રિક જાહેરનામું નીચેની બાબતો પર લાગુ પડે છે:
- (A) ત્રીજા વિશ્વના દેશોના દરેક નાગરિક
(B) સંયુક્ત રાષ્ટ્રના સભ્ય દેશોના નાગરિકો
(C) જાતિ, વર્ણ, ધર્મ અથવા સાંસ્કૃતિક પૃષ્ઠભૂમિને ધ્યાનમાં લીધા વિના દરેક વ્યક્તિ
(D) ઉપરમાંથી એક પણ નહીં
285. ભારતના બંધારણ અનુસાર મૂળભૂત અધિકારોની બાંધધરી આપનાર કોણ છે:
- (A) ભારતીય બંધારણ
(B) સંયુક્ત રાષ્ટ્રસંઘ
(C) કેન્દ્ર સરકાર
(D) ભારતની સર્વોચ્ચ અદાલત
286. સ્વતંત્રતા, સમાનતા અને બંધુતાના ખ્યાલો આમાંથી લેવામાં આવ્યા છે:
- (A) અમેરિકન બંધારણ
(B) રશિયન બંધારણ
(C) ઓસ્ટ્રેલિયન બંધારણ
(D) ફ્રેન્ચ બંધારણ
287. નીચેના વિધાનોને ધ્યાનમાં લો:
1. રાજ્ય માનવ અધિકાર પંચ બહુસંખ્યક સંસ્થા છે.
 2. રાજ્ય માનવ અધિકાર આયોગમાં એક અધ્યક્ષ અને ત્રણ સભ્યોનો સમાવેશ થાય છે.
- ઉપર આપેલા વિધાનોમાંથી કયું સાચું છે / સાચા છે?
- (A) ફક્ત 1
(B) ફક્ત 2
(C) 1 અને 2 બંને
(D) 1 કે 2 માંથી કોઈ નહિ
288. 1993 ના માનવ અધિકાર સંરક્ષણ અધિનિયમમાં નીચેની બાબતોની રચના કરવાની જોગવાઈ કરવામાં આવી છે:
1. રાષ્ટ્રીય માનવ અધિકાર આયોગ
 2. રાજ્ય માનવ અધિકાર આયોગ
 3. સંયુક્ત રાજ્ય માનવ અધિકાર આયોગ
 4. માનવ અધિકાર અદાલતો
- નીચે આપેલા વિકલ્પોમાંથી સાચો જવાબ પસંદ કરો:
- (A) 1, 2, 3 અને 4
(B) 1 અને 2
(C) 1, 2 અને 3
(D) 1, 2 અને 4

289. રાજ્ય માનવ અધિકાર આયોગે તેનો વાર્ષિક અહેવાલ નીચેની સમક્ષ સુપરત કરે છે:
- (A) રાજ્ય વિધાનસભા (B) રાજ્યના ગવર્નર
(C) રાજ્ય સરકાર (D) ભારતની સંસદ
290. ડિસ્ટ્રિક્ટ જજની નિમણૂંક માટેની શરતોનો ઉલ્લેખ ભારતના બંધારણની નીચેનામાંથી કયા અનુચ્છેદ માં કરવામાં આવ્યો છે?
- (A) અનુચ્છેદ 230 (B) અનુચ્છેદ 231
(C) અનુચ્છેદ 232 (D) અનુચ્છેદ 233
291. નીચેનામાંથી કયો કેદીઓનો અધિકાર નથી?
- (A) બોલવાનો અધિકાર (B) ચળવળનો અધિકાર
(C) શિક્ષણનો અધિકાર (D) મતનો અધિકાર
292. બંધારણના નીચેનામાંથી કયો અનુચ્છેદ વિધાનસભાની ચૂંટણીમાં મતદાનના સંદર્ભમાં સિદ્ધાંત રજૂ કરે છે?
- (A) અનુચ્છેદ 324 (B) અનુચ્છેદ 326
(C) અનુચ્છેદ 328 (D) અનુચ્છેદ 330
293. ઓપન એર જેલમાં કયા પ્રકારના કેદીઓને પ્રવેશ અપાય છે?
- (A) શિક્ષિત કેદીઓ
(B) કુશળ કેદીઓ
(C) કેદીઓ કે જેમણે તેમની મુદતનો એક ભાગ પૂર્ણ કર્યો છે
(D) રાજકીય કેદીઓ
294. પ્રોબેશન ઓફ ઓફિન્ડર્સ એક્ટ હેઠળ સજા પૂર્વેનો અહેવાલ આના દ્વારા તૈયાર કરવામાં આવે છે:
- (A) પોલીસ અધિકારી (B) કાયદેસરના અધિકારી
(C) પ્રોબેશન ઓફિસર (D) જેલ અધિકારી
295. આસામના માયલ લાલુંગના કિસ્સામાં, ન્યાય કોના હસ્તક્ષેપ પછી કરવામાં આવ્યો હતો:
- (A) ભારતની સર્વોચ્ચ અદાલત
(B) ભારત સરકાર
(C) રાષ્ટ્રીય માનવ અધિકાર આયોગ
(D) ગુવાહાટીની ઉચ્ચ ન્યાયાલય

M

296. માં જસ્ટિસ કિષ્ના અચ્યરે અવલોકન કર્યું હતું કે કોર્પોરલ/ શારીરિક મૃત્યુ મૂળભૂત અધિકારોથી અજાણ છે.
(A) રાજેન્દ્ર પ્રસાદ વિ. યુ.પી રાજ્ય
(B) બચનસિંહ વિ. પંજાબ રાજ્ય
(C) મીઠુ વિ. પંજાબ રાજ્ય
(D) માચીસિંહ વિ. પંજાબ રાજ્ય
297. જ્યારે જેલના અધિકારીઓ પેરોલી સાથે જાય છે, ત્યારે પેરોલને આ રીતે બોલાવવામાં આવે છે:
(A) કસ્ટોડિયલ પેરોલ
(B) નિયમિત પેરોલ
(C) સખત પેરોલ
(D) સરળ પેરોલ
298. પેટા-જેલો મુખ્યત્વે માટે હોય છે.
(A) જે કેદીઓ પર કેસ ચાલી રહ્યો છે
(B) દોષિત કેદીઓ
(C) રાજકીય અટકાયતી
(D) કાયદા સાથે સંઘર્ષમાં હોય તેવા બાળકો
299. ભારતના બંધારણનામાં બાંધધરી આપવામાં આવેલા અધિકારો કેદીઓ માટે ઉપલબ્ધ છે:
(A) ભાગ III
(B) ભાગ V
(C) (A) અને (B) બંને
(D) ન તો (A) કે (B)
300. મહિલાઓ સામેના તમામ પ્રકારના ભેદભાવને નાબૂદ કરવા અંગેના સંમેલનને આ વર્ષમાં અપનાવવામાં આવ્યું હતું:
(A) 1966 (B) 1979
(C) 1983 (D) 1993