

JUNIOR ASSISTANT IN ANGARU

SECRETARIAL ABILITY

Question Number: 1

If each consonant in the word GLOMERATE is replaced by the previous alphabet and each vowel is replaced by the alphabet following it as in the English alphabet and then the order of the alphabets thus formed is reversed, which of the following will be the seventh from the right?

B

1. ఈ పదంలో GLOMERATE ప్రతి హల్లు ఆంగ్ల అక్షరమాల క్రమంలో ముందు వచ్చే హల్లు తోను, అచ్చులన్ని దానికి తర్వాత వచ్చే అచ్చుతోను మార్పు చేస్తే, కుడి వైపునుంచి ఏడవ అక్షరం ఏది ఉంటుంది?

B

Question Number: 2

If in the word FLOURISH, all the vowels are first arranged alphabetically and then all the consonants are arranged alphabetically and then all the vowels are replaced by the previous letter and all the consonants are replaced by the next letter from English alphabet, which letter will be fifth from the right end?

None of these

2. ఈ పదంలో FLOURISH అచ్చులు, హల్లులు ఆంగ్ల వర్ణమాల క్రమంలో పేర్చి, ప్రతి అచ్చును దానికి ముందు వచ్చే అచ్చుతోను, ప్రతి హల్లును దాని తర్వాత వచ్చే హల్లు తోను మార్చిస్తే, కుడి నుంచి ఐదవ అక్షరం ఏదవుతుంది?

ఏదీ కాదు

Question Number: 3

If it is possible to make only one meaningful word with the first, third, fifth and the ninth letters of the word "CURVATURE", which would be the second letter of the word? If more than one such word can be formed, give X as the answer. If no such word can be formed, give K as your answer.

X

3. ఈ పదంలోని "CURVATURE" ఒకటి, మూడు, ఐదు, తొమ్మిది అక్షరాలతో ఒక అర్థవంతమైన పదం ఏర్పరిస్తే, అందులో రెండో అక్షరం ఏదవుతుంది? అర్థవంతమైన పదాలు ఒకటి కన్నా ఎక్కువ తయారు చేయగలిగితే X ను జవాబుగాను, తయారుచేయలేక పోతే K ను జవాబుగా ఇవ్వండి?

X

Question Number: 4

How many such digits are there in the number 8243691 each of which is as far away from the beginning of the number as when the digits are rearranged in ascending order within the number?

Two

4. ఈ అంకెలో ఎన్ని సంఖ్యలున్నాయి? ఒకదాన్నుంచి మరొకటి ఎంత దూరం? ఒకట్లు, పదులు, వందలు అనే క్రమంలో అమర్చుకొంటూ పోతే, ఈ అంకెలో ఎన్ని సంఖ్యలుంటాయి?

రెండు

Question Number: 5

In a certain code language 'in ba pe' means 'he has won', 'le ki ba' means 'she has lost' and 'in se pe' means 'he always won'. Which word in that language means 'he'?

Cannot be determined

5. ఒకభాషలో "in ba pe" అంటే "అతడు గెలిచాడు" అని అర్థం; "le ki ba" అంటే "ఆమె ఓడింది" అని అర్థం; "in se pe" అంటే "అతడు ఎప్పుడూ గెలుస్తాడు" అని అర్థం అంటే ఆ భాషలో "అతడు" అన్న పదాన్ని సూచించే శబ్దం ఏది?

నిర్ధారించలేం

Question Number: 6

In a certain code CONEY is written as EOYCN. How will GUILT be written in that code?

LUTGI

6. ఒక సాంకేతిక పరిభాషలో CONEY ను, EOYCN గా రాస్తే, GUILT ను ఆపరిభాషలో ఎలా రాస్తారు?

LUTGI

Question Number: 7

Find the missing term

Knoll: Hill : : Eclogue: ?

Poem

7. లోపించినదాన్ని కనుక్కోండి?

Knoll: Hill : : Eclogue: ?

Poem

Question Number: 8

Glucose is related to Carbohydrate in the same way as Soyabean is related to _____?

Proteins

8. గ్లూకోస్ కార్బోహైడ్రేట్ కు సంబంధించినది; మరి సోయాబీన్

Proteins

Question Number: 9

Find the missing number

583 : 293 :: 488 : ?

378

9. లోపించని అంకెను చెప్పండి?

583 : 293 :: 488 : ?

378

Directions (Question 10 and 11): in the following questions, four words have been given, out of which three are alike in some manner and the fourth one is different. **Choose out the odd one.**

కింది(Question 10 and 11) ప్రశ్నలకు ఇచ్చిన నాలుగు జవాబులలో మూడు పదాలు ఒకేలాటివి, నాలుగోది కాదు.

ఆ తేడాగా ఉండే పదాన్ని గుర్తించండి.

Question Number: 10

Exercising

Question Number: 11

Cot

Question Number: 12

Choose the numerical pair/ group which is different from others.

కింది సంఖ్యల వరుసలో తేడాగా ఉన్న దాన్ని గుర్తించండి

37, 14, 19, 7

Question Number: 13

Choose the odd numerical pair/ group

కింది సంఖ్యల వరుసలో తేడాగా ఉన్న దాన్ని గుర్తించండి

7 – 3

Question Number: 14

Which is the number that comes next in the sequence:

కింది సంఖ్యల వరుసలో తర్వాత వచ్చేది ఏది గుర్తించండి

0, 6, 24, 60, 120, 210, ?

336

Question Number: 15

Find out the missing number in the following sequence:

కింది సంఖ్యల వరుసలో మిస్ ఐన దాన్ని గుర్తించండి

1, 3, 3, 6, 7, 9, ?, 12, 21

13

Question Number: 16

Choose the term which will continue the following series:

కింది వరుసలో తర్వాత రావలసిన దాన్ని గుర్తించండి

P 3 C, R 5 F, T 8 I, V 12 L, ?

X 17 O

Question Number: 17

In the following letter series, some of the letters are missing which are given in that order as one of the alternatives below. Choose the correct alternative.

కింది అక్షరాల వరుసలో కొన్ని మిస్ అయ్యాయి. అలాటి అక్షరాలు కొన్ని కింద ఇవ్వబడ్డాయి. వాటి క్రమాన్ని గుర్తించండి

___ aba ___ ba ___ ab

abbab

Question Number: 18

Question has an underlined word followed by four answer choices. You will choose the word that is a necessary part of the underlined word.

కింద ఒక పదం ఉంది, దాని కి నాలుగు జవాబులున్నాయి. వాటిలో నుంచి తప్పక ఆ పదంలోని భాగమైన దాన్ని గుర్తించండి

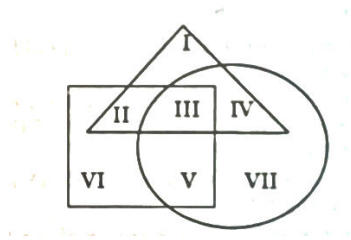
Book

Pages

Question Number: 19

The triangle, square and circle shown below respectively represents the urban, hard working, and educated people. Which one of the areas marked I – VII is represented by the urban educated people who are not hard working?

కింద ఇవ్వబడ్డ త్రికోణం, చదురం, వలయం వరుసగా నగరవాసులు, కష్టపడే వాళ్ళు, విద్యావంతులను తెలుపుతాయి. కింద I – VII లో నగరవాసులు, విద్యావంతులు కాని కష్టపడని వారు ఉన్న ప్రాంతమేది?



IV

Question Number: 20

Arrange the following words in the sequence in which they occur in dictionary

కింది పదాలను అవి డిక్షనరీ లో వచ్చే క్రమంలో అమర్చండి

- a. Brook b. Bandit c. Boisterous d. Baffle e. Bright
d, b, c, e, a

Question Number: 21

If the first five words in the sentence, "Meeta's mother meets me many times" are rearranged in the alphabetical order, which will be the middle word?

"Meeta's mother meets me many times" అనే వాక్యాన్ని ఆల్ఫాబెటికల్ క్రమంలో అమరిస్తే మధ్యపదం ఏది?

Meeta

Question Number: 22

How many pairs of letters are there in the word NECESSARY which have as many letters between them in the word as there are between them in the alphabet and in the same order?

ఈ NECESSARY పదంలో ఎన్ని జతల అక్షరాలున్నాయో, వాటి మధ్యకూడా అన్ని అక్షరాలున్నాయి ఆల్ఫాబెటికల్ క్రమంలో కూడా అన్ని అక్షరాలుంటే వాటి క్రమం ఏది?

One

Question Number: 23

Choose one word out of the given alternatives, which cannot be formed from the letters of the word CONSULTATION.

కింద నాలుగు జవాబులలో, ఏ పదం CONSULTATION అన్న పదంలోని అక్షరాలతో తయారవదో గుర్తించండి.

SALUTE

Question Number: 24

In the series,

కింది వరుసలో

6 4 1 2 2 8 7 4 2 1 5 3 8 6 2 1 7 1 4 1 3 2 8 6

how many pairs of successive numbers have a difference of 2 each?

తర్వాత వచ్చే జత సంఖ్యల్లో 2 తేడాతో వస్తాయి?

6

Question Number: 25

Rahul ranked ninth from the top and thirty eighth from the bottom in a class. How many students are there in the class?

రాహుల్ తరగతిలో పై నుంచి తొమ్మిదో ర్యాంక్ లోని కింది నుంచి ముప్పై ఎనిమిదో ర్యాంకు లోను ఉన్నాడు. ఆ తరగతిలో మొత్తం ఎంతమంది పిల్లలున్నారు?

46

Question Number: 26

Ajay left home for the bus stop 15 minutes earlier than usual. It takes 10 minutes to reach the stop. He reached the stop at 8. 40 a.m. What time does he usually leave home for the bus stop?

అజయ్ బస్ స్టాప్ కు మామూలుగా 15 ని.లు కన్నా ముందు బయలుదేరాడు. ఆ బస్ స్టాప్ చేరడానికి 10 ని.లు పడుతుంది. అతడు బస్ స్టాప్ కు 8. 40 ని.లకు చేరుకొన్నాడు. మామూలుగా అతడు ఇంటిలో నుంచి బయలుదేరే సమయమెంత?

8. 45 a.m.

Question Number: 27

Find out the two signs to be interchanged for making following equation correct:

కింద ఇచ్చిన ఈక్వేషన్ సరైనది కావాలంటే మార్చబడ వలసిన రెండు గుర్తులు ఏవి?

$$5 + 3 \times 8 - 12 \div 4 = 3$$

- and ÷

Question Number: 28

Which one of the four interchanges in signs and numbers would make the given equation correct?

కింద ఇచ్చిన దానిలో ఏ నాలుగు గుర్తులు, అంకెలు మారినై ఈ ఈక్వేషన్ సరైనది అవుతుంది?

$$6 \times 4 + 2 = 16$$

+ and x, 4 and 6

Question Number: 29

Arrange the following in a meaningful sequence:

కింది పదాలను అర్థవంతంగా వరుసగా అమర్చండి

- a. Consultation b. Illness c. Doctor d. Treatment e. Recovery

b, c, a, d, e

Question Number: 30

In a cricket match, five batsmen A, B, C, D and E scored an average of 36 runs. D scored 5 more than E; E scored 8 fewer than A; B scored as many as D and E combined; and B and C scored 107 between them. How many runs did E Score?

క్రికెట్ మ్యాచ్ లో A, B, C, D, E ఐదుగురు బ్యాట్స్ మెన్ లు కలిసి ఆవేరేజ్ గా 36 రన్నులు చేశారు. D, E కన్నా 5 రన్నులు ఎక్కువ చేశాడు. E, A కన్నా 8 రన్నులు తక్కువ చేశాడు. D, E లు కలిసి చేసినన్ని రన్నులు B, చేశాడు. B, C లు కలిసి 107 రన్నులు చేశారు. మరి E ఎన్ని రన్నులు చేశాడు?

20

Question Number: 31

A father is now three times as old as his son. Five years back, he was four times as old as his son. The age of the son is:

తండ్రి ఇప్పుడు తన కొడుకు కన్నా మూడింతలు వయసులో పెద్ద. ఐదేళ్ళ క్రితం కొడుకు కన్నా నాలుగింతలు వయసులో పెద్ద. మరి కొడుకు వయసు:

15

Question Number: 32

Aditi travels 10km towards North. From there, she travels 4km towards south. Then she travels 2.5km towards East. How far is she from the starting point?

అదితి ఉత్తరానికి 10 కి.మీ. ప్రయాణం చేసింది. అక్కడనుంచి 4 కి.మీ. దక్షిణానికి ప్రయాణం చేసింది. మళ్ళీ తూర్పుకు 2.5 కి.మీ. ప్రయాణం చేసింది. బయలుదేరిన దూరం నుంచి ఎంతదూరం ప్రయాణం చేసింది?

6.5km

Question Number: 33

Rita's watch is 6 min fast and the train which would have arrived at 7 pm was 14 min late. What time is it by Rita's watch when the train arrived?

రీటా వాచ్ 6 ని.లు వేగంగా తిరుగుతోంది. ఆమె ఎక్కవలసిన 7 గంటల రైలు 14 ని.లు ఆలస్యంగా నడుస్తోంది. రీటా వాచ్ లో రైలు వచ్చినపుడు టై మెంట్?

7. 20pm

Question Number: 34

At what time between 3 and 4 O' clock will the hands of a clock coincide?

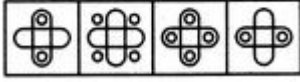

34. మూడు నాలుగు గంటల మధ్య గడియారంలోని ముళ్ళు రెండు ఎప్పుడు కలుస్తాయి?

$16\frac{4}{11}$ min past 3

Question Number: 35

Select a suitable figure from the four alternatives that would complete the figure matrix.

కింద ఇచ్చిన నాలుగింటిలో ఏ బొమ్మ ఆ బొమ్మల మాట్రిక్స్ ను నింపడానికి సరిపోతుంది



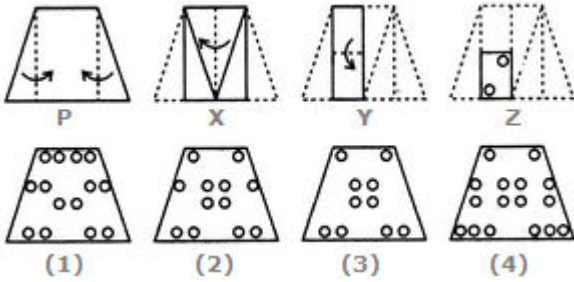
(1) (2) (3) (4)

2

Question Number: 36

Choose a figure which would most closely resemble the unfolded form of Figure (Z)

కింది వాటిల్లో ఏది పూర్తిగా విప్పితే (Z) కు దగ్గరగా ఉంటుంది

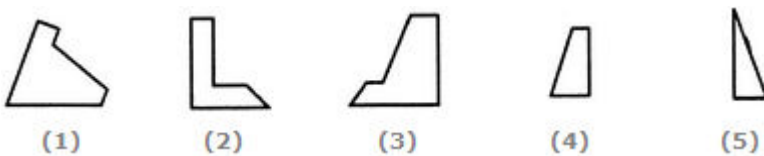


3

Question Number: 37

Select the alternative which represents three out of the five alternative figures which when fitted into each other would form a complete square.

కింద ఇచ్చిన ఐదింటిలో ఏ మూడు వాడితే పూర్తిగా సంపూర్ణ చదరం తయారవుతుంది

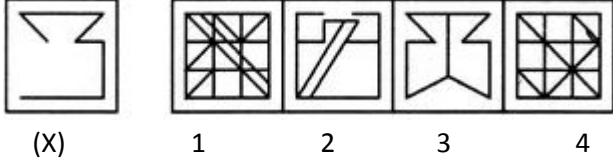


145

Question Number: 38

Find out the alternative figure which contains figure (X) as its part.

కింద ఇచ్చిన వాటిలో ఏ బొమ్మ (X) అనే బొమ్మను ఒక భాగంగా కలది



1

Question Number: 39

Find the number of triangles in the given figure

కింద ఎన్ని త్రికోణాలున్నాయో కనుక్కోండి



28

Question Number: 40

If one-third of one-fourth of a number is 15, then three-tenth of that number is:

40. ఒక సంఖ్య యొక్క మూడోవంతులో నాలుగోవంతు 15 అయితే, దాని మూడింటిలో పదోవంతు ఎంత?

54

Question Number: 41

An error 2% in excess is made while measuring the side of a square. The percentage of error in the calculated area of the square is:

41. ఒక చతురస్రాన్ని కొలిచేటప్పుడు ఒక భాగంలో 2% ఎక్కువ కొలిస్తే మొత్తం చతురస్రం కొలతలో ఎంతశాతం

పెరుగుతుంది?

4.04%

Directions (Question Number 42 to 44) Study the following table and answer the questions.

కింద ఇచ్చిన పట్టికను చూచి తర్వాత ప్రశ్నలకు సమాధానమివ్వండి

Number of Candidates Appeared and Qualified in a Competitive Examination from Different States over the Years.

పోటీ పరీక్షలలో పాల్గొని వివిధ రాష్ట్రాలనుంచి వేర్వేరు సంవత్సరాలలో ఉత్తీర్ణత సాధించిన వాళ్ళు...

State	Year
-------	------

	2014		2015		2016		2017		2018	
	App.	Qual.	App.	Qual.	App.	Qual.	App.	Qual.	App.	Qual.
M	5200	720	8500	980	7400	850	6800	775	9500	1125
N	7500	840	9200	1050	8450	920	9200	980	8800	1020
P	6400	780	8800	1020	7800	890	8750	1010	9750	1250
Q	8100	950	9500	1240	8700	980	9700	1200	8950	995
R	7800	870	7600	940	9800	1350	7600	945	7990	885

Question Number: 42

Total number of candidates qualified from all the states together in 2014 is approximately what percentage of the total number of candidates qualified from all the states together in 2015?

లో అన్ని రాష్ట్రాలనుంచి మొత్తం ఉత్తీర్ణులైన వారి సంఖ్య, 2015 లో అన్ని రాష్ట్రాలనుంచి మొత్తం ఉత్తీర్ణులైన వారి సంఖ్య లో ఎంత శాతం?

80%

Question Number: 43

The percentage of total number of qualified candidates to the total number of appeared candidates among all the five states in 2016 is?

2016 లో ఐదు రాష్ట్రాలనుంచి మొత్తం ఉత్తీర్ణులైన వారి సంఖ్య మొత్తం పోటీ పరీక్షల్లో పాల్గొన్న వారిలో ఎంత శాతం?

11.84%

Question Number: 44

In which of the given years the number of candidates appeared from State P has maximum percentage of qualified candidates?

ఇవ్వబడిన వాటిలో P రాష్ట్రం నుంచి ఉత్తీర్ణులైన వారు ఏ సంవత్సరంలో అధికశాతం?

2018

Question Number (45-47):

Question Label: Reasoning

A, B, C, D, E, F, G, H and I are nine houses. C is 4 Km east of B. A is 2 Km north of B and H is 4 Km south of A. G is 2 Km west of H while D is 6 Km east of G and F is 4 Km north of G. I is situated just in middle of B and C while E is just in middle of H and D.

ప్రశ్నలు: (45-47):

ప్రశ్న విధానం : తార్కికం

A, B, C, D, E, F, G, H అండ్ I అనేవి తొమ్మిది ఇళ్ళు. Bకి C 4కి.మీ. తూర్పుకు ఉంది. Bకి A 2కి.మీ. ఉత్తరాన, Aకి H 4 దక్షిణాన ఉంది. H కి 2 కిమీ పశ్చిమాన G, కాని G కి D 6 కిమీ తూర్పున, G కి F 4కిమీ ఉత్తరాన ఉన్నాయి. I అనే ఇల్లు B, C లకు మధ్యగాను, E అనే ఇల్లు H, D లకు మధ్యగాను ఉన్నాయి.

Question Number 45:

Distance between E and G is:

4 km

E, G ల మధ్యనున్న దూరం:

4 km

Question Number 46:

Distance between E and I is:

2 km

E, I మధ్యనున్న దూరం:

2 km

Question Number 47:

Distance between A and F is:

2 km

A, F లకు మధ్యనున్న దూరం:

2 km

Question Number: 48

Find the number (?)

అంకెను కనుక్కోండి?

2	8	9
3	2	4

3	6	?
---	---	---

1

Question Number: 49

Which letter replaces the question mark-

ప్రశ్నార్థకాన్ని ఏ అక్షరం నింపుతుంది?

6	4	4	1
4	N	L	7
5	U	?	1
6	10	14	2

Q

Question Number: 50

A shopkeeper sold an article for Rs. 47.25 and gained as much percent as the cost price of the article. The cost price of article is:

Rs. 35

1. ఒక అంగడి యజమాని ఒక వస్తువును 47.25 అమ్మి, ఆ వస్తువు ధరకు సమానమైన లాభశాతాన్ని పొందాడు. ఆ వస్తువు ధర ఎంత?

రూ . 35

In the following passage, some words are missing. Fill in the blanks with the options given in Q 51 to 60:

కింద ఇచ్చిన దానిలో కొన్ని పదాలు లేవు. ఖాళీలను Q 51 to 60 ప్రశ్నలలో ఇచ్చిన

జవాబులతో పూర్తి చేయండి.

In all essays _____(41) is the most _____(42)virtue. You should write in a simple and _____(43) manner. The choice of words should be _____(44). Try not to use _____(45) words merely because they are _____(46). Do not allow poetic images or _____(47) to spoil the grace of good style. It is no longer _____(48) to stuff your

essay with too many _____(49) or proverbs especially if their relevance is _____(50).

51. **simplicity**
52. **admired**
53. **straightforward**
54. **effective**
55. **Difficult**
56. **distant**
57. **similes**
58. **fashionable**
59. **quotations**
60. **doubtful**

Read the following passage and answer the questions (61 to 67) given below:

కింది పేరాను చదివి (61 to 67) ప్రశ్నలకు జవాబివ్వండి

When I go into a bank, I get nervous. The clerks make me nervous; the little windows at the counters make me nervous; the sight of the money makes me nervous; everything makes me nervous. The moment I go through the door of a bank and attempt to do business there, I become an irresponsible fool. I knew this before I went in, but my salary had been raised to fifty-six dollars a month and I felt that the bank was the only place for it. So, I walked in with dragging feet and looked shyly round at the clerks. I had an idea that a person about to open an account was obliged to consult the manager. I went up to a counter marked 'Accountant'. The Accountant was a tall, cool fellow. The very sight of him made me nervous. My voice was deep and hollow. 'Can I see the manager?' I said, and added solemnly, 'alone.' I don't know why I said 'alone.' 'Certainly,' said the accountant, and fetched him. The manager was a grave, calm man. I held my fifty-six dollars clutched in a screwed-up ball in my pocket. 'Are you the manager?' I said. god knows I didn't doubt it. 'Yes,' he said. 'Can I see you,' I asked, 'alone?' I didn't want to say 'alone' again, but without it the thing seemed obvious. The manager looked at me in some alarm. He felt that I had a terrible secret to reveal.

'Come in here,' he said, and led the way to a private room He turned the key in the lock. 'We are safe from interruption here,' he said: 'sit down. 'We both sat down and looked at each other. I found no voice to speak. 'You are one of Pinkerton's me, I suppose,' he said. He had gathered from my mysterious manner that I was a detective. I knew what he was thinking, and it made me worse. 'No, not from

Pinkerton's,' I said, seeming to suggest that I came from a rival agency. 'To tell the truth,' I went on, as if I had been tempted to lie about it, 'I am not a detective at all. I have come to open an account. I intend to keep all my money in this bank.'

61. How was the narrator in the bank?

Nervous

62. Why did the narrator go to the bank?

To open an account

63. The narrator's voice became _____ on seeing the accountant.

Hollow

64. What did the narrator ask the accountant?

He asked to see the manager 'alone'

65. The manager took him to a private room because _____.

he thought the man had a terrible secret to reveal

66. Pinkertons is a _____.

detective agency

67. The narrator's salary was _____.

56 dollars

Read the following passage and answer the questions (68 to 74) given below:

కింది పేరాను చదివి (68 to 74) ప్రశ్నలకు జవాబివ్వండి

Mulla Nasruddin woke up in the middle of the night and saw something white in the garden. It seemed to be moving towards the house. "That is a thief!" he thought. "By the time I get help, the thief will have escaped", so saying, he took his gun and shot at the thief. Then he went back to bed, because he was too frightened to go out of the house in the dark. The next morning Nasruddin went out and saw one of his best white shirts hanging on the clothesline in the garden. His wife had washed it the day before and hung it out to dry. Now it had a bullet hole right through the middle of it.

“My God,” said Nasruddin, “I was lucky last night. If I had been wearing that shirt, the bullet would have killed me!” And calling his neighbours together, he asked to thank God for saving him.

68. What did he think was the moving object?

A thief

69. He did not call for help because _____

He thought the thief will escape by the time he called for help

70. What did he do?

He took his gun and shot the thief.

71. Frightened means _____

afraid

72. What did he see next morning?

He saw one of his white shirts hanging in the clothesline.

73. Nasruddin said that _____

The bullet would have killed him if he had been wearing the shirt

74. From the passage we know that MullaNasruddin was_____

. foolish

Read the following passage and answer the questions (75 to 80) given below:

కింది పేరాను చదివి (75 to 80) ప్రశ్నలకు జవాబివ్వండి

Being able to communicate effectively is one of the most important life skills to learn. Communication is defined as transferring information to produce greater understanding. It can be done vocally (through verbal exchanges), through written media (books, websites, and magazines), visually (using graphs, charts, and maps) or non-verbally (body language, gestures, pitch of voice, and tone). All of these means of communication are essential Soft Skills that are vital for a successful Career.

Having strong communication skills aids in all aspects of life – from professional life to personal life and everything that falls in between. From a business standpoint, all transactions result from communication. Good communication skills are essential to

allow others and yourself to understand information more accurately and quickly. In contrast, poor communication skills lead to frequent misunderstanding and frustration. In a 2016 LinkedIn survey conducted in the United States, communication topped the list of the most sought-after soft skills among employers.

To become a good communicator, it is important to be a good listener. It is important to practice active listening – pay close attention to what others are saying and clarify ambiguities by rephrasing their questions for greater understanding. It is important to practice good body language, use eye contact, utilize hand gestures, and watch the tone of the voice when communicating with others. A relaxed body stance with a friendly tone will aid in making you look approachable by others. Eye contact is important in communication – look the person in the eye to indicate that you are focused on the conversation. But make sure to not stare at the person as it can make him or her uncomfortable. Respecting what others have to say and acknowledging them is an important aspect of communication. Being respectful can be as simple as paying attention to what they have to say, using the person’s name, and not being distracted. By respecting others, the other person will feel appreciated, which will lead to a more honest and productive conversation.

75. Communication is _____

transfer of information for understanding

76. Communication can be done _____

all the above

77. Poor communication leads to _____.

misunderstanding and frustration

78. To become a good communicator, one has to _____.

practice active listening

79. _____ indicates that a person is focused on the conversation.

Looking a person in the eye

80. Respecting others leads to _____

honest and productive conversation

In the following passage, some words are missing. Fill in the blanks with the options given: (Q 81 to 90)

కింద ఇచ్చిన దానిలో కొన్ని పదాలు లేవు. ఖాళీలను(Q 81 to 90) ప్రశ్నలలో ఇచ్చిన జవాబులతో పూర్తి చేయండి.

The mind filled with _____(31) causes agitation, suffering and _____(32). A person needs to develop his/her intellect and use it to _____(33), regulate and gradually annihilate the desires. Desire is the _____(34) between a human being and God. That explains why _____(35) have personified desire as the devil. An _____(36) mind produces endless desires. The mind is like _____(37). A person has to feed fire with logs and logs of wood. It consumes them all and is ready for more. So is the _____(38) insatiable. All the _____(39) that humans suffer from is but mental agitation caused by _____(40) desires.

81. desires
82. sorrow
83. control
84. barrier
85. religions
86. uncontrolled
87. fire
88. mind
89. stress
90. unfulfilled

91. Arrange the following sentences to form a meaningful paragraph

కింది వాక్యాలను అర్థవంతమైన పేరాగా అమర్చండి

- A. Once Little Tony and his mother were travelling in a plane.
- B. Little Tony ran into her and upset everything.
- C. After half an hour he started running around and disturbing everyone.
- D. At the same time the hostess came with tea and coffee.

ACDB

92. Arrange the following sentences to form a meaningful paragraph

కింది వాక్యాలను అర్థవంతమైన పేరాగా అమర్చండి

- A. The people were surprised to see them.
- B. They said that it helped them to come from the other shore to this shore.

- C. Once five idiots were carrying a boat on their heads.
- D. So the people asked them what they were doing.
- E. They also said that they were indebted to the boat and will carry it in gratitude.

CADBE

93. Arrange the following sentences to form a meaningful paragraph

కింది వాక్యాలను అర్థవంతమైన పేరాగా అమర్చండి

- A. He was hospitalised for a month and spent a huge amount.
- B. Pong had a little sore under his arm.
- C. His neighbour forced him and took him to a doctor.
- D. Pong ignored the sore thinking it will get cured by itself.
- E. The sore started spreading all over his body.

BDECA

94. Arrange the following sentences to form a meaningful paragraph

కింది వాక్యాలను అర్థవంతమైన పేరాగా అమర్చండి

- A. Arnab went to the doctor every day.
- B. The doctor humoured him and actually looked forward to his visits.
- C. There was nothing wrong with him but he went every day.
- D. When the doctor asked him why he did not come the previous day he replied that he was sick.
- E. One day he did not go to the doctor.

ACBED

Rearrange the given sentences in correct order to form a meaningful passage and answer the questions (95 to 97) given below:

కింది వాక్యాలను అర్థవంతమైన పేరాగా అమర్చి, (95 - 97 ప్రశ్నలకు సమాధానమివ్వండి

- A. Then he heard a merchant shout, "A reward! A reward to the one who finds my leather purse!"
- B. The beggar went home happily.
- C. He handed over the purse to the merchant and asked him to give the reward to him.
- D. A beggar found a leather purse with 100 pieces of gold.
- E. The merchant took the purse and gave him the reward.

95. What is the first sentence in the passage?

D

96. What is the third sentence in the passage?

C

97. What is the last sentence of the passage?

B

Choose the correct spelling to fill in the blanks (Q98 to 100):

సరైన స్పెల్లింగ్ ను ఎన్నుకొని(Q98 - 100) ఖాళీలను నింపండి

98. He has a ___ in his pocket.

handkerchief

99. He played the _____.

guitar

100. There are a few ___ in the sky.

clouds

101. Pick out the word which is not correctly spelled

ఏ పదం యొక్క స్పెల్లింగ్ సరిగా లేదో కనుక్కోండి

Accommodate

102. Pick out the word which is not correctly spelled

ఏ పదం యొక్క స్పెల్లింగ్ సరిగా లేదో కనుక్కోండి

Competitive

103. Pick out the word which is not correctly spelled

ఏ పదం యొక్క స్పెల్లింగ్ సరిగా లేదో కనుక్కోండి

Gratitude

104. Pick out the word which is not correctly spelled

ఏ పదం యొక్క స్పెల్లింగ్ సరిగా లేదో కనుక్కోండి

Tolarate

105. Pick out the word which is not correctly spelled

ఏ పదం యొక్క స్పెల్లింగ్ సరిగా లేదో కనుక్కోండి

Grivance

The following passage is not edited. Find the errors and choose the right answer (Q 106 to 113) to correct the errors:

కింద ఇచ్చిన పేరా ఎడిట్ చేయబడలేదు. తప్పులను కనుక్కుని వాటిని (Q 106 - 113) ప్రశ్నల జవాబులతో

దిద్దండి

Monsoon is vigorous over the West coast. The coastal regions for Kerala and Karnataka received incessant rains. This was good news for water-starved Tamil Nadu. All their dams were getting nearly full. There was great joyous amidst the farmers of the delta region. A good harvest was at last possibly after years of continuous disappointments. It is at this time that a well -marked low pressure area lay centred off the coast of Cuddalore, in the East coast. As a result, for this depression it started raining all over Tamil Nadu too. There was relief from the sweltering heat and the parched land received some rains. The irrigation tanks are getting filled up fast. It has been thrashing for six hours. The rains would not stop for three days. Even children were happy, through for other reasons.

106. Monsoon is vigorous over the West coast.

error- is, correction- was

107. The coastal regions for Kerala and Karnataka received incessant rains.

error- for, correction- of

108. This was good news for water-starved Tamil Nadu

error- this, correction – that

109. All their dams were getting nearly full.

error- their, correction-its

110. There was great joyous amidst the farmers of the delta region..

error- joyous, correction- joy

111. The irrigation tanks are getting filled up fast.

error- are, correction- were

112. It has been thrashing for six hours

error- has been, correction- had been

113. Even children were happy, through for other reasons.

error- through, correction- though

In each of the sentences given below there is a word/ phrase that is given in bold and underlined. Choose the right option to replace the word/phrase to correct the error: (Q 114 to 121)

కింది వాక్యాలలో పదం/ పదబంధం బోల్డ్ చేసి కింద గీత గీయబడింది. కింది(Q 114 - 121) ప్రశ్నలకు తగిన జవాబులను ఈయబడిన పదం/ పదబంధం లో నుంచి ఎన్నుకొని తప్పును దిద్దండి.

114. Shakespeare lived **for** the reigns of Elizabeth I and James I.

during

115. I **am waiting** for you since 8 o' clock this morning.

have been waiting

116. My sister is coming to India for an **extending** stay.

Extended

117. Let's buy a new car with the annual bonus. **Can we?**

Shall we?

118. I do not know why she avoids **to speak to me.**

speaking to me

119. It is **humid as** yesterday.

as humid as

120. She did not like the movie, **nor I did.**

nor did I

121. He is too impatient **for tolerating** any delay.

to tolerate

122. Identify the sentence that has the right punctuation marks.

కింది వాక్యాలలో సరైన విరామ చిహ్నాలు పాటించినదేది?

"Do you want to leave?", asked Jim.

123. Identify the sentence that has the right punctuation marks.

కింది వాక్యాల్లో సరైన విరామ చిహ్నాలు పాటించినదేది?

Oh, what delicious food!

124. Identify the sentence that has the right punctuation marks.
కింది వాక్యాల్లో సరైన విరామ చిహ్నాలు పాటించినదేది?

He said, "I will surely win."

125. Identify the sentence that has the right punctuation marks.
కింది వాక్యాల్లో సరైన విరామ చిహ్నాలు పాటించినదేది?

It is hot, isn't it?

126. Identify the sentence that has the right punctuation marks.
కింది వాక్యాల్లో సరైన విరామ చిహ్నాలు పాటించినదేది?

Two hundred years ago, there was a princess named May Yee.

127. Identify the sentence that has the right punctuation marks.
కింది వాక్యాల్లో సరైన విరామ చిహ్నాలు పాటించినదేది?

"Too bad," said the scholar, "You have wasted half your life."

128. Identify the sentence that has the right punctuation marks
కింది వాక్యాల్లో సరైన విరామ చిహ్నాలు పాటించినదేది?

She has to buy salt, sugar, milk and honey.

129. Identify the sentence that has the right punctuation marks
కింది వాక్యాల్లో సరైన విరామ చిహ్నాలు పాటించినదేది?

One rainy night, two men entered an inn to rent rooms.

130. Identify the sentence that has the right punctuation marks
కింది వాక్యాల్లో సరైన విరామ చిహ్నాలు పాటించినదేది?

Would you like to have tea?

131. Identify the sentence that has the right punctuation marks
కింది వాక్యాల్లో సరైన విరామ చిహ్నాలు పాటించినదేది?

Alas, we lost the match!

132. Identify the sentence that has the right punctuation
కింది వాక్యాల్లో సరైన విరామ చిహ్నాలు పాటించినదేది?

"So, what do you want?" he inquired.

133. A shopkeeper sold an article for Rs. 47.25 and gained as much percent as the cost price of the article. The cost price of article is:

Rs. 35

ఒక అంగడి యజమాని ఒక వస్తువును 47.25 అమ్మి, ఆ వస్తువు ధరకు సమానమైన లాభశాతాన్ని పొందాడు. ఆ వస్తువు ధర ఎంత?

రూ . 35

134. A's share to B's share is 3 : 4 and B's share to C's share is 6 : 7. The ratio of the share of A to C is:

9 : 14

A' భాగం B' భాగంతో పోలిస్తే 3 : 4 , B' భాగం C' భాగంతో పోలిస్తే 6 : 7. A భాగం C భాగంతో పోలిస్తే, శాతం:

9 : 14

135. A train takes half an hour more to do a journey when it is running at 25 Km an hour than when it is running 30 Km an hour. The length of the journey is:

75 Km

ఒక రైలు 30 కి.మీ గంటకు వెళ్ళేటప్పటికన్నా గంటకు 25 కి.మీ. వేగంతో వెళితే అరగంట సమయం ఎక్కువ తీసుకుంటుంది, చేరే స్థలం దూరం:

75 Km

136. 40% of 70% of a number is 336. What is 1/3rd of that number?

400

336 అంకెకు 70% లో 40%. ఆ అంకెకు 1/3 ఎంత?

400

137. The greatest length which may be used to measure exactly $13\frac{3}{4}$ ft., $17\frac{1}{2}$ ft., 20 ft., and $21\frac{1}{4}$ ft. is given by:

15"

$13\frac{3}{4}$, $17\frac{1}{2}$, 20, $21\frac{1}{4}$ అడుగులను కొలవడానికి కింద ఇవ్వబడిన కొలతల్లో అత్యధికమైంది:

15"

138. The missing digit which makes 345 ? 02 divisible by 11, is:

2

345 ? 02 కింద ఇచ్చిన అంకెల్లో ఇక్కడ లేని అంకె, 11 భాగింపబడేది ఏది?

2

139. Simplify:

$$2 + \frac{1}{3 + \frac{1}{1 + \frac{1}{4}}}$$

19
43

సింప్లిఫై చేయండి:

$$2 + \frac{1}{3 + \frac{1}{1 + \frac{1}{4}}}$$

19
43

140. A cistern can be filled up with water by a pipe in 5 hours and it can be emptied by a second pipe in 4 hours. If both the pipes are opened when the cistern is full, the time in which it will be emptied is:

20 hours

ఒక తొట్టిని ఒక పైపు తో 5 గంటల్లో నింపవచ్చు, అదే తొట్టిని మరొక పైపుతో 4 గంటల్లో ఖాళి చేయవచ్చు, మరి రెండు పైపులు తెరిచి ఉంచితే ఆ తొట్టి నిండడానికి పట్టే సమయం:

20 hours

141. Rs. 31 is the difference between the simple interest and compound interest, after 3 years of a sum at an annual interest rate of 10%. How much is the sum?

1000

మామూలు వడ్డీకి చక్రవడ్డీకి తేడా 31రూపాయలు, అయితే 3 సంవత్సరాల్లో 10% శాతం వడ్డీ కడితే అసలు ఎంత?

1000

142. A two digit number is such that the product of its digits is 56. When 9 is subtracted from the number, the digits interchange their positions. The number is:

87

ఒక రెండు డిజిట్ల సంఖ్య యొక్క ప్రొడక్టు 56. అందులో నుంచి 9 తీసివేస్తే, ఆ డిజిట్లు తమ స్థానాలు మారుతాయి, మరి ఆ సంఖ్య:

87

143. The sum of two numbers is 20; their product is 40. The sum of their reciprocals is:

1
2

రెండు అంకెల మొత్తం 20; దాని ప్రోడక్టు 40. దాని రెసిప్రోకల్ యొక్క మొత్తం:

1
2

144. The mean value of 17 observations is 30. If the mean value of first 9 observations is 35 and that of last 9 observations is 23, the ninth observation is:

12

17 పరిశీలనల సగటు విలువ 30. మొదటి 9 పరిశీలనల సగటు విలువ 35, చివరి 9 పరిశీలనల సగటు విలువ 23, అయితే మరి తొమ్మిదవ పరిశీలన విలువ:

12

145. 12 observations are arranged in ascending order. 6th and 7th observations are 14 and 15 respectively. What would be the median of all the 12 observations?

14.5

12 పరిశీలనలు ఆరోహణ క్రమంలో చేయబడ్డాయి. 6th & 7th పరిశీలనలు క్రమంగా 14 & 15. 12 పరిశీలనల సగటు ఎంత?

14.5

146. Relation Between mean, median and mode is

Mode = 3Median – 2Mean

మీన్ , మీడియన్, మోడ్ ల మధ్య సంబంధం:

మోడ్= 3 మీడియన్ – 2 మీన్

147. Which of the following is not central tendency?

Mean Deviation

కింది వాటిల్లో ఏది కేంద్ర ధోరణి కాదు?

మీన్ డివియేషన్

148. A student got marks in 5 subjects in a monthly test are given below

2, 3, 4, 5, 6

In these obtained marks, 4 is the

Mean and Median

ఒక విద్యార్థికి నెలసరి పరీక్షలో వచ్చిన మార్కులు కింద ఇవ్వబడ్డాయి.

2, 3, 4, 5, 6

ఈ వచ్చిన మార్కుల్లో 4 :

మీన్ , మీడియన్

149. When a plot is sold for Rs. 18,700, the owner loses 15%. At what price must that plot be sold in order to gain 15%?

Rs. 25,300

ఒక స్థలం 18,700 కు అమ్మినపుడు అమ్మిన వ్యక్తికి 15% నష్టం వచ్చింది. మరి ఎంతకు అమ్మితే 15% లాభం వస్తుంది?

రూ. 25,300

150. find the odd number out

3. 41, 43, 47, 53, 61, 71, 73, 81

81

కింది అంకెల్లో జతపడనిది ఏది?

3,41,43, 47, 53,61,71, 73, 81

81